

الاجتماعيات

للف الثالث المتوسط

👉 يتكون كتاب الاجتماعيات من ثلاث وحدات وهي كالتالي

📁 الوحدة الاولى : الجغرافية وتتكون من فصلين

- الفصل الاول : الخصائص الطبيعية لجغرافية العراق
- الفصل الثاني : الخصائص البشرية لجغرافية العراق

📁 الوحدة الثانية : التاريخ ويتكون من فصلين

- الفصل الاول : العراق في العهد العثماني
- الفصل الثاني : العراق اثناء الحرب العالمية الاولى وما بعدها

📁 الوحدة الثالثة : التربية الوطنية وتتكون من فصلين

- الفصل الاول : القيم الوطنية والاجتماعية
- الفصل الثاني : قضايا اجتماعية عامة

ملاحظة ➡ الملزمة معززه بالاختبارات الشهرية مع نموذج اختبار نصف السنة مع نماذج

الاسئلة الوزارية للسنوات السابقة ولجميع الادوار. جميع الحلول النموذجية للأسئلة الوزارية

موجوده في الملزمة

الاستاذ : نبيل عبد الكريم

محافظة : الديوانية

جميع مواقع التواصل الاجتماعي على الرقم ٠٧٨٣٠٩٣٣٥٢٦

عزيزي الطالب سنتناول في هذا الفصل دراسة اغلب الخصائص الطبيعية لجغرافية العراق وهي:

١- موقع العراق الجغرافي والفلكي :

س/ اين يقع وطننا العراق (جغرافيا - وفلكياً) ؟

الجواب

• الموقع الجغرافي :

- بالنسبة للعالم : يقع وطننا العراق في النصف الشمالي من الكرة الارضية
- بالنسبة لقارات العالم : فإنه يقع في القسم الجنوبي الغربي من قارة اسيا ، والقسم الشمالي الشرقي من العالم العربي .

• الموقع الفلكي :

- بالنسبة لدوائر العرض : يقع ما بين دائرتي عرض (٢٩ - ٣٧) شمالاً
- بالنسبة لخطوط الطول : وخطي طول (٣٨ - ٤٨) شرقاً

وبهذا يكون امتداده من الشرق الى الغرب يساوي امتداده من الشمال الى الجنوب .

معلومات اثرائية :

خطوط الطول : هي انصاف دوائر وهمية يبلغ عددها (٣٦٠ خط) ولها اهمية في تحديد الوقت

دوائر العرض : هي دوائر وهمية تحيط بالكرة الارضية وهي غير متساوية في الطول ويبلغ عددها (١٨٠ دائرة) ولها اهمية في تحديد نوع المناخ السائد.

س/ ما الاهمية التي تشكلها دوائر العرض وخطوط الطول ؟

خطوط الطول : لها اهمية في تحديد الوقت

دوائر العرض : ولها اهمية في تحديد نوع المناخ السائد

معلومات اثرائية :

فراغ / تبلغ مساحة الكرة الارضية **٥١٠ مليون كم ٢** ، وتقدر مساحة البحار والمحيطات بنحو **٧٠.٧%** من مساحة الكرة الارضية في حين ما تبقى من الكرة الارضية وقدرها **٢٩,٣** تشغلها اليابسة من القارات .

٢_ حدود العراق

س/ ماهي اهم البلدان التي تحيط بوطننا العراق من جهاته الاربع ؟

الجواب

الشمال تركيا ومن الشرق ايران ومن الجنوب الكويت ومن الغرب سوريا والأردن والسعودية.

س/ كم تبلغ اطوال الحدود البرية مع البلدان المجاورة للعراق؟

الجواب

جميع حدوده البرية تساوي **٣٤٦٢ كم** منها (٣٧,٥ %) كم مع ايران و (٢٣,٥ %) كم مع السعودية و (١٧,٤ %) كم مع سوريا و (١١ %) كم مع تركيا و (٥,٦ %) كم مع الكويت و (٥ %) كم مع الاردن .

فراغ / تتمثل حدود العراق البحرية بالخليج العربي وتقدر حوالي **٦٠ كم**



خريطة (٢) حدود العراق مع دول الجوار

٣_ مساحة العراق وشكله

فراغ / تقدر مساحة العراق بنحو ٤٣٥,٠٥٢ كم^٢ وقد انعكست مساحته على تنوع التضاريس والمناخ والنبات الطبيعي .

س/ ما المزايا التي يتمتع بها شكل العراق ، بينها ؟

الجواب/ يعد شكل العراق الشكل الدائري للدولة، تقع العاصمة بغداد في وسطه ، شكله المتلاحم له افضلية من الناحية السياسية والاقتصادية ، تقليل المسافات بين جهات وطننا العراق

أهمية موقع العراق

لموقع العراق الجغرافي مكانه مهمة بالنسبة لدول العالم ، ناقش ذلك ؟

س عدد بنقاط أهمية موقع العراق الجغرافي ؟

الجواب

١. يتضمن ثروات اقتصادية متنوعة.
 ٢. يحتل موقع جغرافي متميز ، فضلا عن اشرافه على القسم الشرقي من الدول العربية ضمن منطقة الهلال الخصيب.
 ٣. يعد نقطة وصل بين قارات العالم الثلاثة (اسيا ، اوربا ، افريقيا) .
 ٤. يقع عند اقصر الطرق البرية التي توصل بين المحيط الهندي والبحر المتوسط.
 ٥. يعد من اهم الطرق الجوية الصالحة لنقل الجوي .
 ٦. يعد احدى مناطق الارتكاز في العالم .
- علل / يعد العراق من اهم خطوط النقل الجوية في العالم ؟

الجواب / اذ تجوب سماءه الكثير من خطوط الملاحة الدولية .

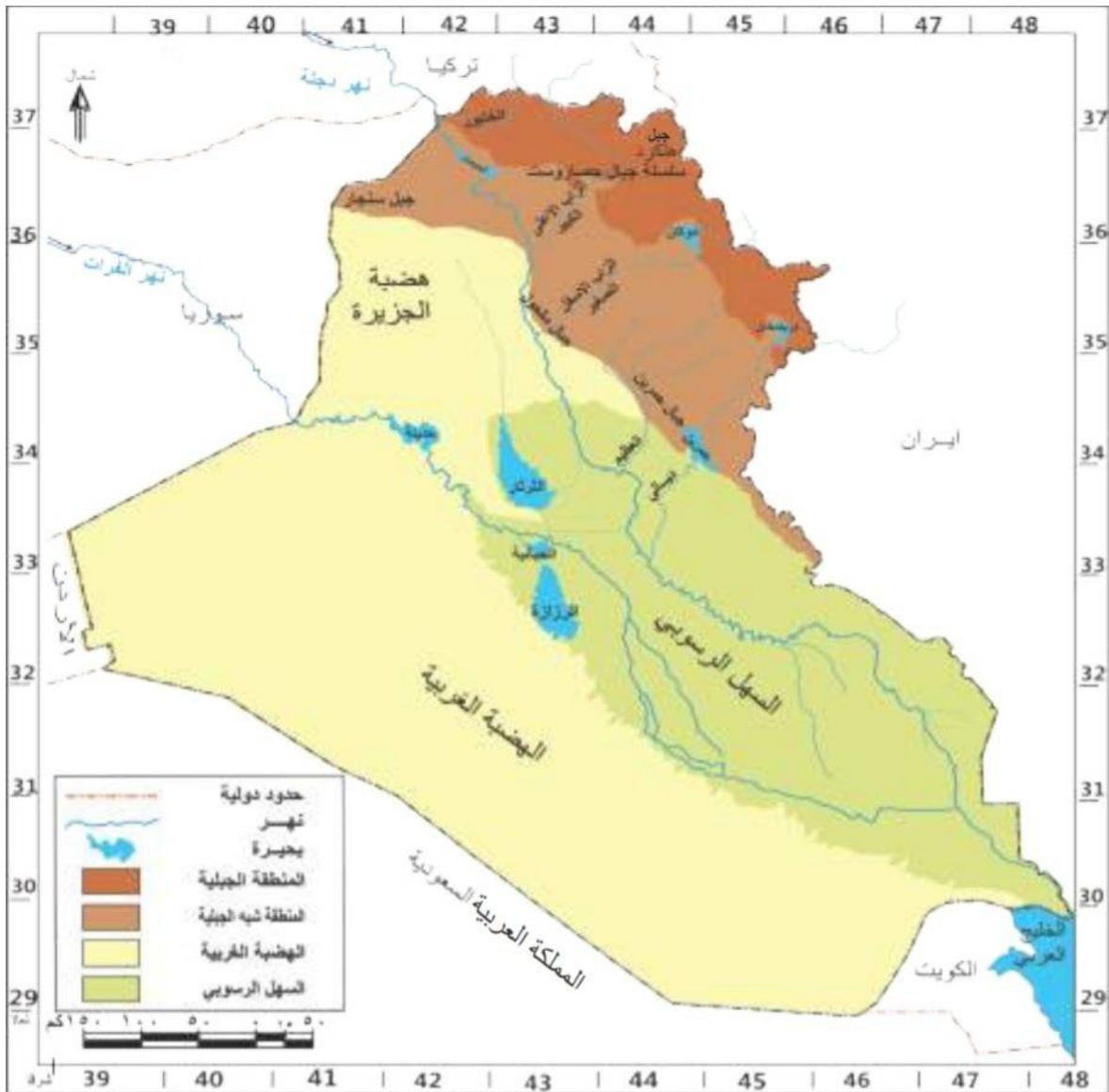
الهلال الخصيب : وهي تسمية تطلق على مجموعة من البلدان الغنية التي تكون على شكل هلال تبدأ من الخليج العربي مروراً بالعراق وسوريا ولبنان وفلسطين والاردن

اقسام سطح العراق (التضاريس)

التضاريس : وهي الاشكال السطحية التي تتكون منها القشرة الارضية من جبال وتلال وهضاب وسهول ووديان.

علل / ان تضاريس سطح العراق متنوعة ومختلفة ؟

الجواب / وذلك لان سطحه يختلف بين الشمال والجنوب ، ويختلف من الشرق عن الغرب، وعلى الرغم من ذلك الاختلاف نجد مساحات واسعة من العراق متشابهة في ترتيب سطحها الى حد بعيد



خريطة (٣) أقسام سطح العراق

١ المنطقة الجبلية

موقعها : تقع في القسم الشمالي والشمالي الشرقي من العراق ، وتكون على شكل هلال يمتد من الشمال الغربي إلى الجنوب الشرقي .

مساحتها : تشغل نسبة مئوية تقدر بـ ٦% من مساحة العراق الكلية وتمتد على شكل هلال يمتد من الشمال الغربي الى الجنوب الشرقي

س / تتكون المنطقة الجبلية من سلسلتين جبليتين ، ما هما بينهما ؟

الجواب

أ / منطقة الجبال العالية الارتفاع

تحاذي هذه المنطقة الحدود السياسية بين تركيا من الشمال وايران من الشمال الشرقي ، تتميز بكونها جبال التوائية صخورها من النوع البركاني والمتحولة ، يتراوح ارتفاعها بين (٢١٠٠ - ٣٦٠٠) م فوق مستوى سطح البحر ، ويتدرج ارتفاع المنطقة كلما اتجهنا نحو الشمال والشمال الشرقي ، وتضم أعلى قمة جبلية هي (هلكرد) ارتفاعها ٣٦٠٠ م في سلسلة جبال **حصاروست** ،

وجبل **قنديل** وجبل **سرميدان** قرب الحدود العراقية التركية .

ب / منطقة الجبال قليلة الارتفاع

تتكون من الجبال التي تقع الى الجنوب من الجبال عالية الارتفاع وتتميز هذه السلسلة بكونها قليلة الارتفاع ومن اهم جبالها (جبل بخير ، عقرة داغ ، وحرير ، وبرنان) ، ويتراوح ارتفاع قممها بين (١٤٠٠ - ٢١٠٠) م عن مستوى سطح البحر

س/ ما اهم الجبال التي تتكون منها منطقة الجبال العالية - ومنطقة الجبال قليلة الارتفاع ؟

الجواب

عالية الارتفاع : هلكرد - قنديل - سرمدان .

قليلة الارتفاع : جبل بخير ، عقرة داغ ، وحرير ، وبرنان .

س/ ما اهم المميزات الجغرافية التي تمتاز بها منطقة الجبال العالية ومنطقة الجبال بسيطة الارتفاع ؟

الجواب

الجبال العالية : تتميز بكونها جبال التوائية صخورها من النوع البركاني والمتحولة .

قليلة الارتفاع : تتميز هذه السلسلة بكونها قليلة الارتفاع .

هلكرد : وهي اعلى قمة جبلية في منطقة الجبال العالية في سلسلة جبال حصاروست التي يبلغ ارتفاعها ٣٦٠٠م فوق مستوى سطح البحر

حصاروست : وهي احدى السلاسل الجبلية التي توجد في شمال العراق والتي توجد فيها اعلى قمة جبلية هي قمة جبل هلكرد التي تبلغ ارتفاعها ٣٦٠٠م فوق مستوى سطح البحر.

قنديل - سرميدان : وهي احد الجبال العالية التي توجد في منطقة الجبال العالية في العراق والذي يقع قرب الحدود العراقية التركية .

جبل بخير ، عقره داغ ، وحرير ، وبرنان : وهو احدى الجبال الموجودة في شمال العراق ويقع ضمن منطقة الجبال بسيطة الارتفاع والتي يتراوح ارتفاعها بين (١٤٠٠ - ٢١٠٠) م فوق مستوى سطح البحر .

س/ عدد ابرز مميزات المنطقة الجبلية ؟

الجواب

١. تعد من اهم مصادر المياه في وطننا العراق
٢. تضم المنطقة الجبلية مساحات واسعة من السهول الصالحة للزراعة والاستيطان
٣. تحتوي على مجموعة من الهضاب الغنية بالمعادن
٤. تعد من اهم مناطق الرعي والزراعة

س/ عدد ابرز السهول ، والهضاب التي توجد في المنطقة الجبلية من وطننا العراق ؟

الجواب

السهول : سهل السندي (زاخو) في محافظة دهوك - سهل شهرزور ، وسهل رانية في محافظة السليمانية

الهضاب : بنجوين - بشدر - جوارته .

سهل السندي : وهو احد السهول المهمة التي تقع في المنطقة الجبلية من وطننا العراق في محافظة دهوك ويعد من اكثر السهول ملائمة للاستيطان البشري .

شهرزور - رانية : وهو احد السهول المهمة التي تقع في المنطقة الجبلية من العراق في محافظة السليمانية وتعد من اهم وافضل مناطق الاستيطان والزراعة .

بنجوين - بشدر - جوارته : وهي احدى الهضاب التي توجد في المنطقة الجبلية من العراق وتعد من اهم مناطق الرعي والزراعة .

علل / تعد المنطقة الجبلية احد مصادر المياه في وطننا العراق ؟

الجواب/ نظرا لتراكم الثلوج على قمم جبالها ووفرة امطارها التي تتجاوز (١٠٠٠ ملم) سنويا فضلا عن كونها تضم أهم الروافد المغذية لنهر دجلة

٢ المنطقة شبه الجبلية (المتوجة)

الموقع :

تقع الى الجنوب من المنطقة الجبلية ، وهي منطقة انتقالية مابين السهول واطئة الارتفاع والجبال العالية ، وتقع في اقصى الشمال والشمال الشرقي من العراق .

المساحة :

تشغل نسبة مئوية تقدر ١٥% من مساحة العراق الكلية ، ويتراوح ارتفاعها مابين (٢٠٠ - ١٠٠٠ متر) فوق مستوى سطح البحر

علل / تقسم المنطقة شبه الجبلية الى ثلاث اقسام ؟

الجواب / نظرا لتنوع الاقسام التضاريسية في المنطقة شبه الجبلية

س/ تقسم المنطقة شبه الجبلية الى ثلاث اقسام ، وضحاها ؟

الجواب

أ / منطقة التلال :

تشكل هذه المنطقة الحدود الجبلية للمنطقة شبه الجبلية وتتألف من تلال لا يتجاوز يتراوح ارتفاعها (١٠٠٠ متر) ومن امثلتها (تلال حميرين - مكحول - مقلوب - اوانه داغ - كيلابات - نفط داغ - وكاني دوملان).

ب/ الهضاب:

وهي الاقل ارتفاعا وتموجا من التلال وقد قطعتها المياه الجارية وحفرت بها وديانا عميقة وتتكون هذه الهضاب من قسمين رئيسيين يفصل بينهما سهل اربيل وهما (هضبة كركوك في الشرق - وهضبة الموصل في الغرب) .

ج/ السهول : تتحصر معظم سهول المنطقة المتموجة بين التلال ومنطقة الهضاب وقد تكونت بفعل الترسبات التي حملتها مياه الانهار ومن اهم سهولها سهل حويجة في محافظة كركوك - وسهل ديكة وسهل اربيل في محافظة اربيل.

تلال حميرين - مكحول - مقلوب - اوانه داغ - كيلابات - نفط داغ - وكاني دوملان : وهي احدى التلال الموجودة في المنطقة شبه الجبلية المتموجة والتي لا يتجاوز ارتفاعها ١٠٠٠ متر فوق مستوى سطح البحر **هضبة كركوك في الشرق - وهضبة الموصل في الغرب :** وهي احدى الهضاب التي توجد في المنطقة شبه الجبلية المتموجة من العراق والتي تقع في الشرق او الغرب من المنطقة المتموجة ويفصل بين تلك الهضاب **سهل اربيل .**

سهل الحويجة في محافظة كركوك - وسهل ديكة واربييل في محافظة اربيل : وهي احدى السهول المهمة في المنطقة شبه الجبلية المتموجة من العراق وهي عبارة عن ترسبات حملتها مياه الأنهار تقع في محافظة كركوك - اربيل).

س/ تضم المنطقة المتموجة شبه الجبلية مجموعة من (الهضاب - والسهول - التلال) عددها فقط ؟

الجواب

التلال : تلال حميرين - مكحول - مقلوب - اوانه داغ - كيلابات - نفط داغ - وكاني دوملان.

الهضاب : هضبة كركوك في الشرق - وهضبة الموصل في الغرب .

السهول : سهل الحويجة في محافظة كركوك - وسهل ديكة واربييل في محافظة اربيل.

٣ السهل الرسوبي :

موقعه : يمتد باتجاه شمالي غربي ، جنوبي شرقي وتحده من الشمال المنطقة شبه الجبلية المتموجة ومن الجنوب الخليج العربي ومن الشرق جبال زاكروس ومن الغرب الهضبة الصحراوية .

مساحته : تبلغ مساحة السهل الرسوبي بضمنها مساحة الالهوار والمستنقعات نسبة تقدر ٢٤% من مساحة العراق الكلية ، وتمتد على شكل مستطيل يبلغ طوله بنحو (٦٠٠) كم وعرضه (٢٠٥) كم .

س/ وضح بفكرة كيف تكونت منطقة السهل الرسوبي عبر الزمن ؟

الجواب

تكونت منطقة السهل الرسوبي نتيجة الترسبات التي نقلتها مياه الأنهار (دجلة والفرات) فضلا عن الانهار المنحدرة من المرتفعات الشرقية (الكارون والكرخه) وملأت الالتواء المقعر التي تشغله تلك المنطقة

س/ بماذا تمتاز منطقة السهل الرسوبي ؟

الجواب

قلة انحداره وانبساط معظم اراضيهِ ولا يتجاوز ارتفاعه جنوباً عند الخليج العربي (١٠٠متر). وجود الالهوار والمستنقعات التي تبلغ مساحتها حوالي (٢٠٠٠٠) كم ٢ على شكل مثلث تمثل مدن (العمارة والناصرية والبصرة) .

علل / صعوبة تصريف المياه في منطقة السهل الرسوبي ؟

الجواب وذلك بسبب انبساط معظم اراضيهِ وقلة انحدارها والتي لا تتجاوز ارتفاعها عند سطح الخليج العربي بنحو (١٠٠ متر) عند الحدود الجنوبية .

الالهوار والمستنقعات: وهي مسطحات مائية تغطي الاراضي المنخفضة الواقعة في الاقسام الوسطى والجنوبية من هذا السهل والتي تزيد مساحتها على (٢٠٠٠٠) كم وهي تتشكل من ثلاث محافظات وهي البصرة والناصرية والعمارة .

س / عدد بنقاط اهمية منطقة الالهوار والمستنقعات في وطننا العراق ؟

الجواب / ١- يمكن عدها خزانات طبيعية للمياه ، فضلا عن اهميتها لدفع اخطار الفيضانات

٢- امكانية استخدامها للأغراض الزراعية ولاسيما زراعة محاصيل الحبوب

٣- تضم العديد من الثروات الطبيعية والنباتية والقصب والبردي وترى فيها انواع متنوعة من الثروات الحيوانية كالأسماك والطيور والماشية

٤- لها اهمية سياحية وطبيعية نظرا لجمال طبيعتها ، اذا ما توفرت المستلزمات الضرورية لإنجاحها كشبكة طرق وانشاء دور الاستراحة والفنادق

علل / تلعب الاهوار والمستنقعات اهمية سياحية وطبيعية ؟

الجواب / نظرا لجمال طبيعتها ، اذا ما توفرت المستلزمات الضرورية لإنجاحها كشبكة طرق وانشاء دور الاستراحة والفنادق .

٤ الهضبة الصحراوية الغربية :

موقعها :

تشغل الهضبة الغربية القسم الغربي والجنوبي الغربي من العراق وتعد أكبر المناطق التضاريسية مساحة يحدها من الشمال المنطقة شبه الجبلية ومن الغرب والجنوب الحدود السياسية بين العراق وكلا من سوريا والاردن والسعودية والكويت اما من الشرق فتحدها منطقة السهل الرسوبي. مساحتها : اذا تشغل حوالي (٢٧٠٠٠٠ كم ٢) وينسبة تقدر بنحو ٥٥% من مجموع مساحة العراق الكلية وتعد هذه المنطقة امتداد لبادية الشام وهضبة جزيرة العرب .

س/ بماذا تمتاز منطقة الهضبة الصحراوية الغربية من العراق ؟

الجواب / يتصف سطحها بصورة عامة بكونه متموجا يتراوح ارتفاعه بين (٣٠٠ - ٩٠٠) متر وتندرج اراضي الهضبة في ارتفاع كلما اتجهنا نحو الغرب والشمالي الغربي ويتسم سطح الهضبة بسيادة التلال والحصى والكثبان الرملية .

س/ تضم منطقة الهضبة الصحراوية مجموعة من الأودية والمنخفضات ، بينها ؟

الجواب / الوديان : وادي حوران - وادي الابيض - وادي الخر

المنخفضات : منخفض الحبانية - الرزازة - الثرثار

وادي حوران - وادي الابيض - وادي الخر : وهو احد الأودية التي توجد في منطقة الهضبة الصحراوية من وطننا العراق .

الحبانية الرزاة : وهي احدى المنخفضات الخزنیه التي توجد في منطقة الهضبة الغربية الصحراوية من وطننا العراق والتي لها دور كبير في خزن المياه والوقاية من الفيضانات .

الثرثار : وهو احد المنخفضات الخزنیه في منطقة الهضبة الصحراوية الغربية من العراق ويعد من اهم البحيرات الذي يبلغ طوله حوالي (٣٠٠ كم) وعرضه (٤٥ كم) .

علل / تتميز الهضبة الغربية الصحراوية بفقر غطاءها النباتي ؟

الجواب / وذلك بسبب سيادة ظروف الجفاف الامر الذي جعلها معرضة لعوامل التعرية الشديدة **كالنحت والارساب**.

حل اسئلة الموقع الجغرافي والفلكي للعراق

س ١ عرف ما يأتي

هكرد : وهي اعلى قمة جبلية في منطقة الجبال العالية في سلسلة جبال حصاروست التي يبلغ ارتفاعها ٣٦٠٠م فوق مستوى سطح البحر .

قندیل : وهي احد الجبال العالية التي توجد في منطقة الجبال العالية في العراق والذي يقع قرب الحدود العراقية

ديبكه : وهي احدى السهول المهمة في المنطقة شبه الجبلية المتموجة من العراق وهي عبارة عن ترسبات حملتها مياه الأنهار تقع في محافظة (اربيل) .

وادي حوران : وهو أحد الأودية التي توجد في منطقة الهضبة الصحراوية من وطننا العراق .

مقلوب : وهي احدى التلال الموجودة في المنطقة شبه الجبلية المتموجة والتي لا يتجاوز ارتفاعها ١٠٠٠ متر فوق مستوى سطح البحر .

شهرزور : وهو احد السهول المهمة التي تقع في المنطقة الجبلية من العراق في محافظة السليمانية وتعد من اهم وافضل مناطق الاستيطان والزراعة

حمرين : وهي احدى التلال الموجودة في المنطقة شبه الجبلية المتموجة والتي لايتجاوز ارتفاعها ١٠٠٠ متر فوق مستوى سطح البحر

جوارته : وهي احدى الهضاب التي توجد في المنطقة الجبلية من العراق وتعد من اهم مناطق الرعي والزراعة .

كاني دوملان : وهي احدى التلال الموجودة في المنطقة شبه الجبلية المتموجة والتي لا يتجاوز ارتفاعها ١٠٠٠ متر فوق مستوى سطح البحر

س ٢ / املأ الفراغات التالية بالكلمات المناسبة .

- ١- تقدر مساحة العراق بحوالي ٤٣٥,٠٥٢ كيلو متر مربع .
- ٢- يقع العراق في الجزء الجنوبي الغربي من قارة اسيا وفي القسم الشمالي الشرقي من العالم العربي .
- ٣- يتمثل الموقع الفلكي للعراق بين خطي طول ٣٨ - ٤٨ ودائرتي عرض ٢٩-٣٧
- ٤- تقدر حدود العراق البرية حوالي ٣٤٦٢ كم وتقدر حدوده البحرية ٦٠ كم.
- ٥- يحده العراق من جهة الشمال تركيا في حين يحده من جهة الشرق ايران اما من الغرب فتحده سوريا

والاردن والسعودية

- ٦- تبلغ نسبة المنطقة المتموجة ١٥% من مساحة العراق الكلية .
- ٧- تعد قمة جبل هلكرد في جبال حصاروست اعلى قمة جبلية في وطننا العراق .
- ٨- من هضاب المنطقة الجبلية بنجوين وبشدر وبجوارته .
- ٩- من اهم تلال المنطقة المتموجة حمرين ومكحول .
- ١٠- تتسم الهضبة الصحراوية الغربية بكونها تضم عدد كبير من الوديات منها وداي حوران والابيض

س ٣ / حدد الموقع الجغرافية والفلكي للعراق .

الجواب / ١ - الموقع الجرافي يقع وطننا العراق في النصف الشمالي من الكرة الارضية ، وبالنسبة لقارات العالم فإنه يقع في القسم الجنوبي الغربي من قارة اسيا ، والقسم الشمالي الشرقي من العالم **العربي**

٢ - الموقع الفلكي

بالنسبة لدوائر العرض يقع عند دائرتي عرض (٢٩ - ٣٧) شمالاً

بالنسبة لخطوط الطول (٣٨ - ٤٨) شرقاً

س ٤ / تعد الاهوار والمستنقعات احدى الظواهر الجغرافية المميزة في القسم الجنوبي من السهل الرسوبي تكلم عنها؟

الجواب / وهي مسطحات مائية تغطي الاراضي المنخفضة الواقعة في الاقسام الوسطى والجنوبية من هذا السهل والتي تزيد مساحتها على (٢٠٠٠ كم^٢) وهي تشكل مثلث من ثلاث محافظات وهي البصرة والناصرية والعمارة .

١ يمكن عدها خزانات طبيعية للمياه ، فضلا عن اهميتها لدرة اخطار الفيضانات

٢ تستخدم في الزراعة ولاسيما زراعة محاصيل الحبوب .

٣ تضم العديد من الثروات الطبيعية والنباتية والقصب والبردي وتربى فيها انواع ومتنوعة من الثروات الحيوانية كالأسماك والطيور والماشية .

٤ لها اهمية سياحية وطبيعية نظرا لجمال طبيعتها ، اذا ما توفرت المستلزمات الضرورية لإنجاحها كشبكة طرق وانشاء دور الاستراحة والفنادق

س / عدد بنقاط اهمية منطقة الاهوار والمستنقعات في وطننا العراق ؟

الجواب السابق

س ٥ / علل ما يأتي ؟

١- لموقع العراق اهمية كبيرة ؟

يتضمن ثروات اقتصادية متنوعة ، يحتل موقع جغرافي متميز ، فضلا اشرافه على القسم الشرقي من الدول العربية ضمن منطقة الهلال الخصيب ، يعد نقطة وصل بين قارات العالم الثالثة (اسيا ، اوربا ، افريقيا).

٢- تعد المنطقة الجبلية احد اهم المصادر المائية ؟

نظرا لتراكم الثلوج على قمم جبالها ووفرة امطارها التي تتجاوز (١٠٠٠ ملم) سنويا فضلا عن كونها تضم اهم الروافد المغذية لنهر دجلة

٣- تعاني منطقة السهل الرسوبي من صعوبة في تصريف المياه ؟

وذلك بسبب انبساط معظم اراضيها وقلّة انحدارها والتي لا تتجاوز ارتفاعها عند سطح الخليج العربي بنحو (١٠٠ متر) عند الحدود الجنوبية .

٤- تتميز الهضبة الصحراوية بتعرضها لعوامل التعرية ؟

وذلك بسبب سيادة ظروف الجفاف الامر الذي جعلها معرضة لعوامل التعرية الشديدة كالنحت والارساب.

س ٦/ تكلم عن اقسام المنطقة شبه الجبلية ؟

الجواب

أ / منطقة التلال :

تشكل هذه المنطقة الحدود الجبلية للمنطقة شبه الجبلية وتتألف من تلال لايتجاوز ارتفاعها (١٠٠٠ متر) ومن امثلتها تلال (حميرين - مكحول - مقلوب - اوانه داغ - كيلابات - نفط داغ - وكاني دوملان)

ب الهضاب :

وهي الاقل ارتفاعا وتموجا من التلال وقد قطعتها المياه الجارية وحفرت بها وديانا عميقا وتتكون هذه الهضاب من قسمين رئيسيين يفصل بينهما سهل اربيل وهما (هضبة كركوك في الشرق - وهضبة الموصل في الغرب)

ج السهول :

تتحصر معظم سهول المنطقة المتموجة بين التلال ومنطقة الهضاب وقد تكونت بفعل الترسيبات التي حملتها مياه الانهار ومن أهم سهولها (سهل الحويجة في محافظة كركوك - وسهل ديبكة واريل في محافظة اربيل).

س / كيف تكون السهل الرسوبي ؟

الجواب

تكونت منطقة السهل الرسوبي نتيجة للترسبات التي نقلتها مياه الأنهار (دجلة والفرات) فضلا عن الأنهار المنحدرة من المرتفعات الشرقية (الكارون والكرخه) وملأت الالتواء المقعر التي تشغله تلك المنطقة

س ٨ / تتكون المنطقة الجبلية من سلسلتين جبليتين وضحهما مع الامثلة ؟

الجواب

منطقة الجبال العالية الارتفاع :

تحتل هذه المنطقة الحدود السياسية بين تركيا من الشمال وايران من الشمال الشرقي ، تتميز بكونها جبال التوائية صخورها من النوع البركاني والمتحولة ، يتراوح ارتفاعها بين (٢١٠٠ - ٣٦٠٠م) فوق مستوى سطح البحر ، ويتدرج ارتفاع المنطقة كلما اتجهنا نحو الشمال والشمال الشرقي ، وتضم أعلى قمة جبلية هي (هلكرد) ارتفاعها ٣٦٠٠م في سلسلة جبال حصاروست ، وجبل قنديل ، وجبل سرميدان قرب الحدود العراقية التركية .

ب منطقة الجبال قليلة الارتفاع :

تتكون من الجبال التي تقع الى الجنوب من الجبال عالية الارتفاع وتتميز هذه السلسلة بكونها قليلة الارتفاع ومن اهم جبالها (جبل بخير ، عقرة داغ ، وحرير ، ويران ، ، ويتراوح ارتفاع قممها بين (١٤٠٠ - ٢١٠٠) عن مستوى سطح البحر

س ٩ / صف الحدود المحيطة بالعراق مع ذكر اطوالها ؟

جميع حدوده البرية تساوي ٣٤٦٢ كم منها (٣٧,٥ %) كم مع ايران و (٢٣,٥ %) كم مع السعودية و (١٧,٤ %) كم مع سوريا و (١١ %) كم مع تركيا و (٥,٦ %) كم مع الكويت و ١٧٨ كم مع الاردن .

س ١٠ / تكلم عن شكل العراق موضحا مزاياه ؟

الجواب / تقدر مساحة العراق بنحو ٤٣٥,٠٥٢ كم^٢ وقد انعكست مساحته على تنوع التضاريس والمناخ والنبات يعد شكل العراق الشكل الدائري للدولة، تقع العاصمة بغداد في وسطه ، شكله المتلاحم له افضلية من الناحية السياسية والاقتصادية ، تقليل المسافات بين جهات وطننا العراق

س ١١ / حدد حدود المنطقة الصحراوية الغربية ؟

الجواب

يحدّها من الشمال المنطقة شبه الجبلية ومن الغرب والجنوب الحدود السياسية بين العراق وكلا من سوريا والاردن والسعودية والكويت اما من الشرق فتحدها منطقة السهل الرسوبي.

س ١٢ / صل الخطوط الاتية لتصل في النهاية الى خريطة وطننا العراق ؟

الجواب / تدرب على رسم خارطة العراق



المناخ والنبات الطبيعي

علل / تعد دراسة المناخ والنبات الطبيعي من الموضوعات التي يجب ان تعطى اهمية كبيرة عند دراسة الجغرافية؟

الجواب لما لها من تأثير مهم على جميع مظاهر الحياة .

س/ ميز بين الطقس والمناخ او ما المقصود بـ (الطقس - المناخ) ؟

الجواب

الطقس : هو حالة الجو من حيث (درجة الحرارة والضغط الجوي والرياح والأمطار) لمكان محدد ولمدة زمنية قصيرة (ساعة يوم اسبوع) .

على سبيل المثال : سيكون طقس بغداد لهذا اليوم ممطر ..

المناخ : هو وصف حالة الجو من حيث عناصره (درجة الحرارة والضغط الجوي والرياح والأمطار) لمكان محدد ولكن لمدة زمنية طويلة قد تكون (شهرًا او سنة او عدة سنوات)

فمثلا : يتميز مناخ العراق بكونه حار جاف صيفا معتدل ممطر شتاء

العوامل المؤثرة في مناخ العراق :

يقصد بها العوامل التي تؤثر على عناصر المناخ **الحرارة والضغط الجوي والرياح والأمطار** أو في واحدة منها.

س / عدد العوامل المؤثرة على مناخ العراق ؟

١ الموقع الفلكي بالنسبة لدوائر العرض .

٢ المسطحات المائية البحار والمحيطات

٣ التضاريس .

علل / غالبا ما تحدد عوامل المناخ صفة المناخ السائد في المنطقة ؟

الجواب نظرا لتأثيرها المباشر او تأثيرها على بقية العوامل الأخرى .

١- الموقع الفلكي بالنسبة لدوائر العرض :

ان موقع العراق الفلكي يقع بين دائرتي عرض (٢٩ - ٣٧) شمال خط الاستواء يعد من اكثر العوامل تأثيرا على المناخ **لأنه** المسؤول عن تحديد زاوية سقوط اشعة الشمس وطول النهار، اي المدة التي تشرق بها الشمس ، بصورة عمودية لاسيما خلال فصل الصيف ، اذا اكتسب صفات المنطقة المدارية فأصبح نهاره طويل صيفا ١٤ ساعة وشتاءه قصير ١٠ ساعات

علل / يعد الموقع الفلكي للعراق العامل الأكثر تأثيرا على المناخ ؟

الجواب

لأنه المسؤول عن تحديد زاوية سقوط اشعة الشمس و طول النهار، أي المدة التي تشرق بها الشمس.

س/ ما تأثير موقع العراق الفلكي على المناخ ؟

الجواب

تحديد زاوية سقوط اشعة الشمس - وطول النهار فأصبح نهار الصيف طويلاً ١٤ ساعة ونهار الشتاء قصيراً ١٠ ساعات .

٢- المسطحات المائية البحار والمحيطات :

على الرغم من وجود العديد من المسطحات المائية التي تحيط بوطننا العراق وهي الخليج العربي البحر المتوسط والبحر الاحمر - وبحر قزوين - والبحر الاسود الا ان تأثيرها يكاد يكون محدود **بسبب** بعدها وتأثير السلاسل الجبلية التي تعترض طريقها ولاسيما في شمال العراق والتي تحد من وصول المنخفضات الجوية باستثناء منخفضات **البحر المتوسط والبحر الاحمر والخليج العربي** اللذان يكون تأثيرهما محدود ويقتصر على فصل الشتاء .

س/ ما اهم المسطحات المائية التي تحيط بوطننا العراق ؟

الجواب

الخليج العربي - البحر المتوسط - والبحر الاحمر - وبحر قزوين - والبحر الاسود .

علل / يكاد يكون تأثير البحار القريبة من العراق محدود ؟

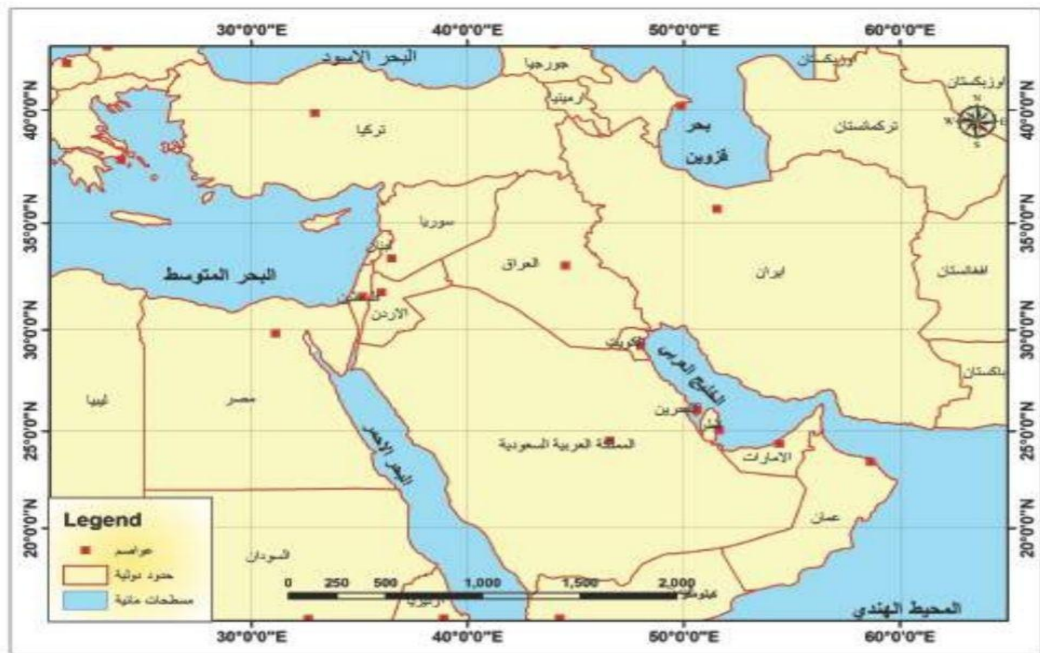
الجواب

بسبب بعدها ووجود السلاسل الجبلية التي تعترض طريقها .

س ماهي اكثر البحار تأثيرا على مناخ العراق ؟

الجواب

البحر المتوسط - البحر الاحمر - الخليج العربي .



خريطة (٥) المسطحات المائية التي تحيط بوطنا العراق

٢- التضاريس :

يتمثل دور التضاريس الأرضية بتأثيرها المباشر على بعض عناصر المناخ ولاسيما درجة الحرارة والامطار ، وبما ان وطننا تتباين تضاريس سطحه بين المنطقة الشمالية والمنطقة الجنوبية حيث ان الجبال

كان لها دور كبير في زيادة كميات الامطار وانخفاض درجات الحرارة على عكس المنطقة الجنوبية التي تنخفض فيها كميات الامطار وترتفع بها درجات الحرارة .

س/ ما هو تأثير التضاريس على المناخ ؟

الجواب السابق.

فراغ / يتمثل دور التضاريس الأرضية بتأثيرها المباشر على بعض عناصر المناخ لاسيما درجة الحرارة والامطار .

عناصر المناخ :

س/ عدد عناصر المناخ ؟

الجواب الحرارة - الامطار - الضغط الجوي - الرياح .

علل / يختلف تأثير عناصر المناخ من حيث الحرارة والامطار والضغط الجوي والرياح بين انحاء العراق

الجواب نظرا لتباين الظروف الطبيعية كالتضاريس والنبات الطبيعي وتأثير المسطحات المائية من فصل الى آخر .

س/ وضح كيف يظهر تأثير عناصر المناخ على المناخ في العراق ؟

الجواب

يظهر تأثير عناصر المناخ بوضوح خلال فصل الصيف والشتاء وهما الفصلان الرئيسيان في العراق ، اما خلال فصلي الربيع والخريف فهما فصلان انتقاليات لا تتجاوز مدتهما الشهرين في جميع انحاء وطننا العراق، وتتميز عناصر المناخ فيها بالاعتدال

درجة الحرارة

١

س / تعد درجة الحرارة من أكثر عناصر المناخ الاخرى تأثيرا ؟

الجواب / بسبب تأثيرها على الضغط الجوي الرياح والامطار ، وتتصف درجة الحرارة في العراق بتباينها خلال الليل والنهار وبين الصيف والشتاء، أي وجود فرق كبير في درجات الحرارة بين الليل والنهار والصيف والشتاء الامر الذي حدد صفة المناخ السائد في العراق هو المناخ القاري.

فراغ الصفة السائدة للمناخ في العراق هو **المناخ القاري**

علل / تعد درجة الحرارة من اهم عناصر المناخ ؟

الجواب لتأثيرها المباشر على عناصر المناخ الأخرى كالضغط الجوي والرياح والامطار

س/ بماذا تتلخص صفات درجة الحرارة في العراق ؟

الجواب

١- ارتفاع درجات الحرارة خلال فصل الصيف في المناطق الوسطى والجنوبية ويكون المدى الحراري اليومي كبيرا بسبب الجفاف وقلة سقوط الامطار ، اما في المناطق الشمالية تميزت باعتدال درجة الحرارة فيها بسبب ارتفاعها عن مستوى سطح البحر وغزارة الامطار فيها .

٢- انخفاض درجات الحرارة خلال فصل الشتاء ولاسيما في المنطقة الشمالية من العراق اذ تصل أحيانا الى مادون الصفر المئوي ثم تتدرج بالارتفاع كلما اتجهنا جنوبا .

علل / تمتاز درجات الحرارة في المنطقة الشمالية من العراق بالاعتدال؟

الجواب بسبب ارتفاعها عن مستوى سطح البحر وغزارة الامطار فيها .

علل / يكون المدى الحراري اليومي كبير جدا في العراق اثناء الليل والنهار

الجواب بسبب الجفاف وقلة سقوط الامطار.

فراغ / تهب الرياح عادة من مناطق الضغط العالي الى مناطق الضغط الواطئ وتحمل معها صفات المناخية للمنطقة التي تهب منها .

س/ تتأثر احوال الضغط والرياح في العراق بنظامين رئيسيين للضغط ، ماهما ؟

الجواب

- منطقة الضغط الواطئ : في شبه القارة الهندية والخليج العربي
- منطقة ضغط مرتفع : فوق هضبة الاناضول .

س/ عدد انواع الرياح التي تهب على العراق في فصل الصيف ؟

الجواب

شمالية غربية : تعرف محليا (بالشمالية تساعد على تلطيف حرارة الجو كونها قادمة من مناطق باردة)

الجنوبية الغربية : ينجم عنها عواصف ترابية لاسيما في وسط وجنوب العراق ، لكونها قادمة من شبه الجزيرة العربية .

الجنوبية الشرقية : القادمة من الخليج العربي وتعرف محليا (**الشرقي**) وتكون غير مريحة بسبب رطوبتها العالية.

علل / تساعد الرياح الشمالية الغربية التي تهب على العراق في فصل الصيف على تلطيف درجة الحرارة

الجواب كونها قادمة من مناطق باردة .

علل / تسبب الرياح الجنوبية الغربية التي تهب على العراق في فصل الصيف عواصف ترابية ؟

الجواب لأنها قادمة من شبه الجزيرة العربية .

علل / تكون الرياح الجنوبية الشرقية التي تهب على العراق في فصل الصيف غير مريحة ؟

الجواب بسبب رطوبتها العالية

س/ عدد انواع الرياح التي تهب على العراق في فصل الشتاء ؟

الجواب / الشمالية الغربية : تهب على العراق في فصل الشتاء بسبب الضغط المنخفض على الخليج العربي **الشمالية الشرقية :** وهي رياح جافة باردة تؤدي الى انخفاض درجات الحرارة في المناطق التي تهب عليها **الجنوبية الشرقية :** وتتميز برطوبتها العالية وغالبا ما تسبب سقوط امطار في المناطق الجنوبية والوسطى من وطننا.

علل / تهب على العراق في فصل الشتاء الرياح الشمالية الغربية ايضا ؟

الجواب بسبب الضغط المنخفض على الخليج العربي الذي يؤثر عليها ويجعلها تهب بهذا الاتجاه.

الامطار

٣

س / ما هو السبب الرئيسي لتساقط الامطار في العراق ؟

الجواب بسبب المنخفضات الجوية القادمة من البحر المتوسط.

س / كيف يمكننا تلخيص صفات الامطار في وطننا العراق ؟

الجواب

أ / تسقط معظم الامطار على وطننا العراق خلال فصل الشتاء والتي تبدأ عادة من شهر تشرين الثاني وحتى شهر (نيسان) اما في فصل الصيف فينعدم سقوط الامطار في العراق بسبب سيادة الضغط العالي المداري وقلة الرطوبة النسبية

ب / تتباين كمية الامطار في انحاء العراق فهي تقل عادة في المناطق الوسطى والجنوبية الغربية اذا تصل كمياتها الى (٢٥٠ ملم) وتزداد تدريجيا كلما اتجهنا الى الشمال الشرقي لاسيما المناطق الجبلية لتصل الى (١٠٠٠ ملم).

فراغ / تبدأ الامطار بالسقوط في فصل الشتاء من شهر تشرين الثاني حتى شهر نيسان

علل / ينعدم سقوط الامطار في انحاء العراق في فصل الصيف ؟

الجواب بسبب سيادة الضغط العالي المداري وقلة الرطوبة النسبية .

فراغ تصل كميات الامطار في المناطق الوسطى والجنوبية الى ٢٥٠ مل اما في المناطق الشمالية ١٠٠٠ مل

علل / ساعد امتداد المنطقة الجبلية في العراق باتجاه شمالي غربي - جنوبي شرقي على كثافة الامطار فيها ؟

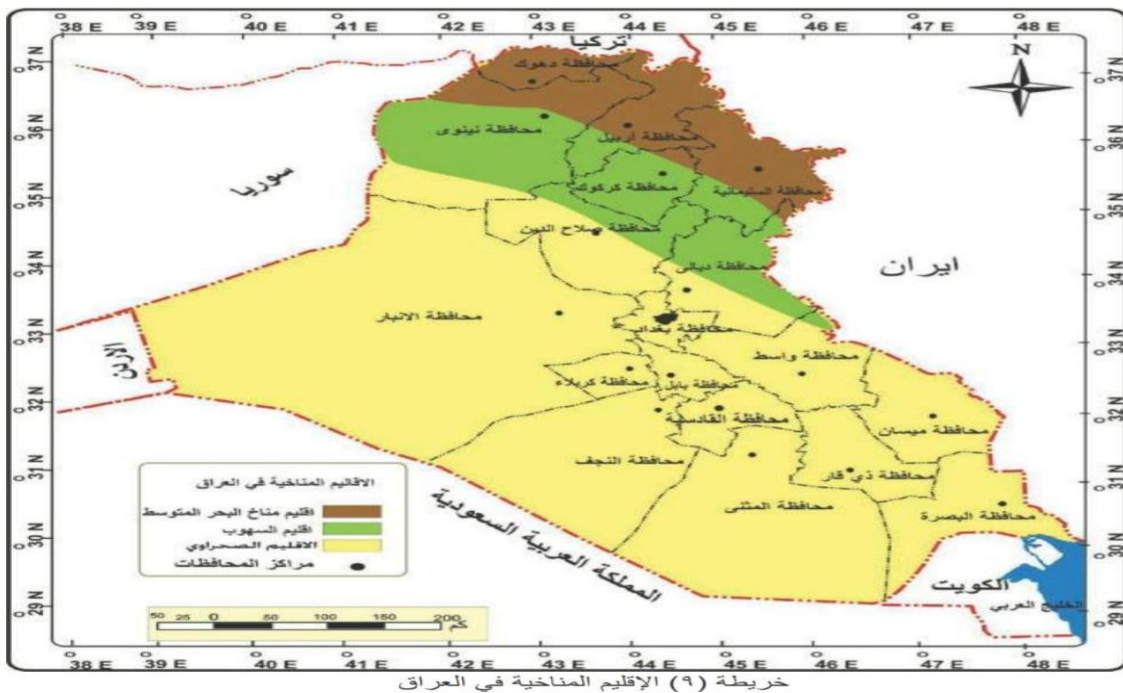
الجواب لأنه الرياح الرطبة تضطر الى الصعود الى الاعلى فتقل درجة الحرارة وتتكاثر رطوبتها فيسقط مطرا.

الامطار التضاريسية : وهي احد انواع الامطار التي تنتج عن صعود الهواء الرطب الى الاعلى فتقل درجات الحرارة وتتكاثر رطوبتها فتسقط مطرا .

الاقليم المناخي في العراق

الاقليم المناخي : هي منطقة محددة على سطح الأرض لها خصائص طبيعية او بشرية تختلف عن المناطق المجاورة لها .

فراغ غالبا ما تتفق الاقليم المناخية في توزيعها بدرجة كبيرة على تضاريس السطح وعناصر المناخ .



س/ عدد ابرز الاقاليم المناخية السائدة في العراق ؟

الجواب

1 اقليم مناخ البحر المتوسط

2 اقليم مناخ السهوب

3 اقليم المناخ الصحراوي .

1 اقليم مناخ البحر المتوسط

يتمثل هذا الاقليم في شمال شرق العراق ضمن المنطقة الجبلية، ويتميز بشتاء بارد تسقط الثلوج على قمم الجبال وتنخفض درجة الحرارة فيه الى ما دون الصفر المئوي ، وامطاره غزيرة تتراوح بين (٧٥٠ - ١٠٠٠ ملم) سنويا اما صيفه فيتميز بانه جاف معتدل تتراوح درجة الحرارة فيه بين (٣٠ - ٣٥)°

س/ في اي منطقة في العراق يتمثل اقليم مناخ البحر المتوسط، وما اهم ما يمتاز به صيفا وشتاءً

الجواب السابق .

علل / يمتاز الشتاء في العراق في اقليم البحر المتوسط بأنه بارد تسقط الثلوج على قمم الجبال وتنخفض درجة الحرارة ؟

الجواب لان هذا الاقليم يقع في شمال وشمال شرق العراق .

2 اقليم مناخ السهوب :

يسود هذا الاقليم في المنطقة شبه الجبلية (المتوجة) وهو مناخ انتقالي بين مناخ البحر المتوسط شمالا والمناخ الصحراوي جنوبا ، ويتميز شتاءه بانه اقل برودة من مناخ البحر المتوسط وامطاره اكثر من (٣٠٠ ملم) سنويا وصيفه فيتميز بكونه حار جاف تتراوح درجة الحرارة فيه بين (٣٨ - ٤٠)°

س/ في اي منطقة يتمثل اقليم مناخ السهوب ، وبماذا يمتاز صيفه وشتاءه ؟

الجواب السابق .

③ اقليم المناخ الصحراوي :

يسود هذا المناخ ضمن منطقة السهل الرسوبي والهضبة الصحراوية الغربية ، وهو أوسع الاقليم من حيث المساحة التي يشغلها ويتميز مناخه بكونه اشد حرارة واقل مطرا من الاقليمين السابقين ، اذا تتراوح درجات الحرارة خلال فصل الصيف بين (٤٤ - ٤٨) تزداد كلما اتجهنا جنوباً اما امطاره فتترواح كمياتها بين (٥٠ - ٢٠٠ ملم) .

✶ النبات الطبيعي

تعريفه : هو النبات الذي ينمو دون تدخل الانسان في انباته .

علل / تزداد كثافة النبات الطبيعي في المناطق الشمالية من وطننا العراق ؟

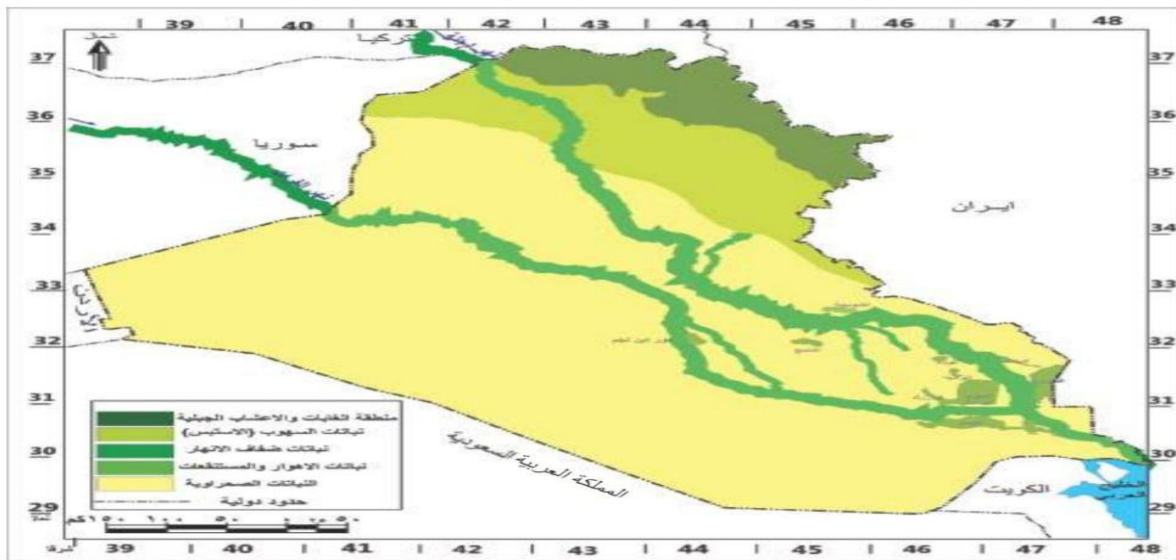
الجواب نظرا لزيادة كمية الامطار ، وتقل كلما اتجهنا جنوبا .

علل / تقل كثافة النبات الطبيعي كلما اتجهنا نحو الجنوب من وطننا العراق ؟

الجواب نظرا لقلّة كميات الامطار

س/ ما هي فوائد النبات الطبيعي ؟

الجواب يساهم في تلطيف الجو - يمنع انجراف التربة - اهميته في رعي الحيوانات



خريطة (١٠) توزيع النبات الطبيعي في العراق

س/ عدد نطاقات توزيع النبات الطبيعي في العراق ؟

الجواب

- نطاق الغابات والاعشاب الجبلية
- نطاق السهوب (الاستبس).
- نطاق ضفاف الأنهار
- نطاق نباتات الالهوار والمستنقعات
- نطاق النباتات الصحراوية

١ نطاق الغابات والاعشاب الجبلية

الموقع : يقع هذا النطاق في الاقسام الشمالية الشرقية من العراق ضمن منطقة الجبال العالية .
تتميز نباتاتها : بكونها دائمة الخضرة . **اهم انواعه :** سيادة اشجار الغابات وخصوصا اشجار البلوط .

٢ نطاق السهوب (الاستبس)

الموقع : يحتل نطاق السهوب ١٥% من مساحة العراق ويقع في المنطقة شبه الجبلية (المتوجة) ضمن مناخ السهوب الانتقالي.

يتميز نباته : بكونه من الحشائش والاعشاب وبعض النباتات البصلية الشوكية

انواعها :

تقسم النباتات فيه الى قسمين هما :

أ / نبات السهوب الجافة (العاقول) .

ب/ نبات السهوب الرطبة (الكعوب) .

الاستبس : وهو احد **انطقه** النبات الطبيعي في العراق الذي يحتل ١٥% من مساحة العراق ويقع في المنطقة شبه الجبلية ونباتاته تكون بصلية أو شوكية .

الكعوب : وهو احد انواع النبات الطبيعي ونباتات السهوب الانتقالية وتتميز بكونها رطبة

٣- نطاق ضفاف الأنهار

الموقع : يتوزع على ضفاف مجرى نهر الفرات ودجلة وروافده وفروعها ويتكون النبات الطبيعي من اشجار وشجيرات وحشائش تنمو على ضفاف الأنهار والجزر النهرية .

تمتاز : بكونها كثيفة ودائمة الخضرة

انواعها : الصفصاف والحلفا وعرق السوس .

عرق السوس : وهو احد انواع النباتات الطبيعية في وطننا العراق الذي ينمو على ضفاف الأنهار

علل / تعد نباتات ضفاف الأنهار دائمة الخضرة ؟

الجواب بسبب وفرة المياه بصورة دائمية .

٤ نطاق نباتات الالهوار والمستنقعات

الموقع : يقع في القسم الجنوبي من منطقة السهل الرسوبي.

مميزاته : يتميز النبات الطبيعي بكونه كثيف متعدد الانواع .

انواعه : القصب والبردي .

س/ ماهي فوائد نباتات الالهوار والمستنقعات (القصب والبردي) ؟

الجواب يستخدم كوقود ، صناعة الحصران ، صناعة الورق ، يستعمل علف للحيوان .

٥ نطاق النباتات الصحراوية

يعد من أوسع النطاقات من حيث المساحة اذ يغطي ٧٠% من مساحة العراق يقع ضمن منطقة السهل الرسوبي والهضبة الصحراوية الغربية .

مميزاتها : كيفت نفسها لمقاومة ظروف الحرارة العالية و الجفاف الذي يستمر لمدة ثمانية اشهر .

انواعها : . تقسم النباتات الصحراوية الى قسمين هما :

أ/ النباتات الحولية : وهي نباتات فصلية تنمو خلال الموسم الملائم لنمو مثل الخباز والحلبة والبابون

ب/ النباتات المعمرة : وهي نباتات دائمية وقد كلفت نفسها لمقاومة الجفاف والحرارة العالية ومنها الاثل والسدر والشوك.

الخباز - الحلبة - البابونك :- وهي احد انواع النباتات الطبيعية الصحراوية في العراق وهي حولية تنمو خلال فصل النمو الملائم .

الاثل - السدر - الشوك :- وهي احد انواع النباتات الطبيعية الصحراوية في العراق وهي من النباتات المعمرة التي تقاوم ظروف الحرارة العالية والجفاف .

حل اسئلة المناخ والنبات الطبيعي

س ١/ عرف ما يأتي

المناخ : هو حالة الجو من حيث عناصره درجة الحرارة والضغط والرياح والأمطار لمكان محدد ولكن لمدة زمنية طويلة قد تكون شهرا او سنة او عدة سنوات .

الاقليم : هي منطقة محددة على سطح الارض لها خصائص طبيعية او بشرية تختلف عن المناطق المجاورة لها .

الطقس : هو حالة الجو من حيث درجة الحرارة والضغط الجوي والرياح والامطار لمكان محدد ولمدة قصيرة (ساعة يوم اسبوع) .

الامطار التضاريسية : وهي احد انواع الامطار التي تنتج عن صعود الهواء الرطب الى الاعلى فتقل درجات الحرارة وتتكاثف رطوبتها فتسقط مطرا .

النبات الطبيعي : هو النبات الذي ينمو دون تدخل الانسان في انباته .

الاثل : وهي احد انواع النباتات الطبيعية الصحراوية في العراق وهي من النباتات المعمرة التي تقاوم ظروف الحرارة العالية والجفاف

البابونك : وهي نباتات طبيعية صحراوية في العراق وهي حولية تنمو خلال فصل النمو الملائم لها.

الكعوب : وهو احد انواع النبات الطبيعي ونباتات السهوب الانتقالية وتتميز بكونها نباتات رطبة .

س ٢ اكمل الفراغات التالية بما يناسبها .

- ١ يعد الاقليم الصحراوي من اوسع الاقليم المناخية من حيث المساحة .
- ٢ يتميز مناخ السهوب بكونه مناخا انتقاليا بين مناخ البحر المتوسط شمالا، والمناخ الصحراوي في الجنوب.
- ٣ تغطي النباتات الصحراوية نحو ٧٠% من مساحة العراق، وتقسم على نوعين هما الحولية والمعمرة.
- ٤ تعد المنخفضات الجوية القادمة من البحر المتوسط السبب الرئيسي لتساقط الامطار في العراق
- ٥ تعرف النباتات الحولية بانها فصلية تنمو خلال فصل النمو الملائم .

س ٣ / ضع علامة صح امام العبارة الصحيحة وعلامة خطأ اما العبارة الخاطئة ، ثم صحح الخطأ ان وجد

١. يعد البحر المتوسط من اكثر البحار تأثيرا على مناخ العراق . صح
٢. يكثر سقوط الامطار في فصل الصيف . خطأ . في فصل الشتاء
٣. تحتل نباتات السهوب ٢٥% من مساحة العراق . خطأ ١٥% .
٤. يقع اقليم مناخ البحر المتوسط ضمن منطقة السهل الرسوبي . خطأ . الشمالية الشرقية من العراق
٥. تساعد الرياح الجنوبية الغربية على تلطيف حرارة الجو . خطأ . الشمالية الغربية .

س ٤ / علل ما يأتي.

- ١ اتساع المدى الحراري اليومي بين الليل والنهار في العراق .

الجواب / بسبب جفاف المنطقة

- ٢ تباين انواع النبات الطبيعي في العراق .

الجواب / وذلك بسبب تباين واختلاف المناطق التضاريسية بين منطقة واخرى .

- ٣ ضعف تأثير البحار والمسطحات المائية على العراق كبحر قزوين والاحمر .

الجواب / بسبب الحواجز والمرتفعات الجبلية ، وبعد المسافة .

- ٤ يعد الموقع الفلكي من أكثر العوامل تأثيرا على مناخ العراق

الجواب / لأنه المسؤول عن تحديد زاوية سقوط أشعة الشمس وطول النهار .

٥ انعدام سقوط الامطار في فصل الصيف .

الجواب / بسبب سيادة الضغط العالي المداري ، وقلة الرطوبة النسبية .

س ٥ / عدد ما يأتي .

١ نطاقات النبات الطبيعية في العراق .

الجواب

- نطاق الغابات والاعشاب الجبلية .
- نطاق السهوب (الاستبس) .
- نطاق ضفاف الانهار .
- نطاق نباتات الالهوار والمستنقعات
- نطاق النباتات الصحراوية .

٢ الاقاليم المناخية في العراق .

الجواب

- اقليم مناخ البحر المتوسط .
- اقليم مناخ السهوب .
- اقليم المناخ الصحراوي .

س ٦ / بين فوائد كل مما يأتي .

١ النبات الطبيعي

الجواب / يساهم في تلطيف الجو - يمنع انجراف التربة - اهميته في رعي الحيوانات

٢ نباتات الالهوار والمستنقعات

الجواب / يستخدم كوقود ، صناعة الحصران ، صناعة الورق ، يستعمل علف للحيوان.

س ٧ ارسم خارطة العراق وحدد عليها الاقليم المناخية

الجواب / تدرب على رسم الخارطة في الكراس او الدفتر الخاص بالاجتماعيات

س / لون خريطة تضاريس وطننا العراق بحسب الالوان المثبتة في مفتاح الخريطة .

الجواب / رسم خارطة العراق .



اختبار الشهر الاول من الفصل الاول

اختبر نفسك

س ١ عرف خمسا مما يأتي :

١- المناخ ٢- وادي حوران ٣- هلكرد ٤- النبات الطبيعي ٥- مقلوب ٦- البابونك

س ٢ املاء الفراغات الاتية بما يناسبها

- ١- تغطي النباتات الصحراوية نحو من مساحة العراق ؟
- ٢- تقدر حدود العراق البريه بحوالي.....؟
- ٣- تعرف النباتات الحولية بانها.....؟
- ٤- يقع العراق في الجزء من قارة آسيا
- ٥- تتسم الهضبة الغربية الصحراوية بكونها تنظم عدد كبير من الوديان منهاو..... ؟

س ٣ / أ / ارسم خارطة العراق موضحا عليها الاقاليم المناخية في العراق ؟

س ٣ / ب / عدد نطاق النباتات الطبيعية الموجودة في العراق ؟

س ٤ / تعد الاهوار والمستنقعات احدى الظواهر الجغرافية المميزة في القسم الجنوبي من السهل الرسوبي ؟
تكلم عنها بالتفصيل.

ملاحظة / عزيزي الطالب ستجد في هذه الملزمة عند نهاية كل فصلين او ثلاثة فصول اختبار يهينك ويعطيك معلومة عن الاختبارات المدرسية سواء اكانت اختبارات الاشهر او اختبار نصف السنة

التغيير صعب في البداية

فوضوي في المنتصف

ورائع في النهاية

- روبن شارما

الموارد المائية

فراغ اشتهر وطننا العراق بوفرة مياهه حتى اقتترنت تسميته ببلاد مابين النهرين او ارض الرافدين اشاره الى نهري دجلة والفرات .

يمكن تقسيم الموارد المائية بحسب مصادرها الى

١ مياه الامطار والثلوج

تعد الامطار والثلوج المصدر الرئيسي لتغذية الأنهار والموارد الاخرى ، فضلا عن اهميتها الكبيرة في الزراعة ، ويتباين سقوط الامطار من فصل الى اخر ومن منطقة الى اخرى ففي وطننا يكثر سقوطها خلال فصلي الشتاء والربيع ويندر سقوطها خلال فصل الصيف ، كما تتميز بانها غزيرة على المنطقة الجبلية اذا تزيد كمياتها عن ١٠٠٠ ملم سنوياً بسبب ارتفاعها ، في حين تقل في المناطق الوسطى والجنوبية اذ تقل امطارها عن ٢٥٠ ملم سنوياً وهذه الكمية غير كافية لذلك يعوض النقص الحاصل فيها بمياه نهري دجلة والفرات والمياه الجوفية .

فراغ / تعد مياه الامطار والثلوج المصدر الرئيسي لتغذية الانهار والموارد الأخرى.

٢ المياه السطحية

تعريفها : يقصد بها المياه الجارية على سطح الارض وتشمل الانهار دائمة الجريان وتتمثل بمياه نهري دجلة والفرات وشط العرب وفروعها وروافدهما والأودية الموسمية والبحيرات الطبيعية. وتتباين كمياتها ايضا من فصل الى اخر اذ تزداد في فصل الربيع (موسم الفيضان في حين انها تقل خلال فصل الصيف موسم الصيود) كما تتفاوت كمياتها من سنة الى اخرى ، تبعا لاختلاف كمية الامطار والثلوج الساقطة عند منابعها الرئيسية. وسوف نتطرق بشكل موجز لهذه الانهار وفقاً للاتي

نهر دجلة

ينبع نهر دجلة من المرتفعات الواقعة الى جنوب شرق تركيا ويبلغ طوله الكلي (١٩٠٠ كم) وينبع من منبع غربي يسمى (**بطمان صو**) ويجري من المرتفعات المحيطة ببحيرة كولجك ، ومنبع شرقي (**بوتان صو**) وتتحد مياهه من منابع عدة تتحدر من المرتفعات المحيطة ببحيرة **وان** وبالتقاء المنبعين يتكون نهر **دجلة** ويجري بالاتجاه الجنوب الشرقي ..

يدخل النهر الاراضي العراقية عند قرية **فيشخابور** ويلتقي نهر دجلة في تلك المنطقة بأول الروافد المغذية له وهو **الخابور** الذي ينبع من الأراضي التركية ويلتقي بنهر دجلة عند قرية فيشخابور ويكون مجراه في منطقة جبلية وشبه جبلية تحيط به المرتفعات من الجهتين .

وعند وصول النهر الى جنوب مدينة الموصل يلتقي نهر دجلة برافد **الزاب الكبير** الذي ينبع من الاراضي التركية ويعد من اهم روافد نهر دجلة حيث يساهم **٣٣%** من مياه النهر والى الجنوب من مدينة الشرقاط في صلاح الدين يلتقي النهر برافد اخر وهو **الزاب الصغير** الذي ينبع من الأراضي الايرانية ويساهم بنسبة **١٧%** من مياه نهر دجلة .

عند مدينة بلد يدخل النهر السهل الرسوبي حيث تنبسط ضفاف النهر وعند مدينة الضلوعية يلتقي النهر برافد **العظيم** الذي ينبع من داخل الاراضي العراقية .

والى الجنوب مدينة بغداد يلتقي النهر برافد **ديالى** الذي يتكون من منبعين هم

اب سيروان : الذي ينبع من الأراضي الايرانية .

تانجرو : الذي ينبع من الأراضي العراقية.

علل / ويتميز مجرى نهر دجلة بكثرة تعرجاته في المنطقة الواقعة بين شمال مدينة بغداد والكوت ،

الجواب وذلك بسبب قلة انحدار الأراضي وبطء جريان ماء النهر، اذ تؤدي هذه التعرجات الى زيادة الترسبات وكثرة الجزر وسط النهر .

وعند مدينة الكوت وتحديدًا عند سدة الكوت يتفرع نهر دجلة من الضفة اليمنى الى جدولي **(الغراف والدجيله)** اللذان يرويان الاراضي الزراعية الواقعة بين محافظة واسط وذي قار ، بعدا ذلك يجري النهر في منطقة منبسطة قليلة الانحدار

عند وصوله الى مدينة العمارة يتفرع النهر من الضفة اليمنى الى جدولي **البتيرة والمجرة الكبير** كما يتفرع من الضفة اليسرى الى **المشرح والكحلاء** **علل** وبعد مرور نهر دجلة بمدينة العمارة يتسم مجراه بقلة مياهه بسبب الجداول الصغيرة التي تتفرع من النهر وتصب في احوار تلك المنطقة .

وبالقرب من مدينة **العزیز** يبدأ النهر بالاتساع بفعل المياه التي تصب به من نهر **السویب** ومن جهته اليسرى تغذية بعض المياه القادمة اليه من الاهوار عند مدينة **القرنة** يلتقي **النهر بالمجرى الشمالي** لمجرى نهر الفرات.

الزاب الكبير : وهو احد اكبر روافد نهر دجلة واهمها والذي يلتقي بنهر دجلة عند الموصل ويساهم بنسبة ٣٣% من مياه النهر وينبع من الأراضي التركية .

الزاب الصغير : وهو احد روافد نهر دجلة الذي ينبع من الاراضي الايرانية ويساهم بنسبة ١٧% من مياه نهر دجلة . يلتقي بنهر دجلة عند مدينة صلاح الدين

الخابور : وهو احد روافد نهر دجلة الذي ينبع من الأراضي التركية ويلتقي بنهر دجلة عند قرية فيشخابور .

بوتان صو : وهو احد منابع نهر دجلة في الأراضي التركية الذي ينبع من جهة الشرق من بحيرة وان .

بطمان صو : وهو احد المصادر المغذية لنهر دجلة وينبع من جهة الغرب من الاراضي التركية ويجري من المرتفعات المحيطة ببحيرة كولجك

بحيرة كولجك : وهي احدى البحيرات التي توجد في الأراضي التركية من جهة الغرب وتعد من المصادر المهمة التي تغذي نهر دجلة ومنبعا بطمان صو .

بحيرة وان : وهي من البحيرات المهمة التي تغذي نهر دجلة واحد منابعه بوتان صو من جهة الشرق .

العظيم : وهو احد الروافد المهمة لنهر دجلة الذي ينبع من الأراضي العراقية عند مدينة الضلوعية

رافد ديالى : وهو احد الروافد المهمة لنهر دجلة ويتسمد مياهه من منبعين **اب سيروان** : وينبع من الأراضي الايرانية و**تانجرو** من الأراضي العراقية .

الغراف - الدجيلية : وهي احد فروع نهر دجلة والذي يتفرع من الجهة اليمنى لنهر دجلة عند سدة الكوت وتعمل على ارواء الاراضي الزراعية الواقعة بين الكوت وذی قار .

البتيرة - المجر الكبير : وهي احدى فروع نهر دجلة الذي يتفرع من الجهة اليمنى للنهر عند مدينة العمارة .

المشرح - الكحلاء : وهي احدى فروع نهر دجلة الذي يتفرع منه عند مدينة العمارة من الجهة اليسرى من النهر .

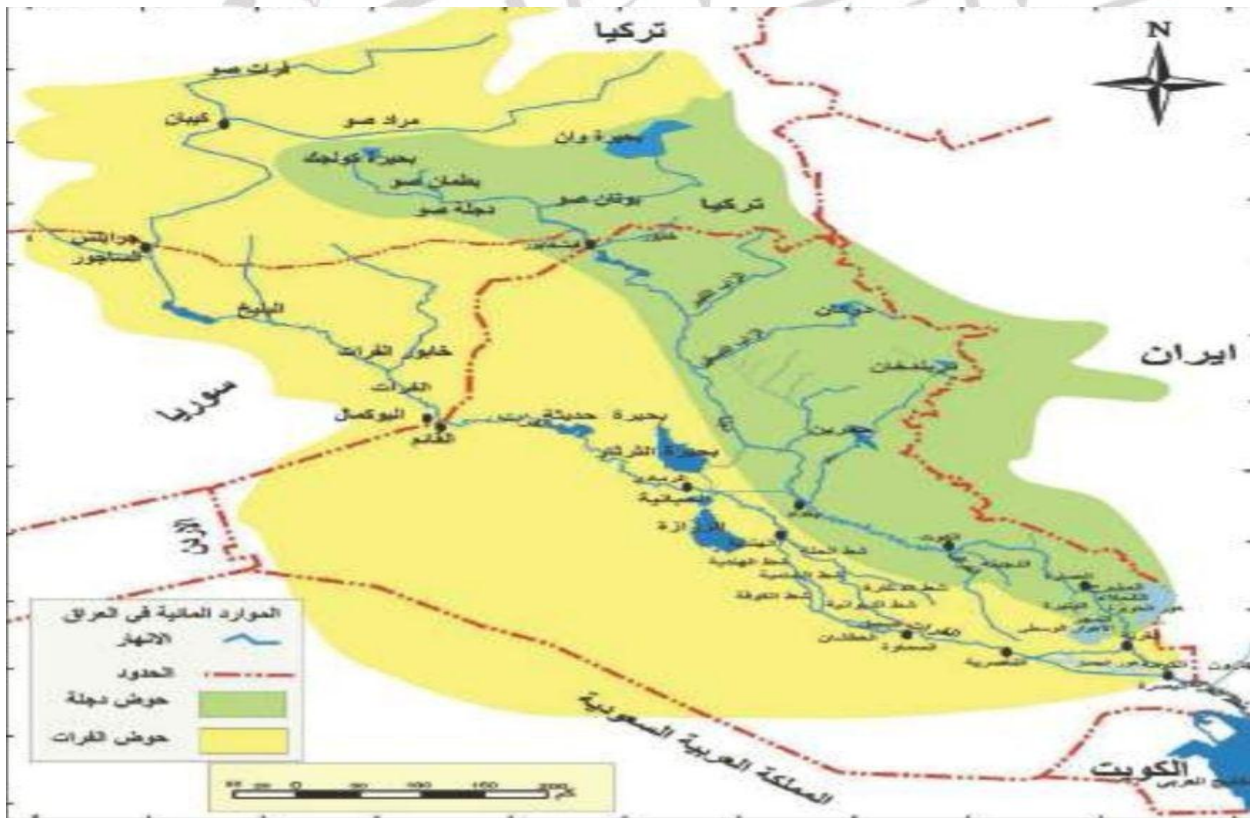
علل / عند مدينة العمارة يتسم مجرى نهر دجلة بقلة مياهه ؟

الجواب بسبب الجداول الصغيرة التي تتفرع من النهر وتصب في احوار المنطقة

علل / يبدأ نهر دجلة بالاتساع عند مدينة العزيز في جنوب العراق ؟

الجواب وذلك بفعل المياه التي تصب فيه من نهر السويب ومن جهته اليسرى تغذية بعض المياه القادمة من الاهوار .

السويب : وهو احد الانهار المهمة المغذية لنهر دجلة في جنوب العراق عند مدينة العزيز ويصب في نهر دجلة من الجهة اليسرى .



نهر الفرات

ينبع نهر الفرات من المرتفعات الشرقية في تركيا ويتكون من منابع عدة اهمها

(**فرات صو - مراد صو**) اللذان يلتقيان عند مدينة **كبيان** ويكونان نهر الفرات ويجري النهر باتجاه الجنوبي الشرقي يدخل نهر الفرات الاراضي العربية السورية بالقرب من مدينة (**جربلس**) اذ يصب في نهر الفرات روافد عدة منها

• **نهر الساجور** في محافظة حلب

• **ونهر البليخ** بالقرب من مدينة الرقة السورية

• **ونهر الخابور** عند مدينة دير الزور

ويستمر النهر بجريانه باتجاه جنوبي شرقي حتى يدخل النهر الأراضي العراقية عند مدينة **حصيبه** في قضاء **القائم** ويخترق مجراه العميق جزءا كبيرا من الهضبة الغربية بين مدينة **القائم** ومدينة **الرمادي** تكثر الالتواءات والجزر والنواير الكبيرة ولاسيما في قضاء **هيت** .

ويدخل نهر الفرات **السهل الرسوبي** عند مدينة **الرمادي** ويقترب مجراه من نهر دجلة عند مدينة **الفلوجة** حيث تصبح المسافة بينهما (٤٠ كم) ويكون مجراه في هذه المنطقة اعلى من نهر دجلة ، لذلك تفرع منه العديد من الجداول التي تروي الاراضي الزراعية منها.

الصقلاوية- ابي غريب - اليوسفية - اللطيفية - الاسكندرية - المسيب الكبير

عند سدة الهندية يتفرع النهر الى فرعين رئيسيين هما :

١ شط الحلة : الذي يجري الى الجنوب الشرقي مارا بمدينة الحلة والهاشمية ، وبعد مدينة الهاشمية يتفرع

النهر الى فرعين هما

شرقي يسمى شط الدغاره

وغربي يسمى شط الديوانية.

٢ شط الهندية : الذي يتجه نحو الجنوب مارا بمدينة الهندية ، ثم ينقسم الى قسمين

الأول شط الكوفة من الجانب الغربي

والثاني شط الشامية من الجانب الشرقي ويلتقيان عند مدينة **الشنافية** فيتوحد المجرى ثم ينقسم ال فرعين هما (**العطشان - السبيل**) وقبل دخوله مدينة السماوة يتوحدان .

وبالقرب من مدينة سوق الشيوخ يتفرع النهر الى جداول عدة تسمى

(**ذئاب الفرات**) وهي (**بني سعيد - الحفار - أم نخلة - عكيكه - كرمة بني حسن**) والتي تصب بهور الحمار .

يتخذ نهر الفرات مجريين داخل هور الحمار

الاول شمالي : يلتقي عند مدينة القرنة بنهر دجلة بعد مروره بقضاء المدينة في محافظة البصرة

الثاني جنوبي: الذي يلتقي بكرمة علي في شط العرب .

فراغ / يبلغ طول نهر الفرات من نقطة التقاء منبعيه في تركيا (**فرات صو ومراد صو**) حتى مصبه في شط العرب نحو (**٢٩٤٠ كم**)

فراغ من الانهار المهمة والكبيرة في غرب اسيا ، اذ يعد ثاني أطول نهر عربي بعد نهر النيل هو نهر الفرات .

فرات صو - مراد صو : وهو احد منابع نهر الفرات التي تغذية في الاراضي التركية ويلتقيان عند مدينة كيبان ليكونان نهر الفرات .

فراغ يدخل نهر الفرات الاراضي العربية السورية بالقرب من مدينة جرابلس .

الساخور : وهو احد الانهار المهمة التي تصب في نهر الفرات في الاراضي السورية في محافظة حلب

البليخ : وهو احد الانهار المهمة التي تصب في نهر الفرات في الأراضي السورية عند مدينة الرقة .

خابور الفرات : وهو احد الانهار المهمة التي تصب في نهر الفرات في الاراضي السورية عند مدينة دير الزور .

فراغ يدخل نهر الفرات الاراضي العراقية عند مدينة حصبية القائم

الصقلاوية - ابي غريب - اليوسفية - اللطيفية - الاسكندرية - المسيب الكبير :- وهو احد الجداول التي تفرعت من نهر الفرات بين مدينتي الرمادي والفلوجة لتروي الاراضي الزراعي الواقعة في تلك المناطق

بني سعيد - الحفار - ام نخلة - عكيكة - كرمة بني حسن :- وهو احد الجداول التي تتفرع من نهر الفرات بالقرب من مدينة سوق الشيوخ تسمى (ذنائب الفرات) وتنتهي لتصب في هور الحمار.

كيبان :- وهي احد المدن التركية التي يلتقي عندها منابع الفرات فرات صو ومراد صو ليكونان نهر الفرات.

شط العرب

وهو الاسم الذي يطلق على النهر الممتد بين القرنة والخليج العربي والذي يتكون من التقاء نهري دجلة والفرات الذي يبلغ طوله ١٩٠ كم.

يتباين عرض شط العرب من منطقة الى اخرى اذا يقدر عند المصب بنحو أكثر من كيلومترين في حين انه يضيق عند البصرة بنحو الكيلو متر الواحد او اقل ويصب في شط العرب نهر (الكارون) الذي يجري بكاملة من الاراضي **الايرانية** ، ويرسب كميات كبيرة من الطمي في شط العرب مما يسبب عرقلة الملاحة ، ويتأثر شط العرب بأحوال المد والجزر في الخليج العربي اللذان يتكرران مرتين في اليوم.

نهر الكارون : وهو احد الانهار والروافد الذي يصب في شط العرب وينبع من الأراضي الايرانية ويجلب كميات كبيرة من الطمي التي تعيق حركة الملاحة في شط العرب .

علل / يسبب نهر الكارون اعاقا حركة الملاحة في شط العرب ؟

الجواب بسبب الكميات الكبيرة التي ينقلها من الطمي ويرسبها في شط العرب .

معلومة اثرائية

المد والجزر : وهي عملية ارتفاع مناسيب المياه وانخفاضها وتحدث مرتين في اليوم ولها اهمية كبيره

س/ ماهي فوائد وسلبيات المد والجزر في شط العرب ؟

الجواب

فوائده: ارواء الأراضي الزراعية على جانبي شط العرب .

سليباته : ترسب كمية من الاملاح عند الارتفاع تراكيز الاملاح فيها .

الاهوار والمستنقعات

وهي عبارة عن مسطحات مائية تنتشر في الجزء الجنوبي من السهل الرسوبي وتشمل الاراضي المنخفضة التي تتجمع بها المياه بصورة دائمية او مؤقتة .

فراغ تقدر مساحة الاهوار الحالية بأكثر من ٢٠٠٠٠ ألف كم ٢ ؟

يمكن تقسيم الاهوار الى **اهوار كبيرة - اهوار صغيرة .**

الاهوار الكبيرة

فراغ تتوزع الاهوار الكبيرة في محافظات البصرة وميسان وذي قار وتشغل مساحتها ١٧٥٠ كم ٢ . ومن امثلتها

أ- الاهوار الوسطى : وهي مجموعة من الاهوار الكبيرة في جنوب العراق وتسمى بأهوار القرنة وتقدر مساحتها بنحو ٣٢٣٥ كم ٢ وتتغذى بمياه نهر دجلة عن طريق جدولي البتيرة والمجر الكبير .

ب- هور الحويزة : وهو احد الأهوار الذي يوجد في القسم الجنوبي من العراق ضمن محافظتي ميسان والبصرة وتقدر مساحته بنحو ٢٤٥٠ كم ٢ .

ج - هور الحمار : وهو احد الأهوار المهمة التي تقع في منطقة السهل الرسوبي من العراق والذي تمتد أراضيه بين محافظتي البصرة وذي قار .

الأهوار الصغيرة

وتتضمن مجموعة من الاهوار التي تتوزع في الاقسام الوسطى والجنوبية من العراق منها :

هور الشويجة و الدلمج : في محافظة واسط .

هور ابن نجم : في الديوانية .

وهور ابي دبس : في محافظة كربلاء .

هور السنبة والسعدية وعودة واهوار الشامية : تقع بين نهري دجلة والفرات .

س / الى ماذا تعرضت الاهوار في جنوب العراق في الثمانينات من القرن الماضي ، وماهي اثارها ؟

الجواب تعرضت الاهوار في زمن النظام البائد الى عمليات التجفيف خلال عقد الثمانينات والتسعينات من القرن العشرين ، حتى كادت الاهوار تختفي من خارطة العراق ،

آثارها : كان لها تأثيرات بيئية واقتصادية ابرزها

① القضاء على الثروة الحيوانية والنباتية ② نزوح سكان الاهوار وانتشار ظاهرة التصحر فيها ،

اهتمت الدولة العراقية منذ عام ٢٠٠٣ الى اعادة تلك الاهوار والعمل على تنميتها واعادة اغمارها.

مشاريع السيطرة والخزن

تتمثل هذه المشاريع بالبحيرات الطبيعية والاصطناعية فضلا عن السدود والنواظم المقامة على نهري دجلة والفرات

س/ عدد بنقاط اهمية مشاريع السيطرة والخزن ؟

١. توفر مخزونا مائيا يسهم في المحافظة على رقعة المساحة الزراعية في موسم الجفاف .

٢. تنظيم جريان المياه وتقليل اخطار الفيضانات.

٣. توفير الطاقة الكهربائية .

٤. لها اهمية سياحية نظرا لجمالها واعتدال مناخها .

ويمكن تقسيم مشاريع السيطرة والخزن بحسب موقعها على نهري دجلة والفرات :

اولاً اهم مشاريع السيطرة والخزن المقامة على نهر دجلة

١ **سد وخزان الثرثار :** وهو من اكبر مشاريع السيطرة والخزن على نهر دجلة ويضم المنخفض بحيرة واسعة

يقدر طولها (١٢٠ كم) وعرضها (٤٠ كم) ويقع الى الشمال الغربي لمدينة بغداد تقدر سعته الخزنبة (

٨٥ مليار م٣) ويتم تحويل المياه الى منخفض الثرثار عن طريق سدة سامراء .

٢ **سد وبحيرة الموصل :** وهو احد مشاريع السيطرة والخزن التي تقع البحير بمسافة ٦٠ كم شمال مدينة

الموصل على نهر دجلة ، بسعة خزن تبلغ (١١ مليار متر مكعب) .

٣ **سد ويحيرة دوكان** : وهو احد مشاريع السيطرة والخزن و تقع البحيرة على رافد الزاب الصغير تبلغ سعة البحيرة (٦,٨ مليار م٣)

٤ **سد وبحيرة دربند خان** : وهو احد مشاريع السيطرة والخزن تقع البحيرة على رافد ديالى الى الجنوب من مدينة السليمانية وتقدر سعة خزن البحيرة (٣,٢٥ مليار م٣) .

٥ **سد وبحيرة حميرين** : تقع بحيرة حميرين شمال شرق بغداد على رافد ديالى وبسعة خزنه تقدر بحوالي (٣,٩٥ مليار م٣)

٦ **سد وبحيرة العظيم** : تقع على رافد العظيم وهي بحيرة ذات سعة خزنه محدودة للمياه تبلغ (١,٥ مليار متر مكعب)

٧ **سدة سامراء**: تقع هذه السدة على نهر دجلة ضمن محافظة صلاح الدين .

٨ **سدة الكوت** : انشئت هذه السدة على نهر دجلة في محافظة واسط .

٩ **سدة دبس** : انشئ هذه السد على رافد الزاب الصغير في محافظة كركوك .

١٠ **سدة العمارة** : انشئت هذه السدة على نهر دجلة في محافظة العمارة .

١١ **سدة ديالي** : انشئت هذه السدة على رافد ديالي في محافظة ديالي

ثانياً اهم مشاريع السيطرة والخزن المقامة على نهر الفرات

١ **سد وبحيرة حديثة** : وهو احد مشاريع السيطرة والخزن المقامة على نهر الفرات في مقدم مدينة حديثة ب ٧ كم وتقدر مساحتها الخزنه بحوالي (٨ مليار متر مكعب).

٢ **سد وبحيرة الحبانية** : وهي احد مشاريع السيطرة والخزن التي اقيمت على نهر الفرات جنوب مدينة الرمادي تستغل في خزن المياه اذ تقدر سعتها الخزنه حوالي (٣,٣ مليار متر مكعب) ويتم التحكم بهذا المشروع عن طريق سدة الرمادي **وناظم الورار** على نهر الفرات **وناظم الذبان** لغرض اعادة المياه من البحيرة الى نهر الفرات كما تتصل ببحيرة الرزاة عن طريق جدول **تخلية المجرة** .

٣ **سدة الرمادي** تقع هذه السدة على نهر الفرات في محافظة الانبار .

٤ **سدة الهندية** : تقع هذه السدة على نهر الفرات ضمن محافظة بابل .

٥ **سدة الكوفة** : تقع هذه السدة على نهر الفرات ضمن محافظة النجف الاشرف .

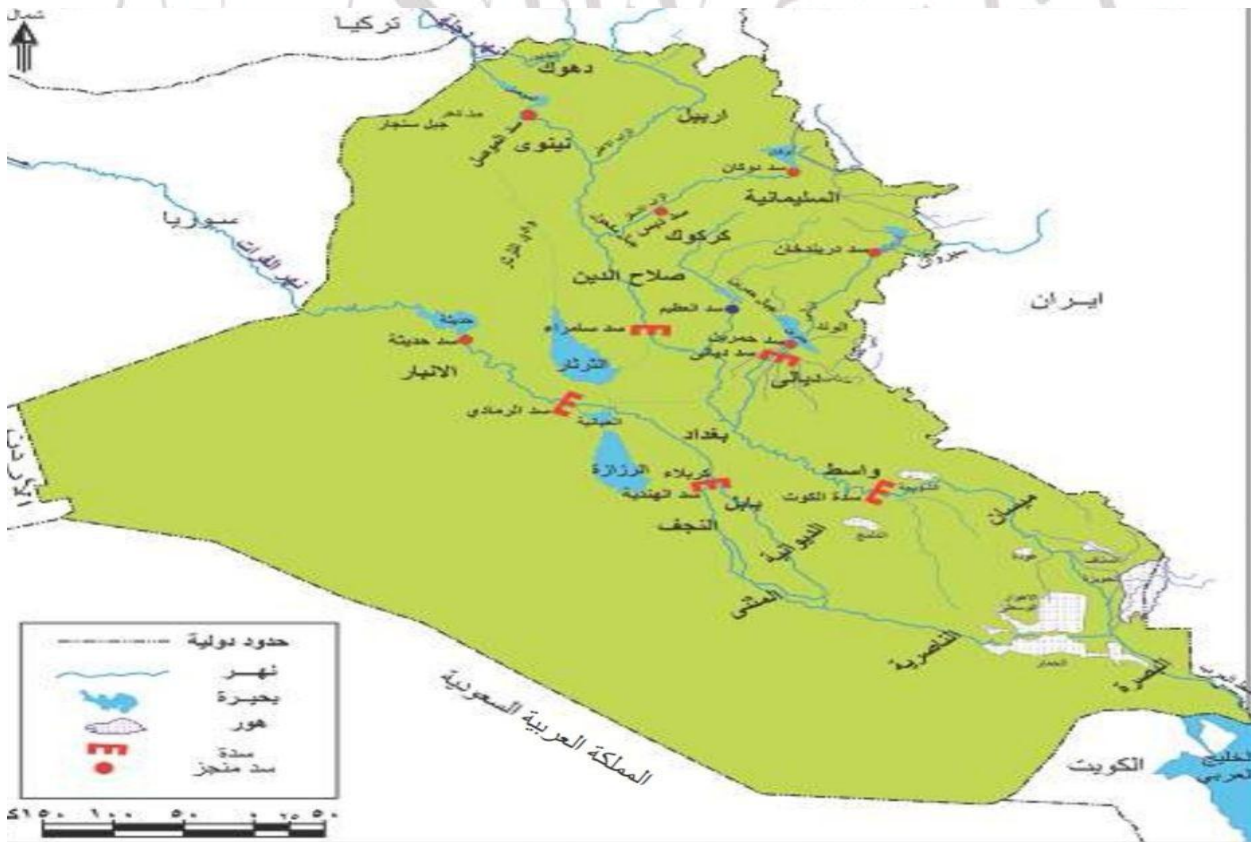
ناظم الورار : وهو احد النواظم الذي يوجد على نهر الفرات وبحيرة الحبانية الذي عن طريقة يتم التحكم بمشروع الحبانية

ناظم الذبان : وهو احد النواظم الذي يوجد على مشروع سد وخزان الحبانية والذي عن طريقة يتم التحكم بالبحيرة في اعادة المياه من البحيرة الى نهر الفرات .

جدول تخلية المجرة : وهو من الجداول المهمة الذي عن طريقة تربط بحيرة الحبانية ببخيرة الرزاة .

علل / يتم التحكم بمشروع الحبانية عن طريق سدة الرمادي وناظم الورار على نهر الفرات وناظم الذبان

الجواب / لغرض اعادة المياه من البحيرة الى نهر الفرات



المياه الجوفية

هي المياه التي توجد في باطن الارض وتظهر على السطح اما بصورة طبيعية كالينابيع والعيون او بتدخل الانسان في استخراجها كالابار.

فراغ تتأثر المياه الجوفية من حيث كميتها وتوزيعها الجغرافية بعوامل المناخ والتضاريس.

علل تزداد كميات المياه الجوفية في المنطقة الجبلية من العراق ؟

الجواب بسبب غزارة الامطار وتراكم الثلوج على قمم جبالها .

علل / تمتاز المياه الجوفية في المناطق الوسطى والجنوبية من العراق برداءة نوعيتها ؟

الجواب بسبب الظروف المناخية السائدة المتمثلة بارتفاع درجات الحرارة وزيادة نسبة التبخر وقلة الامطار وارتفاع نسبة الملوحة فيها.

علل / للمياه الجوفية اهمية كبيرة ولاسيما في المناطق ذات المناخ الصحراوي ؟

الجواب لأنها تعوض النقص الحاصل في مياه الامطار والمياه السطحية ، وكذلك طبيعة توزيع السكان اذ غالبا تجددهم يتركزون في المناطق الغنية بالمياه الجوفية ولاسيما في الواحات المنتشرة في الهضبة الغربية الصحراوية (كبيسة ورحالية وعين التمر).

كبيسة - الرحالية - عين التمر:- وهي احدى الواحات المنتشرة في الهضبة الغربية الصحراوية من العراق والتي تكون غنية بالمياه الجوفية وتمتاز بزيادة اعداد السكان فيها

حل اسئلة الموارد المائية

س ١ / عرف ما يأتي.

شط العرب : وهو الاسم يطلق على النهر الممتد بين القرنة والخليج العربي والذي يتكون من التقاء نهري دجلة والفرات الذي يبلغ طوله ١٩٠ كم

كبيان : وهي احد المدن التركية التي يلتقي عندها رافدي الفرات فرات صو ومراد صو ليكونان نهر الفرات .

فرات صو : وهو احد روافد نهر الفرات التي تغذيه في الاراضي التركية ويلتقي مع رافده الاخر ليكونان نهر الفرات عند مدينة كيبان التركية.

المياه السطحية : يقصد بها المياه الجارية على سطح الارض وتشمل الانهار دائمة الجريان وتتمثل بمياه نهري دجلة والفرات وشط العرب وفروعهما وروافدهما والأودية الموسمية والبحيرات الطبيعية.

المياه الجوفية : هي المياه التي توجد في باطن الارض وتظهر على السطح اما بصورة طبيعية كالينابيع والعيون او بتدخل الانسان في استخراجها كالأبار .

هو الحمار : وهي احد الأهوار المهمة التي تقع في منطقة السهل الرسوبي من العراق والذي تمتد أراضيها بين محافظتي البصرة وذي قار

الاهوار والوسطى : وهي مجموعة من الاهوار الكبيرة في جنوب العراق وتسمى بأهوار القرنة وتقدر مساحتها بنحو ٣٢٣٥ كم^٢ وتتغذى بمياه نهر دجلة عن طريق جدولي البتيرة والمجر الكبير .

س ٢ املأ الفراغات الاتية :

١. تضم الموارد المائية مصادر عدة منها مياه سطحية ومياه جوفية.
٢. تتكون منابع نهر دجلة من منبع غربي بطمان صو ومنبع شرقي يسمى بوتان صو .
٣. يتفرع نهر دجلة من ضفته اليمنى عند مدينة الكوت الى جدولي الغراف والدجيل.
٤. الرافد الوحيد من روافد نهر دجلة التي تقع منابعة داخل العراق هو العظيم.
٥. تتأثر المياه الجوفية من حيث كمياتها ونوعيتها وتوزيعها بعوامل المناخ والتضاريس .
٦. يتفرع نهر الهندية الى فرعين هما شط الكوفة وشط الشامية.
٧. من مشاريع السيطرة والخزن المقامة على نهر دجلة الثرثار و الموصل و دربندخان

س ٣/ انسب المشاريع الاتية الى انهارها :

الجواب بحيرة الحبانية / الفرات

بحيرة حديثة / نهر الفرات

بحيرة الموصل / نهر دجلة

سد دوكان / دجلة : الزاب الصغير

بحيرة العظیم / دجلة : رافد العظیم

سدة ديالي / دجلة : رافد ديالي

سدة الرمادي / نهر الفرات

سدة الكوت / نهر دجلة

سد دريندخان / دجلة : رافد ديالي

سدة سامراء / دجلة

س ٤ / علل ما يأتي:

١ - للمياه الجوفية اهمية كبيرة في المناطق ذات المناخ الصحراوي؟

الجواب لأنها تعوض النقص الحاصل في مياه الامطار والمياه السطحية ، وكذلك طبيعة توزيع السكان اذ غالبا تجدهم يتركزون في المناطق الغنية بالمياه الجوفية ولاسيما في الواحات المنتشرة في الهضبة الغربية الصحراوية (كبيسة و الرحالية وعين التمر).

٢ - يتميز نهر دجلة بكثرة تعرجاته وخاصة في جزئه الواقع بين شمال مدينة بغداد والكوت؟

الجواب بسبب قلة انحدار الارض وبطء جريان ماء النهر.

اهمية مياه البحيرات في العراق ؟

الجواب وذلك لأنها تعد مصدر مائي مهم للأنهار في العراق في موسم الجفاف .

٣- يعد الزاب الكبير من اهم روافد نهر دجلة ؟

الجواب لأنه يساهم بنسبة ٣٣% من مياه النهر

س ١٥ / ضع علامة صح اما العبارة الصحيحة وعلامة خطأ اما العبارة الخاطئة ، ثم صحح الخطأ ان وجد.

- ١- سد وبحيرة دوكان تقع على رافد الزاب الصغير . صح .
 - ٢- يلتقي نهر دجلة مع نهر الفرات ليكونا شط العرب عند مدينة الناصرية. خطأ عند القرنة.
 - ٣- الاهوار الكبيرة في العراق موزعة على محافظتي واسط والمثنى . خطأ البصرة وميسان وذي قار .
 - ٤- تقع سدة سامراء على نهر الفرات. خطأ على نهر دجلة .
 - ٥- تقع سدة ديالى على الزاب الصغير خطأ رافد ديالى .
- س ٦ عدد مشاريع السيطرة والخزن المقامة على نهر دجلة .

الجواب /- سدة العمارة

- سد وخزان الثرثار
- سد وبحيرة الموصل
- سد وبحيرة دربندخان
- سد وبحيرة حميرين
- سدة دبس
- سد وبحيرة دوكان
- سد وبحيرة العظيم
- سدة ديالى
- سد سامراء
- سدة الكوت

س / عدد مشاريع السيطرة والخزن المقامة على نهر الفرات .

الجواب/

- سد وبحيرة حديثة - سد وبحيرة الحبانية . - سدة الهندية - سدة الكوفة .
- سدة الرمادي

العلم ملجأ العالم

الفصل الثاني

الخصائص البشرية لجغرافية العراق

السكان

علل / تعد دراسة السكان من اهم الموضوعات التي يهتم علم الجغرافية بدراستها ؟

الجواب لأهميتها في التعرف على الطريقة التي يتوزع فيها السكان فضلا عن دراسة التغيرات السكانية من حيث نموهم وتركيبهم وتوزيعهم وكثافتهم .

الخصائص السكانية لوطننا العراقي ...

١ نمو السكان

نلاحظ ان عدد السكان في العراق في زيادة بين الفترة مابين (١٩٥٧ - ٢٠١٩) اذ بلغ عدد السكان عام ١٩٥٧م (٣٣٩٩٦٠ نسمة) ونسبة نمو تبلغ (٢,٧%) ثم ارتفع العدد الى (٣٩١٢٧٨٨٩) نسمة حسب التقديرات السكانية لعام ٢٠١٩ ونسبة نمو بلغت (٢,٦%) .

نمو السكان : وهو التغير الحاصل في حجم السكان سواء بالزيادة او النقصان خلال مدة زمنية محددة

فراغ يعتمد نمو السكان على ثلاث عوامل هي الولادات ، والوفيات ، الهجرة .

علل / ارتفاع اعداد السكان في الفترة مابين (١٩٥٧ - ٢٠١٩) م ؟

الجواب وذلك بسبب ارتفاع الخصوبة وتحسن الأوضاع الصحية والاقتصادية والمعيشية لسكان وطننا العراق

٢ توزيع السكان

س / ما العوامل المؤثرة في توزيع السكان في العراق ؟

الجواب ⇐ العوامل الطبيعية ⇐ العوامل الادارية والدينية

⇐ العوامل الاقتصادية ⇐ العوامل التاريخية

أ - العوامل الطبيعية

التضاريس : للتضاريس تأثير كبير في توزيع السكان ، فالسكان عادة ما يفضلون المناطق السهلية لما تتمتع به من سهولة التنقل والتربة الخصبة وامكانية القيام بالعمليات الزراعية والنشاطات الاقتصادية الاخرى ، وتعد منطقة السهل الرسوبي (الفيضي) في وسط العراق من اكثر المناطق التضاريسية سكانا اذا تضم بنحو ثلثي عدد السكان ،

اما في المنطقة الشمالية فيتوزع السكان على سهول المنطقة المتموجة وسهول المنطقة الجبلية ، في حين أن سكان الهضبة الغربية الصحراوية يقتصر توزيعهم حول مناطق الواحات ومراكز الوحدات الادارية .

المناخ و الموارد المائية : نظرا لسيادة المناخ الصحراوي وظروف الجفاف التي تتمثل بارتفاع درجات الحرارة وقلة الامطار نجد ان غالبية سكان العراق يتركزون عادة بالقرب من المصادر المائية والتي تتمثل بنهري دجلة والفرات وفروعه في حين نجد ان سكان الهضبة الغربية قد اعتمدوا في تركيزهم بصورة رئيسية على المياه الجوفية ومياه الامطار.

س/ ما هو تأثير التضاريس في توزيع السكان في وطننا العراق ؟

س/ ماهو دور المناخ والموارد المائية في توزيع السكان في وطننا العراق ؟

الجواب السابق ↑↑

علل / عادةً ما يفضل السكان المناطق السهلية ؟

الجواب لما تتمتع به من سهولة التنقل والتربة الخصبة وامكانية القيام بالعمليات الزراعية والنشاطات الاقتصادية الاخرى.

علل / يعد السهل الرسوبي في العراق من أكثر المناطق التضاريسية سكاناً

الجواب بسبب انبساط ارضها ووفرة اسباب العيش فيها مما جعلها تضم بنحو ثلثي السكان في العراق

علل / نجد ان غالبية سكان العراق يتركزون عادةً بالقرب من المصادر المائية ؟

الجواب بسبب المناخ الصحراوي وظروف الجفاف التي تتمثل بارتفاع درجات الحرارة وقلة الامطار .

ب- العوامل الاقتصادية

تتمثل اهمية العوامل الاقتصادية في توزيع السكان في كونها تحدد نوع استعمالات الارض سواء كانت للأغراض التجارية ام الصناعية ام الزراعية ام الخدمات فسيادة **الطابع الزراعي** مثلاً يجعل للزراعة دوراً كبيراً في جذب السكان والتي تظهر عادة في المناطق الممتدة حول نهري دجلة والفرات .

اما **المناطق الصناعية** ترتفع فيها الكثافة السكانية وتتجمع المدن الكبرى حولها كمدينة بغداد والموصل . كما ان للثروات الاقتصادية **كالنفط والثروات المعدنية** دورها في تحويل المناطق المنتجة له الى مراكز استقرار دائم ويظهر ذلك بوضوح في البصرة وكركوك ونيوى وميسان اما **المنافذ الحدودية وطرق النقل** سواء كان برية ام مائية ام جوية احد العوامل المهمة في توزيع الاقاليم الصناعية وتوزيع السكان اذا غالباً ما نجد ان توزيع السكان يمتد مع امتداد تلك الطرق .

علل / للعوامل الاقتصادية دور في توزيع السكان ؟

الجواب لأنها تحدد نوع استعمالات الارض سواء اكان للأغراض التجارية ام الصناعية ام الزراعية ام الخدمية فضلاً عن اهميتها في نمط توزيع السكان .

ج- العوامل الادارية والدينية

كثيراً ما تشجع مراكز المدن الادارية على جذب السكان اليها نظراً لتوفر فرص العمل والنشاطات الاقتصادية والخدمية والتجارية .

كما ان المراكز الدينية المقدسة ولاسيما في النجف وكربلاء وسامراء والكاظمية ساعد على جذب اعداد كبيرة من السكان لغرض زيارة تلك المراكز واستقرارها فيها الأمر الذي ادى الى ازدياد النشاط التجاري وتوسع العمران فيها .

س/ ما هو دور العوامل الادارية والدينية في توزيع السكان في العراق ؟

الجواب السابق ↑↑

علل / كثيرا ما تشجع مراكز المدن الادارية على جذب السكان ؟

الجواب نظراً لتوفر فرص العمل والنشاطات الاقتصادية والخدمية والتجارية .

علل / ان المراكز الدينية المقدسة ولاسيما في النجف وكربلاء وسامراء والكاظمية ساعد على جذب اعداد كبيرة من السكان؟

الجواب لغرض زيارة تلك المراكز واستقرارهم فيها الأمر الذي ادى الى ازدياد النشاط التجاري وتوسع العمران فيها.

د- العوامل التاريخية

يزداد عدد السكان في المدن مع قدم الاستيطان كلما كان الاستيطان في المنطقة قديماً ازداد عدد السكان فيها وتركزهم ، شهد العراق استقراراً كبيراً عبر تأريخه العريق ، حيث تشير المصادر التاريخية ان العراق شهد المراحل الأولى للاستيطان البشري وقد استوطنته حضارات بشرية قديمة ، اذ استقرت على ارضه العديد من القرى الزراعية لاسيما على جانبي نهر دجلة والفرات التي مثلت النواة الأولى للاستقرار البشري (كمدينة الموصل وسامراء والبصرة وبغداد) ومن الملاحظ من خلال الخارطة ان السكان توزعوا في خمس نطاقات ، احتلت فيها **بغداد** المرتبة الأولى من حيث عدد السكان في حين احتلت محافظات (المنشي، وميسان، وكربلاء) اقل عددا .

علل / يتناسب عدد السكان مع قدم الاستيطان البشري تناسباً طردياً ؟

الجواب وذلك لان كلما كان الاستيطان قديماً في المنطقة ازداد تركيز الاستيطان وتوزيعهم في تلك المناطق.

فراغ احتلت محافظة بغداد المرتبة الأولى من حيث عدد السكان في حين احتلت محافظات **(المنشي، وميسان وكربلاء)** اقل عددا .

تركيب السكان

٣

تعريفه: هو عبارة عن دراسة خصائص السكان من حيث تقسيمهم الى ذكورا واناث او تقسيمهم الى فئات عمرية مختلفة او تحديد حجم الاسرة او الحالة الزوجية او التعليم .

انواع تراكيب السكان

التركيب العمري للسكان

أ

تعريف : وهي احدى الدراسات السكانية التي تقوم بوصف الحالة العمرية لأفراد المجتمع وتقسيمها الى فئات عمرية لكل سنة أو خمس سنوات ، بحيث يوضع كل فرد من افراد المجتمع في المجموعة العمرية التي ينتمي اليها.

مثال على ذلك معرفة الفئات العمرية مثلا للسنوات ٦ - ١٨ تسهم في معرفة عدد الطلاب في عمر الدراسة الامر الذي يترتب عليه توفير المستلزمات الخاصة بالعملية التربوية كالكتب والمقاعد والهيئات التدريسية أو تحديد الفئات العمرية الخاصة بكبار السن الذين يستلزم الانفاق عليهم وتقديم الرعاية الخاصة لهم .

س / ما الاسباب التي جعلت التركيب العمري للسكان من اهم العوامل الديموغرافية ؟

س / ما اهمية دراسة التركيب العمري للسكان ؟

الجواب

- ١- ان دراسة هذا النوع من السكان له اهمية كبيرة في عملية التخطيط المستقبلي كوضع الخطط الخاصة بالتعليم والصحة والعمل والسكن
- ٢- وصف حالة المجتمع اذا كان فتيا ام كهلا ، اذ يترتب عليه معرفة تحديد نسبة القوى العاملة الايدي العاملة والاطفال والشيوخ والعجزة .

علل / ان التركيب العمري للسكان في العراق لسنة ٢٠١٩ تشير بفتوة عالية قاعدة عريضة للهرم السكاني؟

الجواب وذلك بسبب ارتفاع مستوى الخصوبة في العراق وتحسن الوضع الاقتصادي والمعيشي للسكان.

التركيب النوعي للسكان

ب

تعريف : ويقصد به تقسيم السكان الى ذكور واناث وإيجاد النسبة بينهما .

س/ كيف يمكنك قياس التركيب النوعي للسكان ؟

الجواب وذلك من خلال حساب عدد الذكور الى كل مئة من الاناث.

س/ ما اهمية دراسة التركيب النوعي للسكان ؟

الجواب معرفة حجم القوة العاملة ونوعها - معدلات الخصوبة والوفيات واتجاه النمو السكاني - والمشكلات الناجمة عن زيادة احد الجنسين على حساب الاخر

علل / في الكثير من الحالات غير الطبيعية تقل نسبة عدد الذكور على نسبة الاناث ؟

الجواب بسبب تعرض الذكور الى مخاطر العمل والمهن المختلفة اكثر من الاناث كالعامل في الصناعات الثقيلة والاعمال الشاقة وكذلك الحروب التي لها النصيب الأكبر في انخفاض نسبة الذكور على حسب الاناث

علل / لدراسة التركيب النوعي للسكان اهمية كبيرة ؟

الجواب معرفة حجم القوة العاملة ونوعها - معدلات الخصوبة والوفيات واتجاه النمو السكاني - والمشكلات الناجمة عن زيادة احد الجنسين على حساب الجنس الاخر

التركيب البيئي للسكان

ج

تعريف : ويقصد به دراسة وتوزيع السكان بين الحضر والريف.

الحضر : وهم سكان المدن الذين يعيشون في مراكز المدن ومراكز المحافظات والاقضية والنواحي ويمتهنون اعمالاً مختلفة كالصناعة والتجارة .

الريف : وهم سكان القرى و الارياف الذين يمتهنون اعمالاً تتعلق بالزراعة وتربية الحيوانات .

فراغ يقدر عدد السكان الحضر في العراق خلال عام ٢٠١٩ ، ٢٧٣٣٨٠٠٥ نسمة ، اما سكان الريف فقد بلغ ١١٧٨٩٨٨٤ نسمة ؟

علل / قلة سكان الارياف مقارنةً بسكان الحضر ؟

الجواب بسبب الهجرة من الريف الى المدن بسبب توفر الخدمات في المدن فضلاً عن اسباب اخرى منها اقتصادية واجتماعية .

كثافة السكان

٤

تعريفها : هي احدى اهم المقاييس التي يوضح من خلالها التباين في توزيع السكان ، ويتم الحصول عليها عن طريق قسمة عدد السكان على مساحة الدولة ، ولما كانت مساحة وطننا العراق تبلغ (٤٣٥,٠٥٢ كم) وعدد سكانه (٣٩١٢٧٨٨٩ نسمة) وهذا يعني أن الكثافة العامة للسكان تبلغ بنحو (٩٠ نسمة كم ٢) .

س/ تعد كثافة السكان احدى اهم المقاييس التي يوضح من خلالها التباين في توزيع السكان، كيف يتم الحصول عليها ؟

الجواب يتم الحصول عليها عن طريق قسمة عدد السكان على مساحة الدولة.

علل / ان نسبة السكان في العراق لا تعكس حقيقة كثافة السكان ؟

الجواب وذلك لعدم توزيع السكان على جميع اجزاء وطننا العراق على نحو متساوٍ ، نظرا لوجود مساحات شبه خالية من السكان كما هو الحال في الهضبة الغربية وبادية الجزيرة في القسم الغربي والشمال الغربي من العراق .

علل / عدم توزيع السكان على جميع اجزاء وطننا العراق على نحو متساوٍ؟

الجواب نظرا لوجود مساحات شبه خالية من السكان كما هو الحال في الهضبة الغربية وبادية الجزيرة في القسم الغربي والشمال الغربي من العراق .

الحركة المكانية للسكان (الهجرة)

٥

تعريفها : هي الانتقال الجغرافي للسكان من مكان الى اخر بغض النظر عن اسباب هذا الانتقال ودوافعه والمسافة التي يقطعها .

علل / تعد الهجرة من المشكلات التي تواجه المجتمعات في الوقت الحاضر ؟

الجواب لما يترتب عليها من نتائج ديموغرافية كثيرة تؤثر في تركيب السكان النوعي والعمرى وتوزيعهم على الانشطة الاقتصادية

فراغ ويعد التغير في خصائص التركيب النوعي والعمرى من أهم نتائج الهجرة .

انواع الهجرة

الهجرة الداخلية

أ

تعريفها : تعني الانتقال المكاني داخل حدود الدولة مثل الانتقال المكاني بين محافظات وطننا العراق .

الهجرة الخارجية

ب

تعريفها : وتعني الانتقال المكاني خارج الحدود السياسية للدولة كالهجرة الى اوربا او الى الولايات المتحدة الامريكية وغيرها من الدول .

اسباب الهجرة:

١. الاسباب الاقتصادية :

علل / تعد الاسباب الاقتصادية من اهم اسباب الهجرة ؟

الجواب نظرا لارتفاع نسبة البطالة وقلة فرص العمل ، فالفرد يبحث دائما عن تحسين مستوى المعيشة

س/ ما الاسباب الاقتصادية التي تؤدي الى حدوث الهجرة ؟

الجواب ارتفاع نسبة البطالة وقلة فرص العمل ، فالفرد يبحث دائما عن تحسين مستوى المعيشة لذلك يهاجر الى بلدان يجد فيها مبتغاه

٢. الاسباب الاجتماعية والسياسية : تتمثل تلك العوامل بالنزاعات والتهجير القسري والنزوح السكاني من منطقة الى اخرى .

٣. اسباب خدمية : قلة الخدمات التي كانت احد اسباب الانتقال من الريف الى المدينة فقلة الخدمات كال**التعليم والصحية والترفيهية** تدفع العديد من السكان الى الهجرة الى المدينة .

الزراعة

علل / تعد الزراعة احد اهم النشاطات الاقتصادية في العالم ؟

الجواب نظرا لعلاقتها المباشرة في حياة السكان من خلال توفير متطلبات العيش كالمأكل والملبس .

فراغ شكل وطننا العراق النواة الاولى للزراعة وقد عرف بمسميات عدة منها بلاد ما بين النهرين وبلاد الرافدين وارض السواد .

س/ اسباب نجاح الزراعة في وطننا العراق ؟

الجواب

- توفر الظروف الطبيعية والبشرية الملائمة لها.
- وجود مساحات كبيرة من الاراضي صالحة للزراعة .
- التربة الخصبة والمناخ الملائم .
- توفر الموارد المائية والأيدي العاملة

اهمية الزراعة في العراق

١. تحقيق الأمن الغذائي في العراق .
٢. توفر مصدر دخل للفلاحين.
٣. لها اهمية كبيرة من خلال ما توفره من اعلاف للثروة الحيوانية .
٤. توفر مواد اولية للصناعة .
٥. تسهم في الدخل الوطني بعد النفط.

المحاصيل الزراعية في العراق

يمكن تقسيم المحاصيل الزراعية في العراق الى ثلاث اقسام هي

اولا : المحاصيل الغذائية

ثانيا : المحاصيل الصناعية

ثالثا : محاصيل العلف

اولاً

المحاصيل الغذائية

تشمل المحاصيل التي تشكل الغذاء الرئيسي للسكان ويمكن تقسيمها على محاصيل الحبوب والمحاصيل الزيتية والخضروات والفاكهة وأشجار النخيل

١ محاصيل الحبوب

علل/ تعد الحبوب من اهم المحاصيل الزراعية ؟

الجواب لأنها الغذاء الرئيسي للسكان فضلا عن اهميتها كمادة اولية في الكثير من الصناعات .

ويمكن تقسيمها على الانواع الاتية

١ القمح والشعير

وهو من اهم محاصيل الحبوب ومن المحاصيل **الشتوية** وتختلف اوقات زراعتها وحصادها ما بين المنطقة الشمالية والجنوبية وفقا للاتي :

١ المنطقة المطرية الديمية

تتمثل بالسهول التي تنتشر في المنطقة الشمالية مثل هضبة الجزيرة جنوب سنجار والسندي وسهل اربيل وهضبة كركوك وسهل شهرزور ، وقد بلغ انتاج القمح فيها (٩٤٧ الف طن) في حين بلغ انتاج الشعير بنحو (١٢٧٣) طناً بحسب التقديرات الاحصائية لعام ٢٠١٩.

علل / يعد القمح والشعير من اهم انواع الحبوب ؟

الجواب نظراً لأهميتها الغذائية للسكان

تتمثل في ضفاف نهري دجلة والفرات ومنطقة الفرات الاوسط وقد بلغ انتاج القمح بنحو (٣٣٩٦ ألف طن) في حين بلغ انتاج الشعير بنحو (٢٤٦ ألف طن) بحسب التقديرات الاحصائية لسنة ٢٠١٩. يختلف توزيع مناطق زراعة القمح بين المنطقة المطرية والمروية تبعا للاختلاف نوعية التربة وكمية المياه ، وتوجد زراعة القمح في المناطق التي تتوفر فيها التربة المزيجه الجيدة الصرف ووفرة مصادر المياه وتأتي المحافظات التالية في المراتب الأولى في انتاج **القمح** هي :

محافظه **نينوى** في المرتبة الأولى .

محافظه **ديالى** في المرتبة الثانية .

محافظه **واسط** في المرتبة الثالثة .

اما الشعير :

محافظه **نينوى** في المرتبة الأولى . محافظه **القادسية** في المرتبة الثانية .

علل / تختلف توزيع مناطق زراعة القمح بين المنطقة المطرية والمروية؟

الجواب تبعا لاختلاف نوعية التربة وكمية المياه.

الرز

ب

وهو من المحاصيل الغذائية **الصيفية** ، تحتاج زراعته الى ظروف طبيعية خاصة ، اذا تتطلب زراعته مياه وفيرة ودرجة حرارة مرتفعة والى خبرة في زراعته ، ولذلك اقتصرت زراعته في منطقة السهل الرسوبي الاروائية ، ولاسيما المحافظات الوسطى والجنوبية ، وقد بلغت المساحة المزروعة لمحصول الرز ٢١ ألف دونم ، في حين قدرت كمية انتاجه بنحو ١٨ ألف طن ، وتتصدر محافظة **النجف** المرتبة الأولى من حيث المساحة والانتاج تلتها محافظة **القادسية** بحسب التقديرات الاحصائية لعام ٢٠١٨

وقد تركزت زراعته في المناطق الاتية :

١. الأراضي المحاذية لمجرى نهر الفرات في الكوفة والشامية .

٢. الاقسام الجنوبية من نهر الغراف

٣. الاراضي المحاذية لنهر دجلة وفروعه بين منطقتي علي الغربي والقرنة

ومن اهم انواع الرز الذي يزرع في وطننا :

١. **العنبر** : التي تكثر زراعته في منطقة الفرات الاوسط ، ولاسيما الشامية والمشخاب

٢. **النعيمة والحويزاوي** : تكثر زراعته في محافظتي العمارة والناصرية

٣. **النكازه** : ويتركز في المنطقة الشمالية

س/ ما الظروف التي تحتاجها زراعة الرز في وطننا العراق ؟

الجواب تتطلب زراعته مياه وفيرة ودرجة حرارة مرتفعة والى خبرة في زراعته.

فراغ وتتصدر محافظة النجف المرتبة الأولى من حيث المساحة والانتاج تلتها محافظة القادسية بحسب التقديرات الاحصائية لعام ٢٠١٨

الذرة الصفراء

ج

تعريفها : وهي من المحاصيل **الصيفية** لها استعمالات متعددة اذا تعد غذاء للسكان ومادة اولية في صناعة الزيوت النباتية وتزرع بنوعين بيضاء وصفراء.

س/ بين اهم المجالات التي تدخل في صناعتها الذرة الصفراء ؟

الجواب غذاء للسكان ، مادة اولية في صناعة الزيوت النباتية ، علف للحيوان .

فراغ تنتشر زراعة الذرة في معظم محافظات العراق وقد بلغت المساحة المخصصة لزراعتها **(٥٥ الف دونم)** بكمية انتاج بلغت **(٦٣ الف طن)** ، وقد احتلت محافظة **كركوك** المرتبة الأولى وتلتها محافظة **صلاح الدين** حسب التقديرات الاحصائية لسنة ٢٠١٨

فراغ تزرع الى جانب الذرة في وطننا العراق محاصيل اخرى اهمها العدس الماش الباقلاء والحمص .

المحاصيل الزيتية

٢

تعريفها : وهي من المحاصيل التي تدخل في الصناعة ولاسيما صناعة الزيوت النباتية فضلا عن اهميتها بوصفها غذاء للسكان ومن اهمها زهرة الشمس والسوسم.

علل / تتركز زراعة المحاصيل الزيتية في المنطقتين الشمالية والوسطى ؟

الجواب بسبب توفر الظروف الملائمة لزراعتها من مناخ ملائم وتربة خصبة ومصادر مياه وايدي عاملة .

ومن الامثلة على تلك المحاصيل

أ- زهرة الشمس :

تعريفها : وهي من المحاصيل الزيتية **الصيفية** التي تحتاج زراعتها الى ظروف طبيعية معينة كدرجة حرارة مرتفعة وتربة جيدة لذا توجد زراعتها في التربة المزيجية الخالية من الاملاح ،

وتزرع في اغلب محافظات العراق لاسيما بغداد و بابل وقد بلغت المساحة المزروعة لهذا المحصول (١٣٥) دونماً) وبكمية انتاج بلغت (٦٩ طناً) بحسب التقديرات الاحصائية لعام ٢٠١٨

ب- السمسم

تعريفه : وهو محصول **صيفي** متعدد الاستعمالات اذ يستعمل غذاء للسكان فضلا عن استعمالاته في صناعة الزيوت والصابون وعلف للحيوان، يزرع السمسم في جميع محافظات وطننا العراق لاسيما في بغداد ، القادسية ، بابل ، الانبار وقد بلغت المساحة المخصصة لزراعته (٨٨٩) دونما وبكمية انتاج بلغت (١٩٨ طناً) حسب التقديرات الاحصائية عام ٢٠١٨

س/ ماهي استعمالات السمسم ؟

الجواب

- يستعمل غذاءً للسكان
- فضلا عن استعمالاته في صناعة الزيوت والصابون
- وعلف للحيوان

ج - فستق الحقل

تعريفه : محصول **صيفي** يزرع في المحافظات الوسطى ، لاسيما محافظة ديالى، وقدرت المساحة المزروعة بهذا المحصول بنحو (٢٥١٨) دونماً) وبكمية انتاج بلغت (١٥٠٣ طن) حسب التقديرات الاحصائية لعام ٢٠١٨.

كما تزرع في وطننا العراق محاصيل زيتية اخرى مثل : **فول الصويا ، الكتان ، الدخن** : وتتباين كميات إنتاجها من محافظة الى أخرى .

الخضروات

٣

علل / للخضروات اهمية كبيرة في حياة السكان اليومية ؟

الجواب نظرا لأهميتها الغذائية لذا تركزت زراعتها قرب المدن .

علل / تركّز زراعة الخضروات قرب المدن ؟

الجواب نظرا لأهميتها الغذائية للسكان .

الزراعة المحمية او الزراعة المغطاة : وهي احد انماط الزراعة التي ساعدت على زراعة المحاصيل في غير اوقات زراعتها المحددة وهي محمية و ظهرت بعد التطور الذي حصل في وسائل النقل .

علل / على الرغم من الزيادة التي حصلت في انتاج الخضروات الا انها بقيت غير قادرة على اشباع حاجة السكان ؟

الجواب بسبب زيادة عدد السكان في المدن المتمثلة بالنمو السكاني وارتفاع مستوى المعيشة .

علل / استيراد كميات كبيرة من محاصيل الخضروات من الدول المجاورة ؟

الجواب لان الانتاج غير قادر على سد الحاجة المحلية لذلك نقوم بالاستيراد لسد النقص الحاصل

فراغ يزرع في وطننا العراق انواع عديدة من **الخضروات مثل الطماطم والبايما والباذنجان والسبانغ واللوبية** او غيرها من الخضروات .

الفواكه

٤

تشكل الفواكه جزءا من الغذاء اليومي للسكان فضلا عن استعمالها كمادة اولية في الكثير من الصناعات الغذائية ، ويتركز انتاج الفواكه في المنطقة الوسطى من العراق بسبب ملائمة المناخ والتربة الخصبة ووجود الموارد المائية فضلا عن توفر اليد العاملة واتساع حجم السوق وعادة ما تزرع اشجار الفاكهة في الظل

الاشجار الكبيرة لاسيما النخيل ويزرع في وطننا انواع كثيرة من الفواكه منها الحمضيات مثل (البرتقال - النارج - واليوسفي (اللانكي) والليمون الحلو - الليمون الحامض - والكريب فروت - (السندي) وغيرها)

علل / تتركز زراعة الفاكهة في المناطق الوسطى من العراق ؟

الجواب بسبب ملائمة المناخ والتربة الخصبة ووجود الموارد المائية فضلا عن توفر اليد العاملة واتساع حجم السوق

٥ اشجار النخيل

علل / عد النخيل اهم المحاصيل الزراعية في العراق ؟

الجواب نظرا لقيمتها الغذائية ، فضلا عن كونه من المحاصيل النقدية التي تسهم في الدخل القومي .

علل / تنتشر زراعة النخيل في منطقة السهل الرسوبي لاسيما حول ضفاف الانهار؟

الجواب وذلك بسبب جودة التربة الرسوبية والى توفر مياه الري وملائمة المناخ المشمس الجاف وارتفاع درجات الحرارة .

فراغ بلغ عدد اشجار النخيل في العراق بنحو (١٥,١٣٩,٠٧٦ نخلة) ، وبلغ مجموع انتاجها ٦٤٦ الف طن ، احتلت محافظة **بغداد** المرتبة الأولى في الانتاج تليها **بابل** ثم **كربلاء**

س/ ما المشكلات التي تعاني منها زراعة النخيل في العراق ؟

الجواب

١. الظروف المناخية المتمثلة بهبوب الرياح الجافة في فصل الصيف التي تؤدي الى جفاف الثمار .
٢. تعرض اشجار النخيل الى الآفات والامراض مثل حشرة الدوباس وتؤدي الى ضعف مقاومتها ومن ثم الهلاك.
٣. كثرة رواسب الانهار والجداول المتفرعة الأمر الذي يتسبب بإعاقة وصول المياه الى بساتين النخيل ولاسيما في بساتين شط العرب فضلا عن ظاهر المد والجزر وما تسببه من تدني انتاج النخيل وارتفاع نسبة الاملاح .
٤. هجرة المزارعين الى المراكز الحضرية الهجرة (من الريف الى المدينة) .
٥. وجود مشكلات وعقبات تتعلق بعمليات تسويق المنتج من الثمر تؤثر بشكل مباشر في تصريف الانتاج.
٦. التوسع في استعمالات الارض الحضرية على حساب الاراضي الزراعية التي جرفت مساحات واسعة من اراضي النخيل لتحل محلها الاراضي السكنية .

علل / لظاهرة المد والجزر تأثير سلبي على زراعة النخيل في العراق؟

الجواب ما تسببه من تدني انتاج النخيل وارتفاع نسبة الاملاح .

ثانياً

المحاصيل الصناعية

أ- القطن : يعد القطن من المحاصيل الصيفية التي تعددت استعمالاتها فهو مادة اولية في العديد من الصناعات كصناعة المنسوجات القطنية ، كما تستعمل بذوره في صناعة الزيوت النباتية ، وعلف للحيوانات .

س ما استعمالات القطن ؟

الجواب مادة اولية في العديد من الصناعات كصناعة المنسوجات القطنية ، كما تستعمل بذوره في صناعة الزيوت النباتية ، وعلف للحيوانات .

ب- التبغ والتبناك : وهما من المحاصيل الصيفية ويزرع التبغ في محافظة السليمانية ، اما التبناك فيزرع في محافظات الوسط والجنوب

ج- محاصيل اخرى : كالبنجر وقصب السكر ويعدان من المحاصيل الصناعية التي لها اهمية اقتصادية كبيرة ، لأنها مادة اولية في صناعة السكر .

علل / يعد البنجر وقصب السكر من المحاصيل الصناعية التي لها اهمية اقتصادية كبيرة ؟

الجواب لأنها مادة اولية في صناعة السكر .

ثالثاً

محاصيل العلف

تشمل المحاصيل المخصصة لتغذية الحيوانات وتكون على انواع متعددة كالجوت والبرسيم والتبن ونظرا للحاجة المتزايدة للأعلاف فتتم الافادة من بعض المحاصيل الصناعية مثل سيقان الذرة وبذورها والقصب والسمسم ، فضلا عن تصنيع العلف الحيواني .

علل / تتم الافادة من بعض المحاصيل الصناعية مثل سيقان الذرة وبذورها والقصب والسمسم؟

الجواب نظراً للحاجة المتزايدة للأعلاف.

الثروة الحيوانية

ان للثروة الحيوانية اهمية كبيرة في اقتصاد وطننا العراق ، وتشكل مصدرا مهما في الدخل القومي وترى اعداد مختلفة من الحيوانات في بلدنا كالأغنام والماعز والابقار والجاموس والدواجن والأسماك في مناطق مختلفة من وطننا العراق ، ولاسيما المنطقة المتموجة و هضبة الجزيرة

وتتمثل اهمية الثروة الحيوانية بما يأتي:

١. مادة غذائية للسكان كالحوم الحمراء والبيضاء والحليب والدواجن وبيض المائدة .
٢. رفد الكثير من الصناعات بموادها الأولية مثل الجلود والأصواف والشعر
٣. مصدر مهم للدخل القومي ، ومصدر دخل اضافي للمزارعين .
٤. امكانية الافادة من مخلفاتها كأسمدة عضوية .
٥. يستعمل بعضها وسائط للنقل ، ولاسيما في المناطق التي لا تستطيع وسائط النقل البري الحركة فيها كالمناطق الصحراوية والمناطق الجبلية الوعرة شديدة الانحدار

علل / تتباين مناطق انتاج الثروة الحيوانية بين مناطق انتاجها واعدادها من منطقة الى اخرى ؟

الجواب بسبب تباين الظروف الطبيعية والبشرية الخاصة بتربيتها

مشاكل القطاع الزراعي والحيواني في العراق وطرق معالجتها

١. الاعتماد على الطرق التقليدية في الزراعة وقلة استعمال التكنولوجيا الحديثة في الزراعة كالمكننة الزراعية ورش المبيدات بالوسائل الحديثة وعدم وجود اسمدة وبذور محسنة .
٢. قلة التخصيصات الاستثمارية للقطاع الزراعي قياسا بحجم التحديات التي يواجهها .
٣. ضعف القدرة التنافسية للمحاصيل الزراعية في الاسواق المحلية مقابل السلع الزراعية المستوردة .

٤. ضعف الامكانيات المالية والفنية والتكنولوجية والمعلوماتية والتسويقية للقطاع الزراعي الخاص والذي يشكل النسبة الاكبر من مجمل النشاط الزراعي .

٥. تأثير قسم كبير من الاراضي الزراعية بمشكلة التملح والتغدق في المياه الجوفية ولاسيما في المنطقة الجنوبية والوسطى .

٦. شحة مصادر المياه نتيجة لسياسة الدول المجاورة والمتمثلة بإقامة العديد من السدود على نهري دجلة والفرات الأمر الذي ادى الى تراجع الواردات المائية ومن ثم تراجع القطاع الزراعي

٧. **تنمية الانتاج الحيواني في العراق** من خلال التوسع في زراعة محاصيل العلف وتوفير الكوادر الطبية اللازمة ومكافحة الأمراض التي تصيب الحيوانات وتشريع القوانين التي تحافظ على الانتاج الحيواني كمنع عمليات الصيد الجائر والعناية بالمحميات الطبيعية .

علل / تتميز اغلب السلع الزراعية الوطنية بارتفاع اسعارها ؟

الجواب نتيجة لارتفاع تكاليف انتاجها .

علل / تشير الاحصاءات ان ٧٥% من الاراضي المروية تعاني من مشكلة الملوحة

الجواب بسبب سوء اعمال التشغيل والصيانة وانعدام شبكة البزل المتكاملة فانعكس ذلك على الانتاج كما ونوعا .

علل / شحة مصادر المياه في نهري دجلة والفرات احد مشاكل الزراعة في العراق؟

الجواب بسبب سياسة الدول المجاورة والمتمثلة بإقامة العديد من السدود على نهري دجلة والفرات الامر الذي ادى الى تراجع الواردات المائية .

س/ كيف يمكن او (ما الوسائل التي يمكن بواسطتها العناية بالثروة الحيوانية وتطويرها) ؟

الجواب من خلال التوسع في زراعة محاصيل العلف وتوفير الكوادر الطبية اللازمة ومكافحة الأمراض التي تصيب الحيوانات وتشريع القوانين التي تحافظ على الانتاج الحيواني كمنع عمليات الصيد الجائر والعناية بالمحميات الطبيعية .

الاختبار الثاني

اختبار الموارد المائية والسكان

س ١ عرف المصطلحات الآتية

١ - نمو السكان ٢ - هور الحمار ٣ - الزراعة المغطاة ٤ - كيبان ٥ - ناظم الورار

س ٢ / أ / عدد مشاريع السيطرة والخزن المقامة على نهر الفرات

س ٢ / ب / وضح دور العوامل الطبيعية في توزيع السكان

س ٣ / علل ما يأتي ولخمس فقط

١ لظاهرة المد والجزر تأثير سلبي في زراعة النخيل ؟

٢ ارتفاع معدلات النمو السكاني في العراق ؟

٣ - يتركز انتاج الفاكهة في المناطق الوسطى من العراق ؟

٤ - يتميز نهر دجله بكثرة تفرعاته وخاصة في جزئه الواقع بين شمال مدينة بغداد

والكوت ؟

هـ - للمياه الجوفية اهمية كبيره في المناطق ذات المناخ الصحراوي ؟

٦ - يسبب نهر الكارون عرقلة حركة الملاحة في شط العرب ؟

س ٤ / أ / ما المشكلات التي تعاني منها زراعة النخيل في العراق . عددها و لخمس فقط

س ٤ / ب / عند دخول نهر دجلة الأراضي العراقية تصب فيه مجموعة من الروافد عددها ؟

س ٥ / أ / ارسم خريطة العراق موضحا عليها نهر دجله - محافظة دهوك - نهر

الفرات - شط الحلة - شط الهندية)

س ٥ / ب / الى ماذا تعرضت الاهوار في جنوب العراق في الثمانينات من القرن الماضي . وما هي اثارها ؟

حل اسئلة السكان والزراعة

س ١ عرف ما يأتي:

التركيب النوعي للسكان : ويقصد بها تقسيم السكان الى ذكور واناث وايجاد النسبة بينهما .

التركيب العمري للسكان : وهي احدى الدراسات السكانية التي تقوم بوصف الحالة العمرية لأفراد المجتمع وتقسيمها الى فئات عمرية لكل سنة أو خمس سنوات ، بحيث يوضع كل فرد من أفراد المجتمع في المجموعة العمرية التي ينتمي اليها.

الحركة المكانية للسكان : هي الانتقال الجغرافي للسكان من مكان الى اخر بغض النظر عن اسباب هذه الانتقال ودوافعه والمسافة التي يقطعها .

التوزيع البيئي للسكان : ويقصد به دراسة وتوزيع السكان بين الحضر والريف.

كثافة السكان : هي احدى اهم المقاييس التي يوضح من خلالها التباين في توزيع السكان ...

نمو السكان : التغير في حجم السكان سواء بالزيادة او النقصان خلال مدة زمنية محددة .

العنبر : وهو احد اجود انواع الرز الذي يزرع في وطننا العراق في المناطق الوسطى والجنوبية من العراق.

المحاصيل الزيتية: وهي من المحاصيل التي تدخل في الصناعة ولاسيما صناعة الزيوت النباتية فضلا عن اهميتها بوصفها غذاء للسكان ومن اهمها زهرة الشمس والسمسم .

الزراعة المحمية : وهي احد انماط الزراعة التي ساعدت على زراعة المحاصيل في غير اوقات زراعتها المحددة وهي محمية و ظهرت بعد التطور الذي حصل في وسائل النقل.

س ٢ / علل ما يأتي:

١- لدراسة التركيب العمري للسكان اهمية كبيرة ؟

الجواب ان دراسة هذا النوع من السكان له اهمية كبيرة في عملية التخطيط المستقبلي كوضع الخطط الخاصة بالتعليم والصحة والعمل والسكن ووصف حالة المجتمع اذا كان فتياً ام كهلاً ، اذ يترتب عليه معرفة تحديد نسبة القوى العاملة الايدي العاملة والاطفال والشيوخ والعجزة

٢- تعد الحركة المكانية للسكان من ابرز المشكلات التي تواجه السكان في الوقت الحاضر ؟

الجواب لما يترتب عليها من نتائج ديموغرافية كثيرة تؤثر في تركيب السكان النوعي والعمري وتوزيعهم على الانشطة الاقتصادية .

٣- تتباين مناطق زراعة القمح والشعير في العراق في المناطق المروية ؟

الجواب تبعا للاختلاف نوعية التربة وكمية المياه.

٤ - ان الكثافة العامة للسكان لا تعكس حقيقة التوزيع الجغرافي لكثافة السكان في العراق ؟

الجواب وذلك لعدم توزيع السكان على جميع اجزاء وطننا العراق على نحو متساو ، نظرا لوجود المساحات شبه خالية من السكان كما هو الحال في الهضبة الغربية وبادية الجزيرة في القسم الغربي والشمال الغربي من العراق

٥- انتاج الخضروات لا يكفي لسد الحاجة المحلية ؟

الجواب بسبب زيادة عدد السكان في المدن المتمثلة بالنمو السكاني وارتفاع مستوى المعيشة .

٦ - لمحصول القطن استعمالات متعددة ؟

الجواب مادة اولية في العديد من الصناعات كصناعة المنسوجات القطنية ، كما تستعمل بذوره في صناعة الزيوت النباتية ، وعلف للحيوانات

٧ - لظاهرة المد والجزر تأثير سلبي على زراعة النخيل ؟

الجواب ما تسببه من تدني انتاج النخيل وارتفاع نسبة الاملاح .

٨ - انخفاض عدد الذكور عن الاناث في المجتمعات التي تشهد حالات غير طبيعية ؟

الجواب وذلك لتعرض الذكور الى مخاطر العمل وكذلك العمل في البيئات الصعبة والصناعات الثقيلة

٩ ارتفاع معدلات النمو السكاني في العراق ؟

الجواب بسبب تحسن الحالة الصحية وارتفاع مستوى دخل الفرد و زيادة الخصوبة .

١٠ دراسة التركيب النوعي للسكان اهمية كبيرة ؟

الجواب معرفة حجم قوة العاملة ونوعها - معدلات الخصوبة والوفيات واتجاه النمو السكاني - والمشكلات الناجمة عن زيادة احد الجنسين على حساب الجنس الاخر .

س ٣/ املا الفراغات التالية بكلمات مناسبة :

- ١- يزرع محصول زهرة الشمس في العديد من المحافظات منها بغداد وبابل .
- ٢- احتلت محافظة نينوى المرتبة الأولى في انتاج الشعير تلتها محافظة القادسية .
- ٣- يعود نجاح الزراعة في العراق الى اسباب عدة منها توفر الظروف الطبيعية والبشرية الملائمة لها ومن امثلتها التربة الملائمة والمناخ الملائم
- ٤- تنتزع زراعة القمح والشعير في منطقتين هما المنطقة المطرية الديمية والمنطقة الاروائية .
- ٥- يتحدد نمو السكان بعوامل عدة منها ولادات وفيات والهجرة .
- ٦- احتلت محافظة نينوى المرتبة الأولى في زراعة القمح تلتها محافظة ديالى .
- ٧- احتلت محافظة النجف المرتبة الأولى في زراعة الرز

س ٦/ هناك مجموعة من الاسباب التي ادت الى تدني زراعة النخيل في العراق ، عددها ؟

الجواب

- ١- الظروف المناخية المتمثلة بهبوب الرياح الجافة في فصل الصيف التي تؤدي الى جفاف الثمار
- ٢- تعرض اشجار النخيل الى الآفات والامراض . مثل (حشرة الدوباس) وتؤدي الى ضعف مقاومتها ومن ثم الهلاك
- ٣- كثرة رواسب الانهار والجداول المتفرعة الامر الذي يتسبب بإعاقة وصول المياه الى بساتين النخيل ولاسيما في بساتين شط العرب فضلا عن ظاهر المد والجزر وما تسببه من تدني انتاج النخيل وارتفاع نسبة الاملاح .
- ٤- هجرة المزارعين الى المراكز الحضرية الهجرة من الريف الى المدينة.
- ٥- وجود مشكلات وعقبات تتعلق بعمليات تسويق المنتج من التمور تؤثر بشكل مباشر في تصريف الانتاج.

٦- التوسع في استعمالات الارض الحضرية على حساب الاراضي الزراعية التي جرفت مساحات واسعة من اراضي النخيل لتحل محلها الاراضي السكنية .

س // يعاني الانتاج الزراعي في العراق مجموعة من المشكلات ؟ عددها ؟

الجواب

- ١- الاعتماد على الطرق التقليدية في الزراعة ، وقلة استعمال التكنولوجيا الحديثة في الزراعة كالمكننة الزراعية ورش المبيدات بالوسائل الحديثة وعدم وجود اسمدة وبذور محسنة .
- ٢- قلة التخصيصات الاستثمارية للقطاع الزراعي قياسا بحجم التحديات التي يواجهها .
- ٣- ضعف القدرة التنافسية للمحاصيل الزراعية في الاسواق المحلية مقابل السلع الزراعية المستوردة .
- ٤- ضعف الامكانيات المالية والفنية والتكنولوجية والمعلوماتية والتسويقية للقطاع الزراعي الخاص والذي يشكل النسبة الاكبر من مجمل النشاط الزراعي .
- ٥- تأثير قسم كبير من الاراضي الزراعية بمشكلة التملح والتغدق في المياه الجوفية ولاسيما في المنطقة الجنوبية والوسطى .
- ٦- شحة مصادر المياه نتيجة لسياسة الدول المجاورة والمتمثلة بإقامة العديد من السدود على نهري دجلة والفرات الأمر الذي ادى الى تراجع الواردات المائية ومن ثم تراجع القطاع الزراعي
- ٧- تنمية انتاج الحيواني في العراق من خلال التوسع في زراعة محاصيل العلف وتوفير الكوادر الطبية اللازمة ومكافحة الامراض التي تصيب الحيوانات وتشريع القوانين التي تحافظ على الانتاج الحيواني كمنع عمليات الصيد الجائر والعناية بالمحميات الطبيعية

س ٨ ارسم خارطة العراق ثم حدد عليها المحافظة التي تحتل المرتبة الأولى في زراعة المحاصيل الاتية :
(القمح والشعير - الرز - المحاصيل الزيتية - النخيل - الذرة الصفراء)

س ٩/ وضح دور العوامل التاريخية والاقتصادية في توزيع السكان ؟

الجواب

العوامل الاقتصادية :

الطابع الزراعي : فمثلا يجعل للزراعة دورا كبيرا في جذب السكان والتي تظهر عادة في المناطق الممتدة حول نهري دجلة والفرات .

المناطق الصناعية : ترتفع فيها الكثافة السكانية وتتجمع المدن الكبرى حولها كمدينة بغداد والموصل .

الثروات الاقتصادية كالنفط والثروات المعدنية : لها دور كبير في تحويل المناطق المنتجة له الى مراكز استقرار دائم ويظهر ذلك واضحا في البصرة وكركوك ونينوى وميسان . .

المنافذ الحدودية وطرق النقل سواء كان برية ام مائية ام جوية : احد العوامل المهمة في توزيع الاقاليم الصناعية وتوزيع السكان اذا غالبا ما نجد ان توزيع السكان يمتد مع امتداد تلك الطرق

العوامل التاريخية : يزداد عدد السكان في المدن مع قدم الاستيطان كلما كان الاستيطان في المنطقة قديما ازداد عدد السكان فيها وتركزهم، شهد العراق استقرارا كبيرا عبر تاريخه العريق، حيث تشير المصادر التاريخية ان العراق شهد المراحل الأولى للاستيطان البشري وقد استوطنته حضارات بشرية قديمة ، اذ استقرت على ارضه العديد من القرى الزراعية لاسيما على جانبي نهر دجلة والفرات التي مثلت النواة الأولى للاستقرار البشري كمدينة **الموصل وسامراء والبصرة وبغداد** من الملاحظ من خلال الخارطة ان السكان توزعوا في خمس نطاقات ، احتلت فيها **بغداد** المرتبة الأولى من حيث عدد السكان حيث احتلت **محافظات** **المتنى، وميسان، وكربلاء** اقل عددا

س ١٠ / ما اهمية دراسة التركيب النوعي للسكان :

الجواب معرفة حجم قوة العاملة ونوعها - معدلات الخصوبة والوفيات واتجاه النمو السكاني - والمشكلات الناجمة عن زيادة احد الجنسين .

س ١١ / وضح دور العوامل الطبيعية في توزيع السكان ؟

الجواب

التضاريس : التضاريس تأثير كبير في توزيع السكان ، فالسكان عادة ما يفضلون المناطق السهلية لما تتمتع به من سهولة التنقل والتربة الخصبة وامكانية القيام بالعمليات الزراعية والنشاطات الاقتصادية الاخرى ، وتعد منطقة السهل الرسوبي (الفيضي) في وسط العراق من اكثر المناطق التضاريسية سكانا اذا تضم بنحو ثلثي عدد السكان ، ما في المنطقة الشمالية فيتوزع السكان على سهول المنطقة المتموجة وسهول

المنطقة الجبلية، في حين ان سكان الهضبة الغربية الصحراوية يقتصر توزيعهم حول مناطق الواحات ومراكز الوحدات الادارية .

المناخ و الموارد المائية : نظرا لسيادة المناخ الصحراوي وظروف الجفاف التي تتمثل بارتفاع درجات الحرارة وقلة الامطار نجد ان غالبية سكان العراق يتركزون عادة بالقرب من المصادر المائية والتي تتمثل بنهري دجلة والفرات وفروعه في حين نجد ان سكان الهضبة الغربية قد اعتمدوا في تركيزهم بصورة رئيسية على المياه الجوفية ومياه الامطار .

س ١٢ اكتب عن الكثافة العامة للسكان في العراق ؟

الجواب احدى اهم المقاييس التي يوضح من خلالها التباين في توزيع السكان ، ولما كانت مساحة وطننا العراق تبلغ (٤٣٥,٠٥٢ كم (٢) وعدد سكانه (٣٩١٢٧٨٨٩ نسمة) وهذا يعني أن كثافة العامة للسكان تبلغ بنحو (٩٠ نسمة كم ٢) تعد كثافة السكان احدى اهم المقاييس التي يوضح من خلالها التباين في توزيع السكان، كيف يتم الحصول عليها يتم الحصول عليها عن طريق قسمة عدد السكان على مساحة الدولة ان نسبة السكان في العراق لا تعكس حقيقة كثافة السكان وذلك لعدم توزيع السكان على جميع اجزاء وطننا العراق على نحو متساو ، نظرا لوجود المساحات شبه خالية من السكان كما هو الحال في الهضبة الغربية وبادية الجزيرة في القسم الغربي والشمال الغربي من العراق عدم توزيع السكان على جميع اجزاء وطننا العراق على نحو متساو نظرا لوجود المساحات شبه خالية من السكان كما هو الحال في الهضبة الغربية وبادية الجزيرة في القسم الغربي والشمال الغربي من العراق .

س ١٣ / ما اهمية التركيب العمري للسكان ؟ وضح ذلك ؟

الجواب

- ١- ان دراسة هذا النوع من السكان له اهمية كبيرة في عملية التخطيط المستقبلي كوضع الخطط الخاصة بالتعليم والصحة والعمل والسكن
- ٢- وصف حالة المجتمع اذا كان فتيا ام كهلا ، اذ يترتب عليه معرفة تحديد نسبة القوى العاملة الايدي العاملة والاطفال والشيوخ والعجزة .

س ١٤ / وضح دور العوامل الادارية والدينية في توزيع السكان ؟

الجواب كثيرا ما تشجع مراكز المدن الادارية على جذب السكان اليها نظرا لتوفر فرص العمل والنشاطات الاقتصادية والخدمية والتجارية . كما ان المراكز الدينية المقدسة ولاسيما في **النجف وكربلاء وسامراء والكاظمية** ساعد على جذب اعداد كبيرة من السكان لغرض زيارة تلك المراكز والاستقرار فيها الامر الذي ادى الى ازدياد النشاط التجاري وتوسع العمران فيها.

س ١٥ / امامك خريطة وطننا العراق ، قسم محافظات وطننا العراق الى خمسة نطاقات تمثل توزيع السكان من خلال الاعتماد على الخريطة .

الجواب / تدرب على رسم خارطة العراق



الثروات المعدنية والصناعية

تؤدي الثروات المعدنية دورا مهما وكبيراً في الاقتصاد العراقي وفي مقدمتها النفط والغاز الطبيعي ، ومن ثم الكبريت والفوسفات والمواد الأولية الاخرى ، وتشكل هذه الثروات مواد اولية للكثير من الصناعات منها (الحديد ، والصلب ، والاسمنت ، والأدوية ، والسكر ، والنسيج ، والسيراميك ، ومواد البناء ، والطابوق) ولما كان الاقتصاد العراقي قائم على اساس الانتاج الزراعي والتجاري اصبح اليوم يعتمد على هذه الثروات بشكل رئيس في تجارته الخارجية فعد مصدر للدخل القومي .

تقسم الصناعة الى نوعين :

اولاً: الصناعات الاستخراجية

ثانياً : الصناعات التحويلية

اولا

الصناعات الاستخراجية

تعريفها : وتعني استخراج المواد الخام من باطن الارض مثل النفط والغاز الطبيعي والكبريت والفوسفات والمعادن الأخرى .

النفط الخام

يعد النفط الخام من اهم الثروات الطبيعية في العالم ويسمى البعض الذهب الاسود فلا توجد ثروة تنافسه في استعمالاته المتنوعة .

علل / تعتمد معظم دول العالم على النفط ؟

الجواب بصفته مصدراً أساسياً للطاقة ولأسيما الدول الصناعية.

س/ ما استعمالات النفط ؟

الجواب تزداد استعمالاته سنة بعد أخرى فهو يمد وسائل النقل المختلفة والمصانع ومحطات توليد الطاقة الكهربائية بالطاقة اللازمة ومادة أولية أساسية للكثير من الصناعات المهمة .

س/ ما هو اصل النفط ، أو كيف يمكنك تفسير اصل النفط ؟

الجواب

يعتقد ان حقول النفط الموجودة في باطن الارض اليوم كانت قبل مئات الملايين من السنين مساحات واسعة تغطيها مياه البحر، وكانت تعيش بها ملايين من الكائنات الحية (الحيوانية و النباتية) ومن ثم غطت بسيول من الرمل والطين وترسبت في قاع البحر ، وهكذا نشأت طبقات بعضها فوق البعض الآخر ، وبفعل الضغط الشديد والحرارة وتفاعل البكتريا ، والكائنات الحية الاخرى تحولت بقايا تلك الكائنات الى سائل اسود يطلق عليه (النفط) ونتيجة للالتواءات والانكسارات التي تحدث بالقشرة الارضية تكونت مكان يتجمع بها النفط يطلق عليها (حقول النفط)

حقول النفط : وهي عبارة عن مكان يتجمع بها النفط حدثت بسبب الالتواءات والانكسارات التي تحدث في القشرة الارضية .

حقول النفط في العراق :

تتوزع حقول النفط في العراق في ثلاث مناطق جغرافية

أ- حقول المنطقة الشمالية

ب- حقول المنطقة الوسطى

ج- حقول المنطقة الجنوبية

أ حقول المنطقة الشمالية

تضمن المنطقة الشمالية ثلاث مجموعات وهي :

الأولى : في محافظة نينوى وتشمل (عين زاله ويطمة والكياره) .

الثانية : في محافظة كركوك وتشمل (بابا كركر باي حسن وجمبور وخباز) .

ومحافظة صلاح الدين وتشمل (حقول تكريت وعجيل وبلد) .

الثالثة : في محافظات اقليم كردستان وتشمل (حقل طق وطاقوكي وخو رماله) .

عين زالة - بطمة - الكيارة :- وهي احدى اهم حقول النفط المهمة في العراق التي تقع ضمن المجموعة الشمالية في محافظة نينوى .

ب حقول المنطقة الوسطى

وتتضمن حقل شرقي بغداد في بغداد وحقل نفط خانة في محافظة ديالى وحقل بدرة والاحدب في محافظة واسط
حقل بغداد - حقل نفط خانة - بدرة - الاحدب : وهو احد حقول النفط المهمة في العراق التي تقع ضمن مجموعة الحقول الوسطى في العراق والتي تساهم بشكل كبير في انتاج النفط في العراق .

ج حقول المنطقة الجنوبية

وتتضمن ثلاثة مجموعات وهي كالتالي...!!

الاولي : في محافظة البصرة وتشمل (حقل الرميطة الشمالي والجنوبي - حقل مجنون - وغرب القرنة والزيبر)

الثانية : في محافظة ميسان وتشمل (حقل بزركان - وابو غراب - والحلفاية - الفكه) .

الثالثة : في محافظة ذي قار وتشمل (الناصرية - الغراف - الرافدين) .

حقل مجنون : وهو احد الحقول المهمة لإنتاج النفط في العراق الذي يقع ضمن مجموعة الحقول الجنوبية في العراق في محافظة البصرة .

احتياطي وانتاج النفط العراقي

يبلغ احتياطي العراق المؤكد من النفط نحو (١٤٧ مليار برميل) اي ١٠% من الاحتياطي العالمي يأتي العراق بالمرتبة الخامسة عالميا **والثانية** عربيا بعد المملكة العربية السعودية ، وقد بلغ متوسط انتاج النفط من عام ٢٠١٩ (اكثر من اربعة ملايين برميل يوميا) .

معلومات اثرائية

اوبك : هي منظمة عالمية تأسست في بغداد عام ١٩٦٠ للدول المصدرة للنفط .

الاوليك : وهي منظمة عربية اقليمية ذات طابع دولي ، تأسست بموجب اتفاقية تم التوقيع على ميثاقها في العاصمة اللبنانية بيروت ١٩٦٨م.

طرق نقل النفط العراقي

يتم نقل النفط العراقي بثلاث وسائل وهي :

أ النقل بالانابيب

ب النقل بواسطة السفن

ج النقل البري للنفط

أ النقل بالانابيب

١- ينقل الى سواحل الخليج العربي بثلاثة انابيب من حقول النفط الجنوبية ومنها الى موانئ تصدير النفط (ميناء الفاو والبصرة وميناء العميق وميناء العمية) .

٢- ينقل النفط الى ساحل البحر المتوسط عبر الخط التركي الى ميناء **جيهان التركي** وهو بديل للخط السابق العراقي السوري الى مينائي بانياس السوري وطرابلس اللبناني على سواحل البحر المتوسط .

٣- الى ساحل البحر الاحمر عبر الخط العراقي السعودي الى ميناء **ينبع** السعودي وهو متوقف حالياً فضلاً عن منظومة الخط الاستراتيجي لتصدير النفط الخام الذي يربط الحقول الشمالية بالجنوبية ، وينقل نفط حقول كركوك الى محطة حديثة في محافظة الانبار ومنها الى البحر المتوسط او من حديثة الى الخليج العربي وبالعكس .

ميناء الفاو - البصرة - العميق - العمية : وهو احد اهم الموانئ العراقية على الخليج العربي والذي له دور كبير في تجارة العراق الخارجية وخصوصا نقل النفط

جيهان التركي : وهو احد الموانئ التركية التي تقع على البحر المتوسط والتي يتم تصدير النفط العراقي عن طريقها .

بانياس : وهو احد الموانئ السورية الذي يقع على البحر المتوسط ويمثل احد منافذ وخطوط تصدير النفط العراقي الى البحر المتوسط.

طرابلس : وهو احد الموانئ اللبنانية التي تقع على البحر المتوسط ويستخدم سابقا لتصدير النفط العراقي عن طريقه الى الاسواق العالمية .

ينبع : وهو احد اهم الموانئ السعودية التي تقع على البحر الاحمر والذي يستخدم بشكل كبير في تصدير النفط العراقي عن طريقه الى الاسواق العالمية وهو متوقف حاليا عن العمل .

الخط الاستراتيجي : وهو احد اهم الخطوط الرئيسية لتصدير النفط الخام الذي يربط الحقول الشمالية بالجنوبية وينقل نفط حقول كركوك الى محطة حديثة في محافظة الانبار ومنها الى البحر المتوسط او من حديثة الى الخليج العربي وبالعكس

ب) النقل بواسطة السفن

تعد ناقلات النفط البحرية احد افضل الوسائل في اوصول النفط من اماكن الانتاج الى اماكن الاستهلاك وتقع معظم اماكن استهلاك النفط على مسافات بعيدة من مراكز الانتاج

ج) النقل البري للنفط

يتم هذا النقل عن طريق القاطرات على سكك الحديد داخل العراق الى بعض المصافي محطات الكهرباء فضلا عن النقل بالسيارات الحوضية (التانكرات) داخل العراق وخارجة .

مصافي تكرير النفط العراقي

١. **مصفي الدورة :** يقع المصفي في محافظة بغداد ويبلغ انتاجه (١٦٥ الف برميل / يوميا) ويزود

بالنفط من حقول كركوك

٢. **مصفي بيجي :** يقع المصفي في محافظة صلاح الدين ويبلغ انتاجه (٣١٠ الف برميل يوميا)

ويزود بالنفط من حقول كركوك .

٣. **مصفي البصرة :** يقع المصفي في محافظة البصرة ويبلغ انتاجه (٢١٠ الف برميل / يوميا) ويزود

بالنفط من حقول الرميلة

٤. **مصافي اخرى :** وهي ذات طاقة انتاجية صغيرة ومنها مصفي (الوند) في محافظة ديالى ، وكركوك

وحديثة والموصل كركوك والناصرية والنجف وغيرها .

مصفى الوند : وهو احد مصافي النفط الصغيرة في العراق الذي يقع في محافظة ديالى ضمن المجموعة الوسطى للنفط



يتميز الغاز الطبيعي بانه : الوقود الأنظف والاقل اصدارا للانبعاثات الملوثة للجو هو مصدر مهم للطاقة الحرارية والديناميكية والكهربائية . يساهم بشكل كبير في قطاعات النقل والصناعة والكهرباء والاسكان. مادة أولية للصناعات البتروكيمياوية والمبيدات ومواد الانتاج الزراعي هو اهم مصادر الطاقة البديلة للنفط .

س/ ما هي ابرز حقول انتاج الغاز في العراق ، وأين يتواجد ؟

الجواب

يعد الغاز الطبيعي في العراق عبارة عن ثروة هائلة ، يكون مصاحب لإنتاج النفط ، والغاز الحر وتقع حقول الغاز في شرق وشمال شرق العراق ومن أمثلتها :

- حقول : كور مور ، وجمجمال في محافظة السليمانية .
- حقول : خشم الاحمر ، المنصورية في محافظة ديالى.
- حقل السببية في جنوب محافظة البصرة .
- حقل عكاس في الصحراء الغربية في محافظة الانبار.

س/ ما اهمية الغاز بالنسبة للعراق ، وماهو حجم الاحتياطي ، وماهو ترتيب العراق عالميا وعربيا من حيث حجم الاحتياطي ؟

الجواب / تتمثل اهمية الغاز الطبيعي بأنه مصدر مهم للطاقة الحرارية والديناميكية والكهربائية يبلغ الاحتياطي العراقي من الغاز الطبيعي نحو (٣٧٤٤ مليار متر مكعب) وهو بذلك يشغل المرتبة الخامسة عربيا وبنسبة مئوية قدرها ٦% من الاحتياطي العربي وبالمرتبة العاشرة بنسبة ١,٩% من الاحتياطي العالمي للغاز الطبيعي في العالم

علل / انتاج الغاز الطبيعي المسوق لا يتناسب مع الانتاج الاجمالي من الغاز الطبيعي ولا يتناسب مع ما يمتلكه العراق من احتياطي كبير ؟

الجواب لأنه يحرق هدرًا وهو مصاحب لاستخراج النفط .

الكبريت الحر

٣

يتركز انتاج الكبريت في محافظة **نينوى** و**صلاح الدين** في المنطقة الممتدة من جنوب الموصل في منطقتي المشرق والفتحة وتقدر احتياطي **الكبريت** حالياً بنحو (٦٠٠ مليون طن) في حين يقدر الانتاج الاستخراجي بنحو ٦٠٠ مليون طن سنوياً

المشرق - الفتحة : وهي احدى مناطق انتاج الكبريت في وطننا العراق تقع في محافظة صلاح الدين في المنطقة الممتدة جنوب الموصل .

س/ ما اهمية الكبريت الصناعية ، وما استعمالاته ؟

الجواب

- ١- يستعمل في الزراعة لمعادلة قلوية التربة .
- ٢- استعماله في تحضير حامض الكبريتيك
- ٣- يستخدم في صناعة الالصبغ والدهانات (الطلاء) .
- ٤- يستخدم في صناعة المنسوجات والورق .
- ٥- يستخدم في العديد من الصناعات الكيماوية .
- ٦- يستعمل في الثقاب والمفرقات

حامض الكبريتيك : وهو مركب كبريتي يستخدم في صناعة الالصبغ والدهانات (الطلاء) .

الفوسفات

٤

توجد في منطقة الصحراء الغربية من العراق ضمن محافظة الانبار في منطقة (**عكاشات**) بين مدينة القائم ومدينة الرطبة ، والاحتياطيات المثبتة والصناعية المتوفرة تتجاوز (١٠ مليار طن) في حين يقدر الانتاج بنحو مليوني طن سنوياً .

عكاشات : هي احدى مناطق انتاج الفوسفات في العراق في الصحراء الغربية التي تقع في محافظة الانبار بين مدينة القائم والرطبة

س/ ما هي استعمالات الفوسفات ؟

الجواب

تستعمل الفوسفات في الكثير من الصناعات الكيماوية اهمها تحضير عنصر الفسفور - وحامض الفسفوريك المستعمل في الصناعات التعدينية والحربية والطبية والغذائية والخزفية والنسيج واعواد الثقاب.

علل / يذهب معظم الفوسفات المستخرج لصناعة الاسمدة ؟

الجواب وذلك من أجل زيادة انتاجية المحاصيل الزراعية فضلا عن امكانية استخراج بعض المعادن النادرة والعناصر المشعة

معادن اخرى

٥

هناك معادن اخرى الى جانب المعادن التي تم ذكرها سابقا تعد ذات قيمة اقتصادية منها (**القرار - الملح - احجار الكلس - الرخام - الجص - الرمال**) في محافظات الانبار والنجف وكربلاء والمثنى والبصرة ، وهناك بعض المعادن المهمة التي توجد في شمال العراق منها : (**الحديد - المنغنيز - الرصاص - الخارصين - الكروم - النيكل - المرمر**) .

ثانياً

الصناعات التحويلية

تعريفها : وهي الصناعات التي يقتصر نشاطها على تحويل المواد الاولية الى منتجات وسطية أو منتجات نهائية.

فراغ ان جميع دول العالم ولاسيما النامية منها قد وجدت في عملية التصنيع السبيل لتنمية الاقتصاد وتطويره ورفع المستوى المعيشي لسكانها ومن ثم تدعيم استقلالها السياسي .

انواع الصناعات التحويلية وتوزيعها الجغرافي على المحافظات العراقية

١ الصناعات الغذائية

أ- صناعة الزيوت النباتية في محافظات (**بغداد وميسان وبابل**) .

- ب- صناعة السكر في محافظات (نينوى - السليمانية - ميسان - بابل) .
 ت- صناعة الالبان في المحافظات (بغداد - المثنى - اربيل - البصرة - نينوى) .
 ث- صناعة التعليب في المحافظات (كربلاء - ديالى - اربيل - دهوك) .

س عدد الصناعات الغذائية في وطننا العراق ، او وزع جغرافيا الصناعات الغذائية في العراق ؟
 الجواب السابق.

٢ الصناعات النسيجية والجلود

- أ- صناعة الغزل والنسيج القطني في المحافظات (بغداد نينوى واسط) .
 ب- صناعة الغزل والنسيج الصوفي في المحافظات (بغداد - ذي قار - اربيل) .
 ت- صناعة المنسوجات الحريرية في (محافظة بابل) .
 ث- صناعة الملابس والسجاد والجلود (معظم المحافظات)
 س/ وزع جغرافيا صناعة الغزل والنسيج في وطننا العراق ؟
 الجواب السابق.

٣ الصناعات الانشائية

- أ - صناعة الاسمنت في المحافظات (بغداد - نينوى - السليمانية - بابل - كربلاء - النجف - الانبار - المثنى) .
 ب - صناعة الطابوق (معظم محافظات العراق) .

٤ الصناعات الكيماوية

- أ- صناعة تكرير النفط والغاز والبتروكيماويات في محافظات (بغداد وكركوك والبصرة) .
 ب- صناعة الادوية في المحافظات (صلاح الدين وبغداد ونينوى) .
 ت- صناعة الزجاج (محافظة الانبار) .
 ث- صناعة الورق في المحافظات (بغداد وميسان والبصرة)

س/ وزع جغرافيا الصناعات الكيماوية في العراق ، او عدد انواع الصناعات الكيماوية في العراق؟

الجواب السابق

٥ الصناعات المعدنية الاساسية

أ- صناعة الحديد والصلب والألمنيوم في محافظات (البصرة وذي قار)

ب- صناعة الاثاث المنزلية (محافظة بغداد)

ت- الصناعات الكهربائية في المحافظات (بغداد - ديالى - ذي قار)

ث- صناعة تجميع السيارات (محافظة بابل)

النقل والمواصلات

علل / يعد قطاع النقل بفروعه وانشطته مكونا مهما للبنية الاساسية للاقتصاد الوطني وركيزة اساسية للتنمية الاقتصادية والاجتماعية في العراق ؟

الجواب لما له من تأثير في القطاعات الاقتصادية الاخرى مثل الزراعة والصناعة والتجارة والسياحة وغيرها

علل / يعد العراق من الدول الرائدة في مجال استعمال النقل ؟

الجواب لما يمتلكه من شبكة كبيرة تغطي اجزاء واسعة من ارضه

ازرع جميلا ولو في غير موضعه
فلا يضيع جميل أينما زرعنا
ان الجميل وأن طال الزمان به
فليس يحصده الا الذي زرعنا

انواع طرق النقل

اولاً

الطرق البرية

فراغ / الطرق الاوسع انتشاراً في العراق هي الطرق البرية ؟. وتشمل ↓↓

طرق النقل بالسكك الحديدية

٢

يعد العراق من بين الدول الرائدة في مجال استعمال سكك الحديد في مجال النقل واول قطار تم تسييره في العراق كان عام ١٩١٤ وكان الاعتماد على سكك الحديد في مجال نقل المسافرين والبضائع الكبيرة لأنها رخيصة ولا تخضع لقواعد المرور ولا تتأثر بتقلبات الطقس

سلبياتها

عدم مرونتها انها مقيدة بالسكة

الحديدية

علل / لسكك الحديد اهمية كبيرة في النقل

الجواب لأنها رخيصة ولا تخضع

لقواعد المرور ولا تتأثر بتقلبات

الطقس

من خلال ما سبق قارن بين النقل

بالسيارات والنقل بالسكك الحديدية.

طرق النقل بالسيارات

١

يرتبط العراق بشبكة واسعة من طرق النقل المختلفة منها
س عدد طرق النقل بالسيارات في العراق ، او انواع
طرق النقل بالسيارات ؟

الجواب

١- الطرق الرئيسية . ٢ - الطرق السريعة

٣- الطرق الفرعية : التي تصل بين مدن العراق
المختلفة والاقضية والنواحي

طريق المرور السريع : وهو احد الطرق البرية وطرق
السيارات المهمة في العراق الذي يربط وطننا العراق
ببعض الدول المجاورة ولاسيما الاردن وسوريا والكويت

علل / لطرق النقل في العراق اهمية تجارية واقتصادية
وحضرية كبيرة ؟

الجواب اذا تنقل عن طريقها تجارة العراق الداخلية
والخارجية .

علل / ان محافظة بغداد تشكل النواة الرئيسية التي تنطلق
منها طرق النقل الرئيسية التي تربطها بالمحافظات
ونهاياتها بالدول

الجواب لتسهيل حركة التجارة من خلال نقل البضائع
والمسافرين

ثانياً

الطرق الجوية

علل / تطور النقل الجوي في العراق اذا تجوب سماءه الكثير من خطوط الطيران الجوية ؟

الجواب نظرا لما يتمتع به العراق من موقع جغرافي واستراتيجي مهم ومناخ جاف وسماء صافية .

س ما اهم المطارات التي توزعت بالعراق والتي تربط العراق بجميع انحاء العالم ؟

١- مطار الموصل الدولي

٢- مطار البصرة الدولي

٣- مطار السليمانية الدولي

٤- مطار بغداد الدولي

٥- مطار اربيل الدولي

٦- مطار النجف الاشرف الدولي

وهناك مطارات صغيرة واخرى قيد الانشاء ومنها الناصرية وكربلاء ودهوك .

ثالثاً

الطرق المائية (النهرية والبحرية)

علل / يعد النقل المائي من اسهل وسائل النقل وارخصها ؟

الجواب وذلك لأنه يمتاز بانخفاض تكاليفه وقابليته الكبيرة على استيعاب الشحنات الكبيرة فضلا عن أنه لا يحتاج الى صيانة الطرق التي يسلكها ولا سيما البحرية منها .

يقسم النقل المائي في العراق الى قسمين :

النقل النهري الداخلي

يتمثل النقل النهري الداخلي بنهري **دجلة والفرات** اللذان يخترقان وطننا من الشمال الى الجنوب ويمران بأغلب المدن والمناطق الزراعية ويرتبطان عن طريق شط العرب بطرق الملاحة البحرية عبر الخليج العربي .

يتمثل النقل البحري في العراق عن طريق الخليج العربي الذي يطل عليه وطننا في القسم الجنوبي منه بساحل يبلغ ٦٠ كم فضلا عن شط العرب الذي تدخل اليه السفن ذات الحمولات المتوسطة ، بسبب قلة عمق المياه فيه ، وضم وطننا العديد من الموانئ البحرية في شط العرب منها ميناء **ابو فلوس** في منطقة ابو الخصيب في البصرة و**ميناء المعقل** يبعد نحو ١٣٥ كم عن ساحل الخليج العربي ، اما الموانئ المطلة على الخليج العربي فهي (**الفاو - خور الزبير - ام قصر**) وتعد من اهم الموانئ الخارجية بالنسبة للعراق اذ تنقل عن طريقها تجارة العراق الخارجية الى دول العالم المختلفة

علل / تدخل الى شط العرب السفن متوسط الحمولة ؟

الجواب بسبب قلة عمق المياه في شط العرب .

ابو فلوس : وهو احد اهم الموانئ العراقية المهمة التي تقع في منطقة ابي الخصيب في محافظة البصرة .

المعقل : وهو احد الموانئ المهمة في وطننا العراق الذي يقع على شط العرب ويبعد ١٣٥ كم عن ساحل الخليج العربي .

الفاو - خور الزبير - ام قصر : وهو احد ابرز اهم الموانئ المهمة في وطننا العراق الذي يقع على الخليج العربي وله دور كبير في تجارة العراق الخارجية مع بلدان العالم المختلفة

علل / تعد موانئ الفاو - خور الزبير - ام قصر من اهم الموانئ التجارية بالنسبة للعراق ؟

الجواب اذ تنقل عن طريقها تجارة العراق الخارجية الى دول العالم المختلفة .

النشاط التجاري في العراق

التجارة : هي عملية نقل السلع والخدمات من منطقة الى اخرى وتكون على نوعين (التجارة الداخلية - والتجارة الخارجية)

فراغ يرتبط النشاط التجاري بمدى التطور الاقتصادي و الزراعي و الصناعي ويتطور طرق النقل والمواصلات.

١ التجارة الداخلية

تعريفها : هو النشاط التجاري الذي يتم من خلاله تبادل السلع والمنتجات المختلفة بين محافظات وطننا المختلفة .

س/ ما العوامل التي تساعد على تنشيط التجارة الداخلية في العراق ؟

الجواب

أ / **الموقع الجغرافي :** موقع بعض المدن التي ساعد لتكوين منافذ للتجارة مثل بغداد والبصرة والموصل .

ب / **تخصص المنتجات :** مثل تخصص محافظتي البصرة وكرلاء بالتمور وتخصص بغداد وديالي بالحمضيات ونيوى وواسط وكركوك بالحبوب

ج / **تباين توزيع السكان :** ان التباين في توزيع السكان نجم عنه تفاوت في الاستهلاك والقوة الشرائية فالتبادل التجاري في محافظة بغداد يختلف عن محافظة المثنى ، بسبب التفاوت في عدد السكان

علل / التبادل التجاري في محافظة بغداد يختلف عن محافظة المثنى ؟

الجواب بسبب التفاوت في عدد السكان .

٢ التجارة الخارجية

تعريفها : وهو النشاط التجاري الذي يتم من خلاله تبادل المنتجات بين دولة معينة و دول أخرى .

فراغ يتميز هيكل الصادرات العراقية بالتركيز بالتخصص في سلعة واحدة وهي النفط الخام

علل / يوصف الاقتصاد العراقي بأنه اقتصاد احادي الجانب يعتمد على سلعة اساسية واحدة ؟

الجواب لان الصادرات التقليدية وهي السلع الغذائية والمواد الاولية والحيوانات الحية تميزت بقلتها ونموها المتذبذب .

س/ عدد الخصائص الاساسية لتجارة العراق الخارجية ؟

الجواب

- ١- التغيير في نوعية السلع المختلفة في تجارة العراق الخارجية .
- ٢- انفتاح تجارة العراق الخارجية على دول العالم وتنوع مصادرها .
- ٣- اختلاف الميزان التجاري نظرا لقلة الصادرات على حساب الواردات .

علل / اختلال الميزان التجاري العراقي ؟

الجواب نظرا لقلة الصادرات على حساب الواردات.

السياحة والاصطياف

السياحة : وهي حركة السكان لمدة تمتد من يوم واحد ولغاية سنة واحدة لأي غرض من الاغراض مثل (قضاء وقت فراغ - او تسوق - او تجارة - او العلاج - زياره دينية - او استكشاف الارث الحضاري) .

الاصطياف : هو زيارة الاماكن السياحية المنتشرة في مختلف انحاء وطننا .

فراغ تشكل السياحة في وطننا العراق جانباً اقتصادياً وثقافياً وإعلامياً مهما في الوقت الحاضر

انواع السياحة

١ السياحة البيئية

تعريفها : وهي احد انواع السياحة التي ترتبط بالاماكن الطبيعية التي يزخر بها العراق من الشمال حيث الشلالات والجبال والبحيرات والمصايف الى البحيرات وانهار دجلة والفرات و الى الاهوار في جنوب العراق

علل / يتمتع وطننا العراق بمقومات السياحة البيئية ؟

الجواب وذال بسبب الاماكن الطبيعية التي يزخر بها العراق من الشمال حيث الشلالات والجبال والبحيرات والمصايف الى البحيرات والانهار مثل دجلة والفرات و الى الاهوار في جنوب العراق

السياحة الاثرية

٢

تعريفها : وهي احد انواع السياحة التي ترتبط بالمواقع الاثرية المختلفة والمتعددة والمنتشرة على ارض العراق. ومن ابرزها الحضارات السومرية والبابلية والاشورية والاسلامية ومن ابرز الاثار برج بابل وبوابة عشتار في بابل وزقورة اور في ذي قار والوركاء في المثنى ونفر في الديوانية ومدينة الحضر في محافظة نينوى والملوية في سامراء وطاق كسرى والمدرسة المستنصرية في بغداد وغيرها

علل / يعد العراق مهد الحضارات ؟

الجواب لان ارضه تزخر بالكثير من الآثار والمواقع الاثرية المختلفة والمتعددة باختلاف الحقب والحضارات التي نشأت فيه .

السياحة الدينية

٣

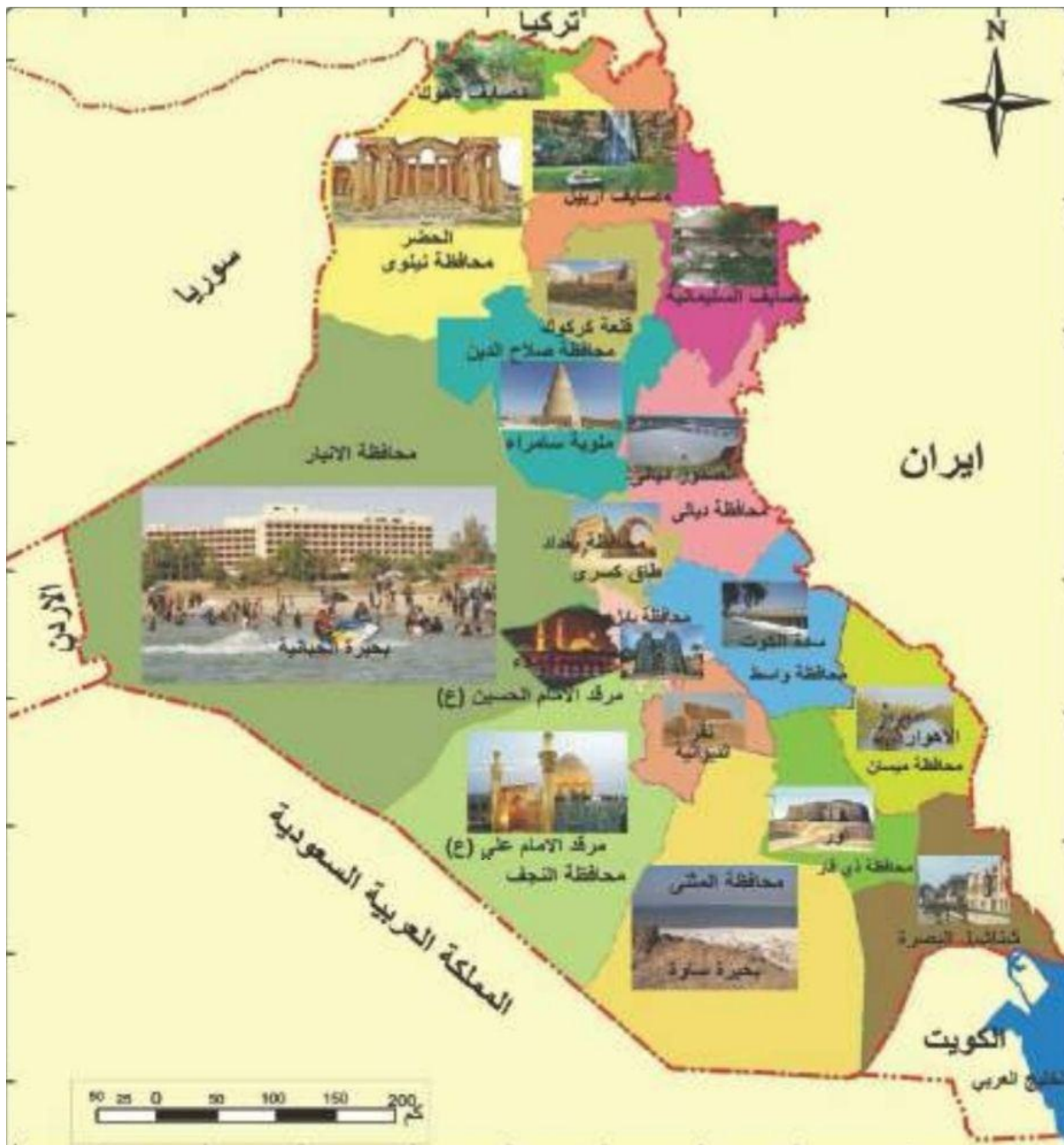
تعريفها : وهي احد انواع السياحة والتي ترتبط بالمقامات السياحية في وطننا العراق والتي تتمثل بوجود الكنائس والأديرة والاضرحة ومراقد الأئمة والأولياء الصالحين في مناطق مختلفة من محافظات العراق . واصبحت هذه المعالم مركز جذب للزوار من مختلف جوانب العالم سواء داخل وخارج العراق .

اهمية السياحة والاصطياف

- ١- **اقتصادية :** بما توفره من عملات صعبة وخاصة السواح الاجانب
- ٢- **ثقافية :** وسيلة لتعارف الشعوب وتقاربها والاحتكاك الحضاري بمختلف اللغات .
- ٣- **ترفيهية :** اقبال الناس على مراكز الترفيه وتحفيز الصناعات الشعبية والمحلية .
- ٤- **اعلامية :** بما تجذبه المراكز السياحية من سياح ومصطافين من خارج العراق .

ملاحظة : كل نقطة من هذه النقاط السابقة تصلح ان تكون تعليل؟

اهم المعالم السياحية في وطننا العراق



حل اسئلة الثروات المعدنية والصناعة

س ١ : عرف ما يأتي :

التجارة : هي عملية نقل السلع والخدمات من منطقة الى اخرى وتكون على نوعين (التجارة الداخلية - والتجارة الخارجية) .

النقل المائي : وهو احد انواع النقل ويمتاز بانه اسهل وسائط النقل وارخصها ويمتاز بانخفاض تكاليفها وقابليتها الكبيرة على استيعابها الشحنات الكبيرة .

ميناء ابو فلوس : وهو احد اهم الموانئ العراقية المهمة التي تقع في منطقة أبي الخصيب في محافظة البصرة .

ميناء ام قصر : وهو احد ابرز اهم الموانئ المهمة في وطننا العراق الذي يقع على الخليج العربي وله دور كبير في تجارة العراق الخارجية مع بلدان العالم المختلفة .

التجارة الخارجية : وهو النشاط التجاري التي يتم من خلاله تبادل المنتجات بين دولة معينة ودول اخرى .

الخط الاستراتيجي : وهو احد اهم الخطوط الرئيسية لتصدير النفط الخام الذي يربط الحقول الشمالية بالجنوبية ، وينقل نفط حقول كركوك الى محطة حديثة في محافظة الانبار ومنها الى البحر المتوسط او من حديثة الى الخليج العربي وبالعكس

بابا د كركر : و هي احدى اهم حقول النفط المهمة في العراق التي تقع ضمن المجموعة الشمالية في محافظة كركوك

الصناعات الاستخراجية : وتعني استخراج المواد الخام من باطن الأرض مثل النفط والغاز الطبيعي والمعادن الأخرى .

عكاشات : هي احدى مناطق انتاج الفوسفات في العراق في الصحراء الغربية التي تقع في محافظة الانبار بين مدينة القائم والرطبة .

المشراق : وهي احدى مناطق انتاج الكبريت في وطننا العراق تقع في محافظة صلاح الدين في المنطقة الممتدة جنوب الموصل

الصناعات التحويلية : وهي الصناعات التي يقتصر نشاطها على تحويل المواد الأولية الى منتجات وسطية او منتجات نهائية

السياحة : وهي حركة السكان لمدة تمتد من يوم واحد ولغاية سنة واحدة لأي غرض من الاغراض مثل (قضاء وقت فراغ - او تسوق - او تجارة - او العلاج - زياره دينية - او استكشاف الارث الحضاري)

الاصطياف : هو زيارة الاماكن السياحية المنتشرة في مختلف انحاء وطننا

السياحة الدينية : وهي احد انواع السياحة والتي ترتبط بالمقامات السياحية في وطننا العراق والتي تتمثل بوجود الكنائس والأديرة والأضرحة ومراقد الائمة والأولياء الصالحين في مناطق مختلفة من محافظات العراق

السياحة البيئية : وهي احد انواع السياحة التي ترتبط بالاماكن الطبيعية التي يزخر بها العراق من الشمال حيث الشلالات والجبال والبحيرات والمصايف الى البحيرات والانهار مثل دجلة والفرات و الى الاهوار في جنوب العراق

السياحة الاثرية : وهي احد انواع السياحة التي ترتبط بالمواقع الاثرية المختلفة والمتعددة والمنتشرة على ارض العراق.

س ٢ : املأ الفراغات التالية بكلمات مناسبة :

١. هناك العديد من الموانئ البحرية التي تطل على شط العرب منها مينائي ابو فلوس والمقل
٢. يتمثل النقل النهري بالعراق بنهري دجلة والفرات
٣. من الموانئ البحرية التي تطل على الخليج العربي هي ميناء الفاو وخور الزبير .
٤. من المطارات العراقية الجوية مطار النجف و مطار بغداد ومطار اربيل .
٥. الفوسفات يوجد في المنطقة الصحراء الغربية في محافظة الانبار في منطقة عكاشات .
٦. تتركز صناعة الزجاج في محافظة الانبار وصناعة تجميع السيارات في محافظة بابل
٧. يتركز الكبريت في محافظة نينوى وصلاح الدين في المنطقة الممتدة في جنوب الموصل في منطقة المشراق ومنطقة الفتحة .
٨. يضم وطننا العراق الكثير من المقومات السياحية الأثرية منها بوابة عشتار في محافظة بابل وزقورة اور في محافظة ذي قار

٩. تعرف السياحة بأنها حركة السكان لمدة من يوم واحد ولغاية سنة واحدة لاي غرض من الاغراض

مثل التجارة العلاج و الزيارات الدينية .

س٣: ضح علامة (صح) اما العبارة الصحية وعلامة (خطأ) امام العبارة الخاطئة ثم صحح الخطأ ان وجد

- يوصف الاقتصاد العراقي بانه احادي الجانب يعتمد بشكل رئيسي على التجارة ؟ **خطأ** . على النفط.
- تباين توزيع السكان نتج عنه تفاوت في الاستهلاك وفي القوة الشرائية . **صح** .
- تتميز طرق النقل النهرية بانها الأكثر طولاً والأوسع انتشاراً **خطأ** . البرية .
- يبلغ الاحتياطي المؤكد من الغاز الطبيعي ٣١٧٠ مليون متر مكعب يأتي ذلك بالمرتبة الخامسة عربياً . **خطأ** ٣٧٤٤

- اهم استعمالات الفوسفات هو استعماله في تحضير حامض الكبريتيك . **خطأ** تحضير عنصر الفسفور وحامض الفوسفوريك .

- يبلغ احتياطي العراق من النفط بنحو ٤٨ مليار برميل يأتي بالمرتبة الخامسة عالمياً . **خطأ** ٤٧ مليار برميل
- تقع مدينة الحضر في سامراء . **خطأ** في نينوى .
- ترتبط السياحة البيئية بالاماكن الدينية . **خطأ** . الطبيعية

س٤ : علل ما يأتي

١- تطور طرق النقل الجوية في العراق ؟

الجواب نظراً لما يتمتع به العراق من موقع جغرافي واستراتيجي مهم ومناخ جاف وسماء صافية .

٢- يعد النقل المائي من اسهل و أرخص وسائل النقل ؟

الجواب وذلك لأنه يمتاز بانخفاض تكاليفه وقابليته الكبيرة على استيعاب الشحنات الكبيرة فضلاً عن انه لا يحتاج الى صيانة الطرق التي يسلكها ولاسيما البحرية منها .

٣- يتمتع وطننا العراق بمقومات السياحة البيئية

الجواب وذلك بسبب الأماكن الطبيعية التي يزخر بها العراق من الشمال حيث الشلالات والجبال والبحيرات والمصايف الى البحيرات والانهار دجلة والفرات و الى الاهوار في جنوب العراق .

٤- لسكك الحديد اهمية كبيرة في النقل البري

الجواب لأنها رخيصة ولا تخضع لقواعد المرور ولا تتأثر بتقلبات الطقس.

٥- للسياحة اهمية اقتصادية ؟

الجواب بما توفره من عملات صعبة وخاصة السواح الاجانب

٦ يعد العراق مهد الحضارات ؟

الجواب لان ارضه تزخر بالكثير من الاثار والمواقع الاثرية المختلفة والمتعددة باختلاف الحقب والحضارات التي نشأت فيه .

س ٥ / عدد ما يأتي

١- المطارات الدولية في العراق ؟

الجواب

- مطار بغداد الدولي
- مطار الموصل الدولي
- مطار السليمانية الدولي
- مطار اربيل الدولي
- مطار البصرة الدولي
- مطار النجف الاشرف الدولي .

٢- اهم عوامل التجارة الداخلية في العراق ؟

الجواب

أ / الموقع الجغرافي : موقع بعض المدن التي ساعدت لتكوين منافذ للتجارة مثل بغداد والبصرة والموصل .

ب تخصص المنتجات : مثل تخصص محافظتي البصرة و كربلاء بالتمور وتخصص بغداد وديالى بالحمضيات و نينوى وواسط و كركوك بالحبوب

ج تباین توزیع السكان : ان التباين في توزيع السكان نجم عنه تفاوت في الاستهلاك والقوة الشرائية فالتبادل التجاري في محافظة بغداد يختلف عن محافظة المثنى ، بسبب التفاوت في عدد السكان .

٣- الخصائص الاساسية لتجارة العراق الخارجية ؟

الجواب

- التغيير في نوعية السلع المختلفة في تجارة العراق الخارجية .
- انفتاح تجارة العراق الخارجية على دول العالم وتنوع مصادرها .
- اختلاف الميزان التجاري نظرا لقلة الصادرات على حساب الواردات

٤- اهم طرق نقل النفط العراقي ؟

الجواب

أ / النقل بالأنابيب

ب / النقل بواسطة السفن

ج/ النقل البري للنفط

٥- اهم الصناعات الكيماوية واماكن تواجدها ؟

الجواب

- صناعة تكرير النفط والغاز والبتروكيماويات في محافظات بغداد وكركوك والبصرة
- صناعة الادوية في المحافظات صلاح الدين وبغداد ونيوى.
- صناعة الزجاج (محافظة الانبار).
- صناعة الورق في المحافظات بغداد وميسان والبصرة .

٦- اهمية الساحة والاصطياف في العراق ؟

الجواب

١ اقتصادية : بما توفره من عملات صعبة وخاصة السواح الاجانب .

٢ **ثقافية** : وسيلة لتعارف الشعوب وتقاربها والاحتكاك الحضاري بمختلف اللغات

٣ **ترفيهية** : اقبال الناس على مراكز الترفيه وتحفيز الصناعات الشعبية والمحلية .

٤ **اعلامية** : بما تجذبه المراكز السياحية من سياح ومصطافين من خارج العراق .

٧- المواقع الاثرية في العراق ؟

الجواب

ومن ابرز الحضارات (السومرية والبابلية والاشورية والاسلامية ومن ابرز الآثار برج بابل وبوابة عشتار في بابل وزقورة اور في ذي قار والوركاء في المثنى ونفر في الديوانية ومدينة الحضر في محافظة نينوى والملوية في سامراء وطاق كسرى والمدرسة المستنصرية في بغداد) وغيرها .

٨- اهم معالم السياحة البيئية في العراق ؟

الجواب حيث الشلالات والجبال والبحيرات والمصايف الى البحيرات والانهار دجلة والفرات و الى الاهوار في جنوب العراق

الفصل الاول : العراق في العهد العثماني

واقع العراق في العهد العثماني :

العثمانيون: هم قبائل تركية نزحت من اواسط اسيا واستوطنت الأجزاء الشمالية من بلاد الأناضول تركيا حاليا وسموا بهذا الاسم نسبة الى جدهم مؤسس الدولة العثمانية عثمان بن ارطغرل
عثمان بن ارطغرل : وهو مؤسس الدولة العثمانية والجد الأكبر للعثمانيين وسميت الدولة التي أسسها باسمه وهي الدولة العثمانية

علل / سميت الدولة العثمانية بهذا الاسم؟

الجواب/ نسبة الى جدهم الاكبر و مؤسس الدولة العثمانية عثمان بن أرطغرل.

سليم الأول: وهو السلطان العثماني الذي استطاع احتلال الوطن العربي بعد القضاء على الصفويين في معركة جالديران ١٥١٤م.

معركة جالديران: وهي المعركة التي حدثت بين العثمانيين والصفويين عام ١٥١٤م والتي استطاعت الدولة العثمانية من تحقيق الانتصار على الصفويين واحتلال عاصمتهم تبريز

فراغ / ادت الانتصارات التي حققها العثمانيين الى خضوع البلاد العربية الى الحكم العثماني قراية أربعة قرون

الأوضاع العامة في العهد العثماني الأخير

س / كيف كانت الأوضاع في العراق في العهد العثماني الأخير ، صف بشكل مختصر ؟

الجواب / قيام السلطان سليمان القانوني باحتلال بغداد عام ١٥٣٤م بعد انتصاره على الصفوية الذين احتلوا العراق عام ١٥٠٨م بقيادة الشاه إسماعيل الصفوي **➡** وبعده جاء ابنه طهماسب عام ١٥٢٤م الذي استطاع **➡** من اعادة السيطرة الصفوية على العراق عام ١٥٢٩م ، بعد ذلك حكم المماليك العراق (١٧٥٠م - ١٨٣١م) وبانتهاء حكم المماليك حكم العثمانيون العراق حتى الحرب العالمية الأولى وسميت هذه الفترة **(بالعهد العثماني الأخير)** حكم العثمانيين العراق وساد في عهدهم حالة من الجمود والتراجع الحضاري بسبب الحروب والصراعات أما العهد العثماني الأخير فقد تميز ببداية التطور وانفتاح العراق واتصاله بدول العالم وشهد هذا العصر في العراق ظهور التنظيمات في شتى جوانب الحياة الذي عرف بـ **(عصر التنظيمات)** .

سليمان القانوني : وهو السلطان العثماني الذي استطاع احتلال بغداد عام ١٥٣٤م بعد انتصاره على الصفويين.

١٥٣٤ م : وهو العام الذي سيطرت به الدولة العثمانية على العراق واحتلال عاصمته بغداد من قبل السلطان سليمان القانوني.

اسماعيل الصفوي : وهو الشاه الصفوي وزعيم الدولة الصفوية الذي استطاع من احتلال العراق عام ١٥٠٨م وبعده وفاته جاء ابنه طهماسب

طهماسب : وهو ابن الشاه إسماعيل الصفوي الذي تولى العرش بعد وفاة والده إسماعيل الصفوي عام ١٥٢٤م والذي استطاع من اعادة السيطرة الصفوية على العراق عام ١٥٢٩م

العهد العثماني الأخير : وهي الفترة التي بدأت بعد انتهاء حكم المماليك للعراق وعودة الحكم العثماني من جديد الى العراق وعد عهدا جديدا وانتهى بخروج الدولة العثمانية من العراق عام ١٩١٧م والذي شهد حركة إصلاحات واسعة على جميع المستويات.

فراغ / استمرت الدولة العثمانية بحكم العراق حتى قيام الحرب العالمية الأولى عندما قامت بريطانيا باحتلال العراق في ٦/ تشرين الثاني ١٩١٤م.

علل / سادت خلال فترة الحكم العثماني للعراق حالة من الجمود والتراجع الحضاري؟

الجواب بسبب طبيعة الحكم والحروب والصراعات بينهما وبين القوى الاخرى ولاسيما الصفوية والاجنبية .

فراغ / تميز العهد العثماني الاخير بـ بداية التطور وانفتاح العراق واتصاله بدول العالم فضلا عن تطلعاته

للنهوض والرقى ومواكبة التقدم الحضاري .

عصر التنظيمات : وهو عصر الاصلاحات العثمانية التي أرادت منه الحكومة العثمانية ادخال اصلاحات شاملة في جميع مؤسسات الدولة وتحديثها على وفق أسس عصرية .

مميزات العهد العثماني الاخير (العهد الاخير لحكم الدولة العثمانية في العراق)

س/ ما أهم مميزات العهد العثماني الأخير في العراق ؟

- ١- تأثير حركة الإصلاحات العثمانية (التنظيمات) وانعكاسها على العراق بإصدار مرسومين اصلاحيين هما (مرسوم كلخانه - خط همايون)
- ٢- تقسيم العراق بموجب تلك الاصلاحات عام ١٨٦٤م الى ثلاثة ولايات (بغداد - الموصل - البصرة) وضمت كل ولاية مجموعة من الاقضية والنواحي التابعة لها .
- ٣- كان الولاة في هذا العصر من الذين يتم تعيينهم من استانبول بشكل مباشر ، وقد بلغ عددهم خمس وثلاثون والياً بعضهم حكم أكثر من مرة وبعضهم لم يكمل مدة حكمه ثلاث سنوات .
- ٤- تعيين بعض الولاة المصلحين في العراق ولاسيما (مدحت باشا) الذي أوجد أساساً متيناً لعهد جديد من عهود الدولة العثمانية
- ٥- اتصال العراق مع دول العالم الخارجي في وسائل متعددة لم تكن متاحة قبل هذا العهد أهمها المدارس الاجنبية والبعثات التبشيرية .

س/ صدر في عهد الإصلاحات العثمانية (العهد العثماني الاخير) مرسومين اصلاحيين ، ماهما؟

الجواب/ مرسوم كلخانه ١٨٣٩م - خط همايون ١٨٥٦م ، اللذان صدرا في عهد السلطان عبد المجيد (١٨٣٩ - ١٨٦١م) ، والتي تضمنت اعادة بناء الدولة على وفق أنظمة وقوانين حديثة في المجالات كافة

مرسوم كلخانة : وهو المرسوم الإصلاحى الذى أصدره السلطان عبد المجيد عام ١٨٣٩م والذى تضمن إصلاحات وبناء الدولة على وفق انظمة وقوانين عصرية .

خط همايون : وهو المرسوم الاصلاحى الذى اصدره السلطان العثمانى عبد المجيد عام ١٨٥٦م والذى تضمن اصلاح الدولة وفق انظمة وقوانين عصرية .

س/ على الرغم من أن تنفيذ الإصلاحات العثمانية كان بطيئاً ومحدوداً ، لكن شهدت الولايات تحولاً في أوضاعها في العهد العثماني الأخير، ناقش ذلك؟

الجواب/ ظهرت إدارات حكومية عثمانية في العراق لم تكن موجودة من قبل فضلاً عن تشريع العديد من الانظمة والقوانين الجديدة مثل نظام المعارف (التعليم) كما أجريت إصلاحات في مجالات عدة مثل الادارة والنقل والبريد.

علل / أوجد مدحت باشا في العراق أساساً متيناً لعهد جديد من عهود الدولة العثمانية ؟
الجواب وذلك لقيامه بإصلاحات كثيرة أدت إلى تحسين الأوضاع العامة في العراق .

س / كيف قسم العثمانيون العراق ادارياً ؟

الجواب/ قسم العراق بموجب تلك الإصلاحات عام ١٨٦٤م الى ثلاث ولايات هي (بغداد - الموصل - البصرة) وضمت كل ولاية عدد من الاقضية يتبعها مجموعة من النواحي والقرى ، كما كانت كلا من ولايتي البصرة والموصل تشكل قائممقامية او متصرفية تابعة الى ولاية بغداد واحيانا تكون لها ادارة منفصلة أو مرتبطة مع العاصمة استانبول

س/ ما دور المدارس الاجنبية (البعثات التبشيرية) في تطور العراق في العهد العثماني الاخير ؟

الجواب/ كانت هذه المدارس تهتم بتدريس اللغات الاوربية وتعليمها ، ومن بينهم الطلبة المسلمون الذين منحوا فرصة التواصل مع العالم الغربى من خلال العمل التجارى ، أو في القنصليات الاجنبية او اكمال الدراسة في بلاد الغرب ، فضلاً عن دور البعثات في التنقيب عن الآثار ، والمواصلات البخارية المائية التي أخذت في التوسع في الأنهار العراقية وعبر البحار مع العالم الخارجى، وارتباط العراق بخطوط البرق ، بكل ذلك تكسرت اطواق العزلة التي فرضها العثمانيون على العراق .

أشهر الولاة العثمانيين المصلحين في العراق

فراغ / ظهرت حركة الإصلاحات العثمانية في العراق في النصف الثاني من القرن التاسع عشر عندما قررت الدولة العثمانية إرسال الولاة الى العراق .

مدحت باشا (١٨٦٩ – ١٨٧٢ م)

وهو أحد أشهر الولاة المصلحون في العراق الذي تولى ولاية بغداد عام ١٨٦٩م الذي منح صلاحيات واسعة في العراق من أجل الإصلاح وعمل على تحسين أوضاع العراق في جميع المجالات استمرت ولايته لثلاث سنوات.

فراغ / أن الهدف الرئيس من وراء تلك الإصلاحات هو العمل على ربط الولايات العراقية الثلاث بعضها ببعض الآخر .

س/ عدد إصلاحات مدحت باشا في العراق؟

الجواب

- ١- إصدار نظام الطابور في العراق .
- ٢- إصلاح النظام العسكري في العراق .
- ٣- إنشاء المدارس الحديثة في العراق .
- ٤- الاهتمام بالصحافة .
- ٥- تحديثا طرق المواصلات .
- ٦- تحديثا عدد من المدن .
- ٧- اصلاحات اخرى.

١- اصدار نظام الطابور في العراق

وهو من ابرز الاصلاحات الاقتصادية والادارية لمدحت باشا في العراق والذي كان له دور كبير في حل مشكلة الأراضي وتحسين سبل العيش بتوزيع الأراضي على الفلاحين.

علل / يعد اصلاح نظام الطابور في العراق من ابرز الاصلاحات الادارية لمدحت باشا ؟

الجواب بهدف محاولة إيجاد حل لمشكلة العشائر فضلا عن تنظيم ملكية الأرض وإقرار حقوق ملاكها بسند رسمي وبموجبه يكون له حق التصرف بالأرض .

س/ ما الاثار الايجابية والسلبية لتطبيق نظام الطابو في العراق ؟

الجواب /

الايجابيات

- حدد عائديه الارض الى الأفراد ام الدولة ام الاوقاف
- القضاء على الانتفاضات والنزاعات العشائرية ووضع حد لثوراتهم المستمرة وتعويضهم على الاستقرار .
- تحسين سبل العيش من خلال توزيع الاراضي والاستقرار فيها والعمل على استغلالها .
- اصلاح نظام الضرائب .

السلبيات

- تحويل الكثير من رؤساء العشائر الى ملاكين كبار للأراضي .
- تحويل افراد العشيرة الى عاملين في اراضي الملاكين وهو بذلك ارسى قواعد النظام الاقطاعي في العراق .

٢ اصلاح النظام العسكري في العراق

علل/ الاعتماد على العراقيين في الجيش بدلا من العنصر الاجنبي ؟

الجواب لضمان ولاء السكان له .

س/ ما ابرز اصلاحات مدحت باشا العسكرية في العراق ؟

الجواب

- ١- الاعتماد على العراقيين بدلا من العناصر الاجنبية .
- ٢- تطبيق الخدمة الالزامية (التجنيد الاجباري) في الولايات العراقية .
- ٣- انشأ مدرستين عسكريتين لتدريب الضباط العراقيين وزيادة كفاءتهم .

علل / حصول ثورات عدة في العراق في عهد مدحت باشا الامر الذي تطلب تدخل الجيش لإخمادها ؟

الجواب وذلك بسبب تطبيق نظام التجنيد الاجباري واجبار السكان على الانصياع لقرار التجنيد الاجباري .

س/ ما النتائج التي تترتب على تطوير النظام العسكري في العراق ونظام التجنيد الاجباري في عهد مدحت باشا؟

الجواب/ مضاعفة عدد الجيش بشكل كبير ، وانشاء المدارس العسكرية في بغداد لتدريب الضباط العرقيين مما ادى الى تخريج العشرات من الضباط الذين كان لهم دور في مجريات الحياة .

التجنيد الاجباري : وهو النظام العسكري الذي اوجده مدحت باشا في العراق والذي احدث فوضى واضطرابات بين بعض المدن العراقية الرافضة للتجنيد الاجباري .

٣- انشاء المدارس الحديثة في العراق

س ما اصلاحات مدحت باشا في مجال التعليم ؟

الجواب

١. انشاء المدارس الحديثة في العراق على غرار المدارس في العاصمة اسطنبول التي تعتمد التعليم الرسمي.

٢. تأسيس المدرسة الرشيدية العسكرية وكان يقبل بها الطلبة المتخرجون من المدارس الدينية مدة الدراسة فيها (٤ سنوات) يدرس فيها (اللغة العربية والتركية - التاريخ - الجغرافية - الحساب الخط والدين)

٣. انشأ مدرسة الاعدادية العسكرية مدة الدراسة فيها (٣ سنوات) بعد المدرسة الرشيدية ويحق لخريجها الالتحاق بالمدرسة العسكرية في استانبول .

٤. انشأ مدرسة للصناعة ومدة الدراسة فيها (٤ سنوات) يتلقى بها الطلبة دروساً تخصصية في احدى المهن (التجارة - الخياطة - الطباعة)

٥. فتح المدرسة الرشيدية الملكية مدة الدراسة فيها (٤ سنوات) يوظف خريجوها في الدوائر الحكومية .

علل / يعد تأسيس المدارس في العراق في عهد مدحت باشا نقلة نوعية في المجتمع العراقي ؟

الجواب بسبب زيادة عدد المتعلمين .

فراغ / وضع مدحت باشا الاسس الحديثة للتعليم في العراق بإصدار نظام المعارف الحكومية والذي اوضح فيه مختلف نواحي التعليم وادارته وتنظيمه .

المدرسة الرشيدية العسكرية : وهي احدى المدارس التي اسسها مدحت باشا في العراق وكان يقبل بها الطلبة المتخرجون من المدارس الدينية مدة الدراسة بها اربع سنوات .

مدرسة الاعدادية العسكرية : وهي احدى المدارس التي اسسها مدحت باشا في العراق مدة الدراسة فيها ثلاث سنوات يحق لخريجوها الالتحاق بالمدرسة العسكرية في اسطنبول ليتخرجوا ضباطاً في الجيش العثماني

مدرسة الصناعة : وهي احدى المدارس التي اسسها مدحت باشا في العراق مدة الدراسة فيها اربع سنوات يتلقى بها الطلبة دروساً تخصصية في (التجارة - الخياطة - الطباعة) .

المدرسة الرشيدية الملكية : وهي احدى المدارس التي اسسها مدحت باشا في العراق مدة الدراسة فيها اربع سنوات ويوظف خريجوها في الدوائر الحكومية .

٤ - الاهتمام بالصحافة

س ما ابرز اعمال مدت باشا في مجال تطوير الصحافة ؟

الجواب

○ انشأ مطبعة حكومية باسم مطبعة الولاية .

○ صدور اول جريدة في تاريخ العراق سميت (زوراء).

مطبعة الولاية : وهي المطبعة التي اسسها مدحت باشا في العراق كأحد اجراءات تطوير الصحافة في العراق وصدرت اول جريدة منها هي (زوراء) .

زوراء : وهي احدى اقدم الصحف التي صدرت في العراق في عهد مدحت باشا وهي اول جريدة رسمية بتاريخ العراق صدر العدد الأول منها في (١٥ حزيران ١٨٦٩م) وكانت تنقل الاخبار المحلية والعالمية وتنتشر المقالات والقرارات والقوانين وتصدر بالغتتين العربية والتركية ومرتين في الاسبوع .

فراغ / استمرت جريدة الزوراء بالصدور في العراق حتى الاحتلال البريطاني سنة ١٩١٧م.

٥- تحديث طرق المواصلات

س/ عدد اصلاحات مدحت باشا في مجال النقل و المواصلات ؟

الجواب

- ١- اهتم بتحديث طرق المواصلات اذ اعاد تشكيل **شركة الادارة العثمانية النهرية** التي اسهمت في تطوير النقل النهري الداخلي والنقل البحري .
 - ٢- اسس شركة **(الترامواي)** بين بغداد والكاظمية ليسهم في نقل المسافرين والبضائع وافتتحت عام ١٨٧١م.
- الادارة العثمانية النهرية :** وهي شركة اسسها مدحت باشا في مجال النقل والمواصلات اسهمت في تطوير النقل الخارجي والداخلي مع عواصم العالم ، تملك ثمان بواخر اربع منها للنقل الخارجي وما تبقى للنقل الداخلي

الترامواي : وهي الشركة التي اسسها مدحت باشا في العراق في مجال النقل البري وتقوم بنقل المسافرين والبضائع بين بغداد والكاظمية وافتتحت عام ١٨٧١م.

٦- تحديث عدد من المدن

س/ وضح ابرز انجازات مدحت باشا في مجال تحديث المدن والتطوير العمراني ؟

الجواب

١. انشأ مدنا جديدة كمدينة الناصرية والرمادي.
٢. اهتم بتأسيس المجالس البلدية ودعم عملها واسس المحاكم المدنية .
٣. انشأ مصرفى للنقط في بعقوبة ومنتزها عاما في بغداد ومعملا لإصلاح السفن في البصرة.

٤. شجع الناس على تشييد المساكن الحديثة .
٥. بنى دورا للحكومة واسس مزرعة نموذجية وقام ببناء مستشفى .

٧- اصلاحات اخرى

- ✍ اسس مصنع للإنتاج الملابس والبطانيات لجنود الفيلق السادس العثماني.
✍ انشأ صندوقا حكوميا لتقديم القروض للمزارعين وبقية المواطنين.
✍ نصب مضخة كبيرة لرفع مياه نهر دجلة وتوزيعه على بيوت المدينة .

نتائج الحكم العثماني في العراق

فراغ / حكمت الدولة العثمانية وطننا العراق **مدة اربعة قرون** اسفرت عن نتائج كثيرة .

س / عدد نتائج الحكم العثماني على العراق ؟

الجواب

١. كان اهتمام السلاطين العثمانيين في العراق على انه مصدر لتمويل خزينة الدولة العثمانية من دون الاهتمام بالبلاد.
 ٢. تزايد المعارضة العراقية ضد العثمانيين ولاسيما في النصف الثاني من القرن السادس عشر
 ٣. تمكنت بعض الاسر والزعامات المحلية من ان تحكم نفسها بنفسها بسبب ضعف الدولة وانشغالها بالصراعات الداخلية والخارجية مثل ال عبد الجليل والعمرين في الموصل .
 ٤. تدخل القوى الأوروبية ولاسيما البريطانية والفرنسية والالمانية في اوضاع العراق بسبب ضعف الدولة العثمانية في ادارة شؤون البلاد الداخلية .
 ٥. شعور حكام الدولة العثمانية بضرورة الاصلاح وتقوية الحكم ومنع وقوع العراق بأيدي الدول الاخرى
- انتفاضة كربلاء :** وهي احدى الانتفاضات الشعبية العشائرية التي حصلت في كربلاء عام ١٦٠٤م على الحامية العثمانية

عبد الغني ال جميل : وهو احد الشخصيات الوطنية العراقية الذي قاد احدى الانتفاضات الشعبية في بغداد عام ١٨٣٢م ضد حكم الوالي علي رضا واجراءاته .

علل / تمكنت بعض الاسر والزعامات المحلية من أن تحكم نفسها بنفسها ؟

الجواب بسبب ضعف الدولة وانشغالها بالصراعات الداخلية والخارجية .

ال عبد الجليل - العمرين : وهي احدى الاسر المحلية التي استقلت عن الدولة العثمانية وحكمت نفسها بنفسها بعيدا عن السيطرة العثمانية في الموصل

السورانيين : وهي احدى الاسر المحلية التي ظهرت في راوندوز في شمال العراق وحكمت نفسها بعيد عن السيطرة العثمانية .

عشائر بني لام - ال عليان - المنتفك : وهي احدى الزعامات المحلية التي ظهرت في جنوب العراق في مدينة البصرة واستطاعت من ان تحكم نفسها بنفسها بعيدا عن الدولة العثمانية .

ال فضل - شمر : وهي احدى الزعامات المحلية التي ظهرت في منطقة الفرات الاعلى والجزيرة الفراتية واسست حكم مستقل بعيدا عن السيطرة العثمانية .

علل / تدخل القوى الاوربية ولاسيما بريطانيا وفرنسا والمانيا في اوضاع العراق ؟

الجواب بسبب ضعف الدولة العثمانية في ادارة شؤون البلاد الداخلية، بهدف الافادة من موقعة الجغرافي وثرواته الاقتصادية وموارد واستغلاله سوقا لتصريف المنتجات .

اختبار مادة نصف السنة

الاختبار الثالث

(٢٥ درجة)

س١/ عرف ما يأتي : ولخمس فقط .

- ١- سليم الاول ٢- ذنائب الفرات ٣- الامطار التضاريسية ٤- السياحة الاثرية ٥- نمو السكان ٦- الزراعة المحمية

س٢/ اجب عن فرعين فقط (على ان يكون فرع - ج - من ضمن الجواب)

- أ- ماهي الاثار الايجابية والسلبية لتطبيق نظام الطابو في العراق . (١٥ درجات)
ب- تكلم وعلى شكل نقاط عن اهمية الثروة الحيوانية في العراق . (١٥ درجات)
ج- ارسم خارطة العراق موضحا عليها (ملوية سامراء - محافظة البصرة - شط الهندية) (١٠ درجات)

(٢٥ درجة)

س٣/ علل خمسا مما يأتي :

- ١- اعتمد الوالي العثماني مدحت باشا في النظام العسكري على العراقيين في الجيش بدلا من العناصر الاجنبية ؟
٢- يعد النقل المائي من اسهل وارخص وسائل النقل ؟
٣- انخفاض عدد الذكور عن الاناث في المجتمعات التي تشهد حالات غير طبيعية ؟
٤- انعدام سقوط الامطار في فصل الصيف ؟
٥- تعد الزراعة احد اهم النشاطات الاقتصادية في العالم ؟
٦- للمياه الجوفية اهمية كبرى في المناطق ذات المناخ الصحراوي ؟

(٢٥ درجة)

س٤/ املاء الفراغات الاتية بما يناسبها . ولخمس فقط

- ١- يعد الاقليم من اوسع الاقاليم المناخية من حيث المساحة ؟
٢- من انواع الرز الذي يزرع في وطننا العراق ويتركز في المناطق الشمالية هو ؟
٣- الى الجنوب من مدينة بغداد يلتقي نهر دجلة باخر الروافد المغذية له وهو ؟
٤- يقع العراق في الجزء من قارة اسيا ؟
٥- مصفى الوند هو : ؟
٦- في مجال الصحافة امر الوالي العثماني مدحت باشا في اول اشهر حكمه بأنشاء مطبعة حكومية عرفت باسم ؟

(١٠ درجات)

س٥/ اجب عن ما يأتي :

- أ- ارسم خارطة وطننا العراق مضبوطة الشكل موضحا عليها (١- هضبة الجزيرة ٢- السهل الرسوبي ٣- سد حديثة)
ب- هنالك مجموعة من الاسباب ادت الى تنني انتاج النخيل وزراعته في العراق ؟ عددها . ولخمس فقط (١٥ درجات)

حل اسئلة التاريخ

الفصل الأول: العراق في العهد العثماني

س ١/ عرف ما يأتي :

❖ **العثمانيون:** هم قبائل تركية نزحت من اواسط اسيا واستوطنت الاجزاء الشمالية الغربية من بلاد الاناضول (تركيا الحالية) ، وسموا بهذا الاسم نسبة الى جدهم مؤسس الدولة العثمانية عثمان بن ارطغرل) .

❖ **سليم الاول:** وهو السلطان العثماني الذي استطاع احتلال الوطن العربي بعد القضاء على الصفويين في معركة جالديران عام ١٥١٤م .

❖ **سليمان القانوني:** وهو السلطان العثماني الذي استطاع احتلال بغداد عام ١٥٣٤م بعد انتصاره على الصفويين.

❖ **جالديران:** وهي المعركة التي حدثت بين العثمانيين والصفويين عام ١٥١٤م والتي استطاعت الدولة العثمانية من تحقيق الانتصار على الصفويين واحتلال عاصمتهم تبريز.

❖ **التجنيد الالزامي:** وهو النظام العسكري الذي أوجده مدحت باشا في العراق والذي احدث فوضى واضطرابات بين بعض المدن العراقية الرافضة للتجنيد الاجباري .

❖ **زوراء:** وهي احد اقدم الصحف التي صدرت في العراق في عهد مدحت باشا وهي أول جريدة رسمية بتاريخ العراق صدر العدد الأول منها (١٥ حزيران ١٨٦٩م) وكانت تنقل الاخبار المحلية والعالمية وتنتشر المقالات والقرارات والقوانين وتصدر بالغتين العربية والتركية ومرتين في الاسبوع.

❖ **التنظيمات:** وهو عصر الاصلاحات العثمانية التي ارادت منه الحكومة العثمانية ادخال اصلاحات شاملة في جميع مؤسسات الدولة وتحديثها على وفق اسس عصرية .

❖ **مدحت باشا:** وهو احد اشهر الولاة المصلحون في العراق الذي تولى ولاية بغداد عام ١٨٦٩م الذي منح صلاحيات واسعة في العراق من اجل الاصلاح وعمل على تحسين أوضاع العراق في جميع المجالات استمرت ولايته لثلاث سنوات.

❖ **نظام الطابو:** وهو من ابرز الاصلاحات الاقتصادية والادارية لمدحت باشا في العراق والذي كان له دور كبير في حل مشكلة الاراضي وتحسين سبل العيش بتوزيع الاراضي على الفلاحين .

❖ **الرشيدية العسكرية :** وهي احدى المدارس التي اسسها مدحت باشا في العراق وكان يقبل بها الطلبة المتخرجون من المدارس الدينية مدة الدراسة بها اربع سنوات.

❖ **عبد الغني ال جميل :** وهو احد الشخصيات الوطنية العراقية الذي قاد احدى الانتفاضات الشعبية في بغداد عام ١٨٣٢م ضد حكم الوالي علي رضا واجراءاته .

س ٢ ناقش العبارات الآتية:

١. العهد العثماني الاخير تميز ببداية التطور وافتتاح العراق واتصاله بدول العالم فضلا عن تطلعه للنهوض والرقى في مواكبة التقدم الحضاري .

الجواب / لان هذه الفترة شهدت تطورات كبيرة ومتقدمة في مجال الاصلاح وتنظيم البلاد في عهد مدحت باشا اوجد (التنظيمات وسمي هذا العهد بالتنظيمات عصر الاصلاحات العثمانية التي ارادت منة الحكومة العثمانية ادخال اصلاحات شاملة في جميع مؤسسات الدولة وتحديثها على وفق اسس عصرية .

٢. وضع مدحت باشا اسس التعليم الحديثة في العراق .

الجواب / انشاء المدارس الحديثة في العراق على غرار المدارس في العاصمة اسطنبول التي تعتمد التعليم الرسمي تأسيس

المدرسة الرشيدية العسكرية وكان يقبل بها الطلبة المتخرجون من المدارس الدينية مدة الدراسة فيها (٤ سنوات) يدرس فيها اللغة العربية والتركية - التاريخ - الجغرافية - الحساب الخط - الدين
انشاء مدرسة الاعدادية العسكرية مدة الدراسة فيها (٣ سنوات) بعد المدرسة الرشيدية وبحق لخريجها الالتحاق بالمدرسة العسكرية في اسطنبول

انشاء مدرسة للصناعة ومدة الدراسة فيها (٤ سنوات) يتلقى بها الطلبة دروس التخصصية في احدى المهن (التجارة - الخياطة - الطباعة)

المدرسة الرشيدية الملكية مدة الدراسة فيها (٤ سنوات) يوظف خريجوها في الدوائر الحكومية.

٣. كان لجريدة زوراء الدور الاساسي في اطلاع المجتمع العراقي على احوال العالم الخارجي .

الجواب / وهي أحد أقدم الصحف التي صدرت في العراق في عهد مدحت باشا وهي اول جريدة رسمية بتاريخ العراق صدر العدد الاول منها (١٥ حزيران ١٨٦٩م) وكانت تنقل الاخبار المحلية والعالمية وتنشر المقالات والقرارات والقوانين وتصدر باللغتين العربية والتركية ومرتين في الاسبوع مما اسهمت في نشر الوعي الثقافي بين ابناء الشعب.

٤. كان لتطبيق نظام التجنيد الالزامي في العراق دور ايجابي في مضاعفة اعداد الجيش في العراق .

الجواب / ان النظام العسكري الذي اوجده مدحت باشا في العراق كجزء من تطوير الجانب العسكري كان له اثر كبير في زيادة اعداد الجيش الموالي للدولة ولكن هناك معارضة شعبية واسعة ضد هذا النظام التي ادت الى تدخل الحكومة بشكل عسكري وبالقوة من اجل القضاء على الانتفاضات الرافضة له.

٥. ان تعيين الوالي الجديد مدحت باشا اوجد اساس متينا لعهد جديد من عهود الدولة العثمانية .

الجواب / وذلك لقيامه بإصلاحات كثيرة ادت الى تحسين اوضاع العامة في العراق حتى وصف بأشهر الولاة المصلحين في العراق .

س٣ / علل ما يأتي

١ - كان لنظام الطابو الدور الاساسي في الحد من النزاعات العشائرية ؟

الجواب / بهدف ايجاد حل لمشكلة العشائر فضلا عن تنظيم ملكية الارض وقرار حقوق ملاكها بسند رسمي وبموجبه يكون له حق التصرف بالأرض .

٢ - اصلاحات الوالي مدحت باشا على الرغم من قصر توليه ؟

الجواب / لأنها احدثت تغيرا كبيرا ومهما في الواقع العراقي .

٣ - قرر مدحت باشا الاعتماد على المواطنين العراقيين في تركيبة الجيش بدلا من العنصر الاجنبي ؟

الجواب / لضمان ولاء السكان له .

س٤ / عدد ما يأتي:

١- مميزات الحكم العثماني الاخير ؟

الجواب

- تأثير حركة الاصلاحات العثمانية (التنظيمات) وانعكاسها على العراق بإصدار مرسومين اصلاحيان هما (مرسوم كلخانه - خط همايون)
- تقسيم العراق بموجب تلك الاصلاحات عام ١٨٦٤م الى ثلاثة ولايات (بغداد - الموصل - البصرة) وضمت كل ولاية مجموعة من الاقضية والنواحي التابعة لها
- كان الولاة في هذا العصر من الذين يتم تعيينهم من اسطنبول بشكل مباشر ، وقد بلغ عددهم خمس وثلاثون واليا بعضهم حكم أكثر من مرة وبعضهم لم يكمل مدة حكمة ثلاث سنوات .

- تعيين بعض الولاة المصلحين في العراق ولاسيما مدحت باشا الذي اوجد أساس متينا لعهد جديد من عهود الدولة العثمانية .
- اتصال العراق مع دول العالم الخارجي في وسائل متعددة لم تكن متاحة قبل هذا العهد اهمها المدارس الاجنبية والبعثات التبشيرية.

٢- اهم الاصلاحات التي قام بها مدحت باشا في العراق ؟

الجواب

- اصدار نظام الطابو في العراق.
- اصلاح النظام العسكري في العراق.
- انشاء المدارس الحديثة في العراق .
- اهتمام بالصحافة.
- تحديث طرق المواصلات .
- تحديث عدد من المدن.
- اصلاحات اخرى.

٣- نتائج الحكم العثماني في العراق ؟

- كان اهتمام السلاطين العثمانيين في العراق على انه مصدر لتمويل خزانة الدولة العثمانية من دون الاهتمام بالبلاد.
- تزايد المعارضة العراقية ضد العثمانيين ولاسيما في النصف الثاني من القرن السادس عشر .
- تمكنت بعض الاسر والزعامات المحلية من ان تحكم نفسها بنفسها بسبب ضعف الدولة وانشغالها بالصراعات الداخلية و الخارجية مثل ال عبد الجليل والعمرين في الموصل
- تدخل القوى الاوربية ولاسيما البريطانية والفرنسية والالمانية في اوضاع العراق بسبب ضعف الدولة العثمانية في ادارة شؤون البلاد الداخلية .
- شعور حكام الدولة العثمانية بضرورة اصلاح وتقوية الحكم ومنع وقوع العراق بايدي الدول الاخرى.

س ٥ / ناقش العبارات الآتية :

١/ بدأ مدحت باشا اصلاحاته في العراق بإصلاح الادارة الحكومية ؟

الجواب / استند مدحت باشا في عمله على قانون الولايات العثمانية ، وقد زود بصلاحيات واسعة لتنفيذ اصلاحاته في الولايات الثلاثة ، وقد شملت اجراءاته ادخال اصلاحات ادارية وسياسية واقتصادية ولاسيما حل مشكلة الاراضي وكان الهدف الرئيسي من وراء تلك الاصلاحات العمل على ربط الولايات العثمانية الثلاثة وتقوية السلطة المركزية وكانت أهم اصلاحاته .

٢/ من نتائج الحكم العثماني في العراق تزايد المعارضة العراقية ضد العثمانيين ، وضح هذه العبارة مستشهدا بأبرز الانتفاضات

الجواب / بدأت تزداد تلك الانتفاضات في النصف الثاني من القرن السادس عشر بزيادة التدخلات الاوربية الاجنبية وقد اتخذت المعارضة الشعبية اشكالا عدة من حيث التجمعات والتحالفات العشائرية التي شملت الاقسام الشمالية والجنوبية من العراق لاسيما انتفاضة كربلاء عام ١٦٠٤م على الحامية العثمانية وشاركت الفئات المثقفة و السكان فيها ، كما شهدت بغداد انتفاضة اخرى قادها عبد الغني ال جميل عام ١٨٣٢م ضد الوالي علي رضا واجراءاته .

س ٦/ وضح ما يأتي :

١/ حكمت الدولة العثمانية قرابة اربعة قرون سادت في هذه المدة حالة من الجمود والتراجع الحضاري؟

الجواب / بسبب طبيعة الحكم والحروب والصراعات بينها وبين القوى الاخرى ولاسيما الصفوية والاجنبية.

٢/ الآثار السلبية والايجابية لنظام الطابو ؟

الجواب / الايجابيات :

- حدد عائديه الارض الى الافراد ام الدولة ام الاوقاف .
- القضاء على الانتفاضات والنزاعات العشائرية ووضع حد لثوراتهم المستمرة وتعويدهم على الاستقرار .

- تحسين سبل العيش من خلال توزيع الاراضي والاستقرار فيها والعمل على استغلالها .
- اصلاح نظام الضرائب

السلبيات :

- تحويل الكثير من رؤساء العشائر الى ملاكين كبار للأراضي.

- تحويل افراد العشيرة الى عاملين في اراضي الملاكين وهو بذلك ارسى قواعد النظام الاقطاعي في العراق.

٣/ يعد تحديث طرق المواصلات احد اهم اصلاحات الوالي مدحت باشا؟

الجواب / اهتم بتحديث طرق المواصلات اذ اعاد تشكيل شركة الادارة العثمانية النهرية التي اسهمت في تطوير النقل الداخلي والنقل البحري ، اسس شركة (الترامواي) بين بغداد والكاظمية ليسهم في نقل المسافرين والبضائع وافتتحت عام ١٨٧١م.

س ٧ / **وضح اهمية انشاء مطبعة حكومية باسم مطبعة الولاية؟**

الجواب / لها اهمية كبيرة في نشر الثقافة بشكل كبير ولاسيما طباعة الصحف والمجلات واهمها جريدة زوراء التي تعمل على نشر الاخبار المحلية والاجنبية ونشر النصوص والقرارات والقوانين والمقالات مما جعل دورها مهما في اطلاع الناس على اخبار العالم وافكاره مما اسهم في نشر الوعي الثقافي بين ابناء الشعب.

المصالح البريطانية في العراق

١ اهمية موقع العراق الاستراتيجي لطرق التجارة البريطانية مع الشرق

علل / بدء التوسع الأوربي باتجاه الشرق خلال القرن السادس عشر ؟

الجواب / بسبب الاستكشافات الجغرافية التي اعقبها اندفاع اصحاب رؤوس الأموال الى المناطق الجديدة من العالم ، اذ قاموا بأنشاء مراكز تجارية فيها وقيام حكوماتهم بحمايتها وحماية الطرق المؤدية اليها .

الملكة اليزابيث : وهي ملكة بريطانيا التي عملت بكل جد من اجل الحصول على الامتيازات من الدولة العثمانية من اجل حرية التجارة البريطانية داخل حدود الدولة العثمانية .

س/ ما الامتيازات التي حصلت عليها الملكة اليزابيث عام ١٥٨٠م من الحكومة العثمانية ؟

الجواب / حصلت على تعهد من الحكومة العثمانية في حماية التجار الانكليز اثناء وجودهم او مرورهم في الاراضي العثمانية والتي كان العراق جزء منها .

س/ ما اهم ما اكدت عليه رحلة رالف فيتش الى العراق ؟.

الجواب/

١. ان العراق يمثل حلقة المواصلات بين الدولة العثمانية وبلاد فارس

٢. ان البصرة مركز تجاري مهم لتجارة التوابل والأقمشة والعقاقير المستوردة من الهند.

وكان من نتائج هذه الرحلة

ان حصلت موافقة الملكة اليزابيث لشركة الشرق الادنى للتجارة مع العراق .

س/ ما نتائج رحلة رالف فيتش الى العراق؟

الجواب/ حصلت شركة الشرق الادنى على موافقة بريطانيا والملكة اليزابيث للمتاجرة مع العراق

الشرق الادنى : وهي احدى الشركات البريطانية التي حصلت على موافقة الملكة اليزابيث بالمتاجرة مع العراق

س/ ما الامتيازات التي منحت للتجار البريطانيين في العراق عام ١٦٠٤م ؟

الجواب/

١. موافقة الحكومة العثمانية على ان ترفع السفن الانكليزية اعلامها والمتاجرة داخل الموانئ العثمانية .
٢. تحديد الرسوم على البضائع الانكليزية بـ (٣%) فقط من ثمن البضاعة .
٣. انشاء وكالة تجارية انكليزية في البصرة.
٤. حق محاكمة العمال العراقيين .
٥. وجود ممثل تجاري بريطاني يتمتع بالحصانة في كل من بغداد والبصرة .

٢ التنافس الألماني - البريطاني على العراق

س/ وضح باختصار التنافس البريطاني الألماني على العراق ؟

الجواب/

بدأ التنافس البريطاني الألماني على العراق من خلال

- الاهتمام بالأثار العراقية واجراء الدراسات العربية الاسلامية .
- مد سكة حديد (برلين - بغداد) والذي يعد هدفا توسعيا لألمانيا في ممتلكات الدولة العثمانية .
- حصول الألمان على امتياز لمد سكة حديد من قونية الى بغداد ثم البصرة عام ١٩٠٣م.
- اتفاق المانيا مع الدولة العثمانية على بناء سكة حديد الحجاز .
- منافسة التجارة البريطانية في الدولة العثمانية ، حيث بلغت حجم الحملات الالمانية في ميناء البصرة والذي جاء بالمرتبة الثانية بعد حجم الصادرات البريطانية في الميناء ، والتي امتازت بخطرته على التجارة البريطانية في العراق .

٣ الظروف الدولية ودورها في تعزيز العلاقات البريطانية - العثمانية وانعكاساتها لصالح تعزيز النفوذ

البريطاني في العراق متمثلا :

س/ ما الاحداث والظروف التي ساعدت على زيادة وتعزيز نفوذ بريطانيا في الدولة العثمانية ؟

الجواب /

- أ_ الحملة الفرنسية بقيادة نابليون بونابرت على مصر عام ١٧٩٨م والخطط الفرنسية التوسعية في المنطقة ومنها الى الهند والشرق .

بـ نجاح بريطانيا بتعين (هارفورد جونز) عام ١٨٠٢م قنصلا لها في ولاية بغداد وما حولها ومنحة الحصانة والامتيازات فضلا عن توطيد علاقتهم مع واليها المملوكي سليمان باشا الكبير (١٧٨٠ - ١٨٠٢) الذي استمر لغاية وفاته عام ١٨٠٢م.

جـ تراجع العلاقات (العثمانية - الفرنسية) وانعكاساتها على عقد معاهدة السلم في مضيق الدردنيل عام ١٨٠٩م بين بريطانيا والدولة العثمانية .

معاهدة السلم في مضيق الدردنيل ١٨٠٩م : وهي المعاهدة التي عقدت بين بريطانيا والدولة العثمانية عام ١٨٠٩م والتي تضمنت بحرية التجارة البريطانية داخل حدود الدولة العثمانية وحماية هذه التجارة .

س/ ما ذا تضمنت المعاهدة التي عقدت بين بريطانيا والدولة العثمانية عام ١٨٠٩م (السلم في مضيق الدردنيل)؟

الجواب /

➤ حرية التجارة للبريطانيين داخل اراضي الدولة العثمانية والاراضي المسيطر

عليها و ومنها العراق

➤ الزام الدولة العثمانية بحماية هذه التجارة .

٤ المصالح البريطانية في نهري دجلة والفرات

فراغ / كان اهتمام بريطانيا في العراق في بداية الامر يعود لأسباب تجارية ثم سرعان ما اصبح لأسباب تجارية و سياسية .

س/ وضح بإيجاز تطور المصالح البريطانية في العراق ؟

الجواب

كان اهتمام بريطانيا في بداية الامر يعود لأسباب تجارية ثم سرعان ما اصبحت تعود الى اسباب سياسية تجارية تتعلق بالمطامع الاستعمارية البريطانية ، وموقع العراق الجغرافي الذي يمثل طريقا مهما للبريطانيين الى أكبر مستعمراتهم في الهند والتي اطلق عليها (درة التاج البريطاني) .

درة التاج البريطاني : وهي التسمية التي اطلقتها بريطانيا على اكبر مستعمراتها في الهند لأهميتها التجارية والسياسية والاقتصادية لبريطانيا .

علل / اطلقت بريطانيا تسمية درة التاج البريطاني على مستعمراتها في الهند ؟

الجواب بسبب اهميتها الاقتصادية لبريطانيا .

س / كان هناك ثلاث طرق تصل بريطانيا بمستعمراتها بالهند ؟

الجواب

الاول : عبر رأس الرجاء الصالح في اقصى جنوب قارة افريقيا وهو قليل الاهمية نظرا لطولة .

الثاني : يمر عبر الاراضي المصرية ليصل البحر المتوسط بالبحر الاحمر ومنه الى الهند .

الثالث: يمر عبر العراق ليصل البحر المتوسط بالخليج العربي ومنه الى الهند وهو المفضل لدى بريطانيا لأنه اقصر الطرق .

علل / يعد طريق رأس الرجاء الصالح قليل الاهمية بالنسبة لبريطانيا بالوصول الى الهند ؟

الجواب نظرا لطول الطريق عبر الاراضي المصرية .

علل / يعد طريق العراق الذي يربط البحر المتوسط بالخليج العربي من اهم الطرق الى الهند ؟

الجواب لأنه أقصر الطرق المؤدية الى الهند بالنسبة لبريطانيا .

شركة الهند الشرقية البريطانية: وهي احدى الشركات البريطانية التي تنقل البضائع البريطانية من الهند الى العراق والخليج العربي في الثلاثينيات من القرن التاسع عشر.

علل / استعمال القوة البخارية في المواصلات المائية والسفن الصغيرة في الانهار ؟

الجواب لان السفن البخارية تكون قادرة على حمل البضائع بتكاليف نقل قليلة ومدة سفر أقل.

س/ بين اهم الرحلات الاستطلاعية التي ارسلتها بريطانيا لمعرفة مدى صلاحية نهري دجلة و الفرات للملاحة النهرية ؟

الجواب/

• رحلة الضابط البريطاني (فرنسيس رودن جسني) للقيام بالمسح والتحري لنهر الفرات التي بدأت في

(حزيران ١٨٣٠ م الى حزيران ١٨٣١م) والتي بينت اهمية نهر الفرات للحكومة البريطانية .

• الرحلة الثانية (فرنسيس رودن جسني) عام ١٨٣٤م لدراسة صلاحية مجرى نهر الفرات وهذه المرة

بباخرتين (دجلة - الفرات) واستغرقت عملية المسح ثلاث سنوات وعندما وصلت سفينة الفرات الى

منطقة بوشهر عند الساحل الشرقي للخليج العربي اتصل رجالها بالعشائر الموجودة هناك مدونين

معلومات مهمه عن طبيعة البلاد وسكانها فضلا عن رسمهم الخرائط المفصلة عن المنطقة، الا ان

غرق السفينة **دجلة** ادى الى تغيير وجه نظره عن مدى صلاحية النهر للملاحة .

- (رحلة هنري بلوس لينج) الذي اسس شركة في بغداد عام ١٨٤٠م في نهر دجلة وكانت لها باخرتان هما (لندن و ودجلة) وقد اهتمت هذه الشركة بعمليات التجارة والوساطة التجارية لبعض الشركات البريطانية .
- (رحلة فلكس جونز) في المدة ما بين ١٨٤٧م - ١٨٥٣م الى بغداد وبابل ونيوى .
- رحلة القائد (سلمي) استمرت حتى عام ١٨٦٢م الى منطقة وادي دجلة (تضم المنطقة الممتدة بين بغداد وسامراء)

س / ما الاسباب التي بينت اهمية نهر الفرات للمواصلات البريطانية والتي بينتها رحلة فرنسيس رودن جسني ؟

الجواب

١. اهمية نهر الفرات للمواصلات بين البحر المتوسط والخليج العربي .
٢. صلاحية النهر لسير السفن البريطانية .
٣. اهمية التجارة والنفوذ البريطاني في المنطقة
٤. اهميته العسكرية .

فرنسيس رودن جسني : وهو الضابط البريطاني الذي ارسلته بريطانيا في رحلة استطلاعية لمعرفة مدى صلاحية نهر الفرات للملاحة عام ١٨٣٠م لمعرفة مدى اهمية نهر الفرات للمصالح البريطانية .

س/ ما الاعمال التي قامت بها رحلة فرنسيس رودن جسني عند وصولها الى منطقة بوشهر ؟

الجواب/ اتصل رجالها بالعشائر الموجودة هناك مدونين معلومات مهمة عن طبيعة البلاد وسكانها فضلا عن رسم الخرائط المفضلة عن المنطقة .

هنري بلوس لينج : وهو احد الشخصيات البريطانية الذي استطاع تأسيس شركة ملاحة نهريه في بغداد في نهر دجلة عام ١٨٤٠م والتي اهتمت بعمليات التجارة والوساطة التجارية .

س/ ما اهم الانشطة التي اهتمت بها شركة هنري بلوس لينج التي تأسست في العراق ؟

الجواب اهتمت الشركة بعمليات التجارة والوساطة التجارية لبعض الشركات البريطانية ، والنشاط المصرفي والنقل البريدي ، فضلا عن توطيد العلاقات مع العشائر العراقية الساكنة على ضفاف نهر دجلة لحماية سير بواخرها المحملة بمختلف انواع البضائع التجارية .

علل / قيام شركة هنري بلوس لينج بتوطيد العلاقات مع العشائر العراقية الساكنة على ضفاف نهر دجلة

الجواب لحماية سير بواخرها المحملة بمختلف انواع البضائع التجارية .

فلنكس جونز : وهو الضابط البريطاني الذي كلف من قبل الحكومة البريطانية بالقيام برحلة استطلاعية في نهري دجلة والفرات لمعرفة مدى صلاحية النهرين للملاحة عام ١٨٤٧م - ١٨٥٣م في منطقة بغداد وبابل ونينوى.

سليبي : وهو القائد البريطاني الذي قام برحلة استطلاعية في نهري دجلة والفرات وخاصة في المنطقة الواقعة بين بغداد وسامراء لمعرفة مدى صلاحية النهرين للملاحة حتى ١٨٦٢م.

س/ على ماذا اكدت المحاولات الاستطلاعية لنهري دجلة والفرات؟

الجواب ان تلك المحاولات والجهود وما تمخض عنها رسم الخرائط وجملة من المعلومات المهمة عن نهري دجلة و الفرات ، اكدت لبريطانيا اهمية موقع العراق وحتمية جعله منطقة نفوذ بريطاني .

٥ مشاريع سكك الحديد

علل / دعت بريطانيا عام ١٨٥٧م الى مد سكة حديد الفرات ؟

الجواب بسبب ازدياد مصالحها في المنطقة اذ لم يكن هدف بريطانيا في العراق هدفا اقتصاديا بحسب ما كان هدفا استراتيجيا .

٦ الميزان التجاري لصالح البريطانيين

الصادرات البريطانية الى العراق : تصدر بريطانيا الاقمشة واكياس الجوت والحديد والفولاذ والتوابل والشاي و السكر والخشب والغزول .

الصادرات العراقية الى بريطانيا : يتمثل في المنتجات الزراعية والحيوانية مثل (الصوف - القمح . التمر - السمسم - جلود المواشي - الخيل - الصمغ - انواع الحبوب الاخرى) .

فراغ / خلا السنوات (١٩١٠ - ١٩١٢م) وصلت نسبة البضائع البريطانية والهندية مع العراق بنحو (٦٥,٣%) من الحجم الكلي للبضائع .

٧ النزعة الاستعمارية

وهي تفكير بريطانيا المتمثل بالنزعة الاستعمارية ، وامكانياتها في السيطرة على المستعمرات الشاسعة من قارات العالم كافة ومنها العراق .

الاحتلال البريطاني للعراق عام (١٩١٤م)

حدثت الحرب العالمية الأولى عام ١٩١٤م بين دول الوفاق ودول الوسط وهما

الوفاق : بريطانيا - فرنسا - روسيا القيصرية

الوسط : المانيا - امبراطورية النمسا والمجر

بدأت بريطانيا بانتظار الفرصة المناسبة لاحتلال العراق، وهذا ما أكدته صراحةً اللورد كيرزون

اللورد كيرزون : وهو نائب الملك البريطاني في الهند الذي صرح عام ١٩١١م بأن المصالح البريطانية لا تنحصر في الخليج العربي فقط وانما تمتد الى بغداد .

فراغ / اعلنت بريطانيا وفرنسا الحرب على الدولة العثمانية بتاريخ ٥ تشرين الثاني ١٩١٤م كانت بريطانيا قد تركزت في مصر والخليج العربي ؟

فتحركت القوات البريطانية من البحرين في حملة ديلامين باتجاه العراق لغرض احتلاله

حملة ديلامين : وهي الحملة البريطانية التي تحركت من البحرين متوجهة لاحتلال العراق عام ١٩١٤م خلال الحرب العالمية الأولى

علل / قيام بريطانية بالتوجه لاحتلال العراق عام ١٩١٤م ؟

الجواب لأنه يشكل الخط الأمامي للدفاع عن مصالحها الحيوية في الخليج العربي من اية اخطار استعمارية توسعية ولاسيما من المانيا وحليفاتها الدولة العثمانية .

علل / لم تكن الدولة العثمانية على استعداد للدفاع عن العراق ضد الاحتلال البريطاني ؟

الجواب لان الدولة العثمانية في ذلك الوقت كانت قد ارسلت معظم قواتها ضمن وحدات الفيلق السادس الذي كان مقره في بغداد الى جبهات اوربا الشرقية في بداية الحرب العالمية الاولى .

س/ صف بإيجاز مراحل الاحتلال البريطاني الى العراق ؟

الجواب في ٦ تشرين الثاني ١٩١٤م نزلت القوات البريطانية في منطقة الفاو ، وبعد مناوشات خفيفة مع القوات العثمانية التي انسحبت مع استمرار تقدم القوات البريطانية الى موقع السنية (مقابل عبادان) حيث درات معارك بين الطرفين تكبدوا خلالها خسائر قليلة ، الى انها لم توقف تقدم القوات البريطانية من احتلال البصرة في ٢٢ تشرين الثاني ١٩١٤م وقام وجهاء ومشايخ البصرة واهلها من الاتصال بعلماء الدين في النجف الاشرف وكرلاء المقدسة ومدينة الكاظمية وارسلوا برقيات يستجدون بهم واصبحت تقرأ على منابر

المساجد واخذت صدى واسع بين ابناء الشعب العراقي الذين هبوا من اجل الدفاع عن العراق فضلا عن طلب القوات العثمانية من شيوخ العشائر الدفاع عن البلاد ، لذلك قررت القوات البريطانية ارسال تعزيزات لترصين مواقعها العسكرية وارسلت القوات الى جنوب العراق فضلا عن قرارها **باحتيال مدن الناصرية والعمارة** لأهميتها من الناحية العسكرية ، ولتأمين احتلال البصرة

وعلى وجهتها قواتها لاحتلال منطقة القرنة في ٣ كانون الأول ١٩١٤م للأسباب الآتية :

1 - موقعها الاستراتيجي عند ملتقى نهري دجلة والفرات ، فضلا عن سيطرتها الكاملة على مجرى شط العرب.

2 - توفير متطلبات القوات البريطانية من المواد الغذائية والمؤن .

3 - تأثيرها المعنوي في العشائر العراقية .

وعلى دارت المعارك بين الجيشين أدت الى استسلام القوات العثمانية في القرنة وانسحابها ليلة (٨-٩)

كانون الأول عام ١٩١٤

س/ اسباب قيام بريطانيا باحتلال منطقة القرنة ؟

الجواب السابق ١١

معركة الشعبية

بعد اندحار القوات العثمانية في البصرة والقرنة ، قررت الانسحاب باتجاه منطقة الشعبية ذات الموقع الاستراتيجي المهم ، المسيطر على طرق المواصلات باتجاه الناصرية ومناطق الفرات الاوسط ، وكانت القوات العثمانية بقيادة سليمان العسكري الى جانب الاف المتطوعين العراقيين من مناطق مختلفة عربا وكردا **واتخذوا نحو البصرة طريقين :**

الخط الأول : من النجف مرورا بالسماوة ثم الناصرية والبصرة بزعامة محمد سعيد الحبوبي كان اشد المعارضين لاحتلال البريطاني .

الخط الثاني : انطلق من مدينة الكاظمية وبغداد بزعامة السيد مهدي الحيدري والشيخ محمد الخالصي متخذا طريق نهر دجلة داعين العشائر القاطنة على جانبي النهر الالتحاق بهم . بدأت المعركة فجر يوم ١٢ نيسان عندما هاجم العثمانيين والعراقيين القوات البريطانية في منطقة **الشعبية** كان الانتصار في بادئ الأمر حليف القوات العثمانية واستمر القتال يوما بعدها قررت القوات العثمانية الانسحاب لغرض الاستعداد

والمواجهة مرة اخرى في الوقت نفسه قررت القوات البريطانية بالهجوم فتكبد العراقيين والعثمانيين خسائر كبيرة بعد وصول التعزيزات البريطانية ما ادى الى انسحاب القوات العثمانية وتكبدهم خسائر كبيرة ادت الى انتحار القائد العثماني **سليمان العسكري**.

علل / تعد منطقة الشعيبة ذات موقع استراتيجي مهم ؟

الجواب بسبب موقعها المسيطر على طرق المواصلات باتجاه الناصرية ومناطق الفرات الاوسط .
سليمان العسكري : وهو قائد القوات العثمانية في معركة الشعيبة التي واجهت القوات البريطانية بمشاركة المقاتلين العراقيين اثناء الحرب العالمية الأولى .

س/ اتجه المقاتلين العراقيين باتجاه البصرة بخطين ، ماهما :

الجواب

الأول : من النجف ← مرورا بالسماوة ← ثم الناصرية والبصرة بزعامة محمد سعيد الحبوبي كان اشد المعارضين .

الثاني : انطلق من مدينة الكاظمية ← وبغداد بزعامة السيد مهدي الحيدري والشيخ محمد الخالصي متخذا طريق نهر دجلة داعين العشائر القاطنة على جانبي النهر الالتحاق بهم .

محمد سعيد الحبوبي : وهو قائد القوات العراقية التي انطلقت من النجف ← البصرة المشاركة الى جانب الدولة العثمانية في معركة الشعيبة والذي استشهد متأثرا بجراحاته في تلك المعركة

السيد مهدي الحيدري - محمد الخالصي : وهو احد الشخصيات الوطنية العراقية التي تزعمت قيادة حملة المقاتلين العراقيين من مدينة الكاظمية باتجاه البصرة لمقاتلة القوات البريطانية في معركة الشعيبة .

علل / تعد معركة الشعيبة المعركة الوحيدة التي شارك بها المقاتلين العراقيين الى جانب الدولة العثمانية ضد الاحتلال البريطاني ؟

الجواب بسبب الدافع الديني ، لانهم يواجهون دولة استعمارية اجنبية مقابل دولة اسلامية .

علل / قررت القوات العثمانية الانسحاب بقيادة سليمان العسكري ؟

الجواب / لغرض الاستعداد للمواجهة مرة اخرى .

س/ وضح نتائج معركة الشعبية ؟

الجواب/ ← انسحاب القوات العثمانية باتجاه الناصرية ← انتحار القائد العثماني سليمان العسكري ← وفاة السيد محمد سعيد الحبوبي ١٩١٥م في الناصرية متأثراً بجروحه في المنطقة ← تعد المعركة من اهم المعارك في تاريخ العراق .

س/ عدد بنقاط اهمية معركة الشعبية ؟

الجواب/

- ١- تأثيرا سلبي في معنويات الجيش العثماني ، ولاسيما بعد الخسائر المادية والبشرية التي منيت بها وادت الى انتحار القائد سليمان العسكري.
- ٢- سوء التخطيط العسكري العثماني لقيادة المعركة ، فضلا عن قلة الجنود المدربين (النظاميين) مقابل المتطوعين من ابناء العشائر العراقية.
- ٣- النقص في الاسلحة والتجهيزات العسكرية والمؤن الغذائية .
- ٤- اكدت للعراقيين عدم امكانيات القوات العثمانية من التصدي للقوات البريطانية وايقاف زحفها لباقي المدن العراقية واحتلالها .

احتلال مدن العمارة والناصرية

س/ ما الاسباب التي دفعت القوات البريطانية لاحتلال مدينتي الناصرية والعمارة ؟

الجواب /

- ١- السيطرة التامة على رأس الخليج العربي، فضلا عن ابعاد القوات العثمانية من شط العرب .
- ٢- عدم اعطاء الفرصة الى القادة العسكريين العثمانيين لإعادة تنظيم قواتهم العسكرية وتعزيزها .
- ٣- استعادة هيبة بريطانيا ، بوصفها دولة عظمى وذات سيادة على مناطق شاسعة من العالم
- ٤- المحافظة على مصالحها الاقتصادية وحمايتها لمصافي وانابيب النفط التابعة لشركة النفط **الانجلو**

- فارسية

وفعلا تقدمت القوات البريطانية بمساندة قوتها الجوية واحتلت مدينة العمارة في ٤ حزيران ١٩١٥م ومدينة الناصرية في ٢٥ تموز ١٩١٥م اثر معركة تكبدت خلالها القوات العثمانية خسائر فادحة مقابل خسائر قليلة للقوات البريطانية

حصار الكوت والتقدم نحو بغداد

بعد ان قررت القوات البريطانية التقدم نحو بغداد ، بدأت بالتقدم نحو الكوت بقيادة (طاووزند) والهجوم عليها واحتلالها في ٢٨ ايلول ١٩١٥م وجرت معارك عنيفة بين الطرفين قرر على اثرها القائد العثماني (نور الدين بيك) الانسحاب الى منطقة المدائن (سلمان باك) بعد معارك عنيفة قادها ضد القوات البريطانية وتكبدها خسائر كبيرة في الأرواح والمعدات في حين تراجعت القوات البريطانية الى منطقة الكوت لإمكانية التحصين فيها وانتظار وصول التعزيزات لقواتها لكن القوات العثمانية تمكنت من احكام الحصار عليها الذي استمر خمسة اشهر وحدثت معارك عدة بين الطرفين لحين وصول الجنرال الألماني (فون دركولتز) لقيادة القوات العثمانية الى الكوت في ١٢ كانون الاول ١٩١٥م الذي امر بعدم مهاجمة القوات البريطانية المحاصر الى ان تنفذ ارزاقها وهذا ما حدث فعلا في ٢٩ نيسان ١٩١٦م استسلم القائد البريطاني (طاووزند) مع قواته بعد ان تكبد خسائر مادية ومعنوية كبيرة جداً.

نور الدين بيك: وهو قائد القوات العثمانية في الكوت الذي انسحب الى منطقة المدائن والذي استطاع من محاصرة القوات البريطانية في مدينة الكوت واحكام الحصار عليها .

علل / تراجع القوات البريطانية الى منطقة الكوت ؟

الجواب لإمكانية التحصن فيها وانتظار وصول التعزيزات لقواتها .

فون دركولتز : وهو الجنرال الألماني الذي وصل الى الكوت لقيادة القوات العثمانية والذي أصدر أوامره بعدم مهاجمة القوات البريطانية المحاصرة الى ان تنفذ ارزاقها .

علل/ امر القائد الألماني فون دركولتز بعدم مهاجمة القوات البريطانية المحاصرة في الكوت ؟

الجواب وذلك لمناعة تحصينات المدينة .

طاووزند : وهو الجنرال البريطاني وقائد القوات البريطانية التي تقدمت لاحتلال الكوت وحوصر فيها من قبل القوات العثمانية الى ان استسلم الى القوات العثمانية مع جنوده .

احتلال بغداد

بعد حصار الكوت بدأت القوات البريطانية حشد قواتها وتنظيمها للتوجه نحو بغداد فقام الجنرال (ستانلي مود) بوضع خطة للتغلب على القوات العثمانية وهي :

١- التفاف القوات البريطانية على القوات العثمانية في بعض المواقع العسكرية .

٢- تفوق المعدات العسكرية البريطانية .

تمكنت القوات البريطانية من نصب جسر على نهر دجلة والذي مكنهم من العبور الى الجهة الأخرى فضلا عن قطع خط الرجعة للقوات العثمانية الى مواقعها السابقة ، والذي اضطرها شيئا فشيئا الى الانسحاب باتجاه بغداد مع انهيار معنويات الجيش العثماني ، استمر تقدم القوات البريطانية الى ان وصلت مشارف بغداد في ١٠ آذار ١٩١٧م بعد سلسلة من المعارك دارت بين الجانبين في (تل اسود - ام الطبول) اما القادة العسكريين العثمانيين فقررروا الانسحاب من بغداد ونسف مخازن الذخيرة والمنشأة العسكرية واحرقوا الجسر الذي كان يربط جانبي بغداد ببعضها ليدخل الجنرال مود على رأس قواته الى بغداد يوم ١١ آذار ١٩١٧م .

س/ ماذا تضمن البيان الذي اعلنه الجنرال ستانلي مود بعد دخول بغداد؟

الجواب

✚ ((اننا لم ندخل بلادكم أعداء فاتحين انما دخلناها محررين ، فقد خضع مواطنوكم منذ ايام هولاكو لمظالم الغرباء ، فتخربت قصوركم وذوت بساتينكم ، وان امنية مليكي وشعوبه بل امنية الدول العظمى المتحالفة مع جلالته ان تعودوا كما كنتم في ما مضى))

✚ **كما اكد** ((يا اهل بغداد ان اعمالكم التجارية وادخال الطمأنينة والامن في بلادكم من الأمور التي يستوجب اهتمام الحكومة البريطانية الى الابد))

فراغ / وصلت القوات البريطانية مشارف بغداد بتاريخ ١٠ آذار ١٩١٧م .

فراغ / دخلت القوات البريطانية بقيادة ستانلي مود الى بغداد في ١١ آذار ١٩١٧

ستانلي مود : وهو الجنرال البريطاني و القائد العام للقوات البريطانية في العراق الذي استطاع احتلال بغداد في ١١ آذار ١٩١٧

تل اسود - ام الطبول : وهي احدى المواقع التي توجد في بغداد والتي دارت فيها المعارك العثمانية البريطانية والتي انتهت باحتلال بغداد على يد القائد البريطاني ستانلي مود.

التقدم شمالا وغربا

استمر تقدم القوات البريطانية نحو الشمال والغرب لاستكمال احتلال مناطق العراق اذا تمكنوا بعد معارك جديدة مع العثمانيين من احتلال **بعقوبة** و**خانقين** و**سامراء** و**السليمانية** و**كركوك** ، فضلا عن معارك في

جهة الغرب والشمال الغربي ، اذا احتلوا مدينة الرمادي في ٢٩ ايلول ١٩١٧م والفلوجة وحديثة وعنه وتكريت في ٦ تشرين الثاني ١٩١٧م و اخر نقطة في غربي العراق في ٢٢ تشرين الثاني ١٩١٨م .
فراغ / احتلت القوات البريطانية اخر نقطه في غربي العراق في ٢٢ تشرين الثاني ١٩١٨م.

احتلال الموصل وهندة مودروس

في ٣١ تشرين الأول ١٩١٨م اعلنت الهدنة التي اطلق عليها بهندة (مودروس) بين دول الوفاق ودول الوسط وايقاف العمليات العسكرية كافة ،
 الا ان القوات البريطانية تقدمت نحو الشمال على الرغم من اعلان الهدنة ، في الوقت الذي اوقفت فيه القوات العثمانية القتال ،

اذا قام الجنرال (مارشال) قائد القوات البريطانية بتوجه انذار الى قائد القوات العثمانية بتسليم الموصل وامام انهيار القوات العثمانية وعدم تمكنها من الصمود أمام القوات البريطانية ، تمكنوا من دخول الموصل بشكل نهائي بتاريخ ١٠ تشرين الثاني ١٩١٨م .

هندة مودروس : وهي الهدنة التي عقدت بين دول الوفاق ودول الوسط والتي بموجبها انتهت جميع العمليات العسكرية فيما بينهما بتاريخ ٣١ تشرين الاول ١٩١٨م .

مارشال : وهو قائد القوات البريطانية الذي وجه انذار الى القوات العثمانية بتسليم الموصل واحتلالها من قبل القوات البريطانية بتاريخ ١٠ تشرين الثاني ١٩١٨م .

فراغ / تمكنت القوات البريطانية من دخول مدينة الموصل واحتلالها وانسحاب القوات العثمانية من جميع اراضي ولاية الموصل نحو الاناضول في ١٠ تشرين الثاني ١٩١٨م.

الانتداب البريطاني على العراق

هيأة ظروف الحرب العالمية الأولى والظروف التي الت اليها الحرب الفرصة للدول المنتصرة الحلفاء من اجل تقسيم ممتلكات الدول المنهزمة في الحرب الى تقسيم ممتلكات الدولتين العثمانية والالمانية بوصفها مستعمرات ، على الرغم ان ذلك يتناقض مع وعود الحلفاء بالتححر والاستقلال وحقهم في تقرير مصيرهم بعد الحرب بالنسبة للشعوب التي كانت تحت السيطرة العثمانية وبالخصوص بنود الرئيس الأمريكي وودرو ولسون الاربعة عشر ، فحاولت الدول المنتصرة ايجاد نظام جديد بدل الاحتلال سمي (الانتداب) وهو احتلال واستعمار بصيغة مختلفة فقط وانما المضمون واحد لا يتغير (استعمار بصيغة جديدة) .

ودور ولسون: وهو الرئيس الامريكي وصاحب البنود الاربع عشر التي اكدت على وجوب تقرير المصير للشعوب التي كانت تحت السيطرة العثمانية وتقرير مصيرها

س/ ما الوعود التي اخلفها الحلفاء في حق الشعوب في تقرير مصيرها ، بينها بإيجاز ؟

الجواب

- احقية تلك الشعوب في تقرير مصيرها واختيار الحكم المناسب لها .
- وعود الرئيس الامريكي وودرو ولسون صاحب البنود الاربع عشر بحق الشعوب في تقرير مصيرها .
- وعود كل من بريطانيا وفرنسا خلال الحرب وتأكيدها على اهمية تحرير الشعوب.
- وعود الحلفاء في تأسيس حكومات ديمقراطية لتلك البلدان بعد الحرب.

نظام الانتداب : وهو النظام الاستعماري الجديد الذي ابتدعته الدول المنتصرة في الحرب بصيغة جديدة من اجل ايجاد نظام جديد للسيطرة الاستعمارية ابتدعه الجنرال (سمطس) من اتحاد جنوب افريقيا ويعني وضع الشعوب التي انفصلت عن الدولة العثمانية بعد الحرب العالمية الأولى تحت اشراف الدول الكبرى تقوم بتقديم الارشادات والمساعدة لها حتى يأتي الوقت التي تصبح به قادرة على ان تستقل بشؤونها وتحكم نفسها بنفسها **سمطس :** وهو الجنرال البريطاني من اتحاد جنوب افريقيا وصاحب فكرة النظام الاستعماري الجديد الذي يحل محل الاحتلال هو (الانتداب) .

س/ ماذا كان يعني الانتداب ؟

الجواب وضع الشعوب التي انفصلت عن الدولة العثمانية بعد الحرب العالمية الأولى تحت اشراف الدول الكبرى تقوم بتقديم الارشادات والمساعدة لها حتى يأتي الوقت التي تصبح به قادرة على ان تستقل بشؤونها وتحكم نفسها بنفسها .

فراغ / قيام الدول العظمى ب اعطاء نظام الانتداب شرعيته من خلال تضمينه في المادة ٢٢ من ميثاق

عصبة الامم الذي نشر في ٢٨ حزيران ١٩١٩

مؤتمر سان ريمو: وهو المؤتمر الاستعماري الذي عقد في مدينة سان ريمو في ايطاليا في ٢٤ نيسان ١٩٢٠م والذي تم فيه الاتفاق على توزيع الانتدابات بين الدول المنتصرة في الحرب من دون الاخذ برأي الشعوب وموافقتهم عليه .

س / كيف قسم مؤتمر سان ريمو الانتدابات بين الحلفاء (الدول المنتصرة) بالحرب العالمية الأولى ؟

الجواب

بريطانيا: العراق = شرق الاردن = فلسطين

فرنسا : سوريا = لبنان

معاهدة سيفر: وهي المعاهدة التي عقدت بين الحلفاء والدولة العثمانية والتي اعترفت بموجبها الدولة العثمانية بانفصال العراق عنها ووضعه تحت الانتداب البريطاني في ١٠ اب ١٩٢٠م

س/ ما اهم بنود لائحة الانتداب البريطاني على العراق ؟

الجواب

- ١- تضع الدولة المنتدبة قانونا اساسيا للعراق يعرض على مجلس العصبة للمصادقة عليه في مدة ثلاث سنوات.
- ٢- اعطت بريطانيا لنفسها الحق في الاحتفاظ بقوة عسكرية في العراق .
- ٣- اعطت لنفسها الحق في ادارة علاقات العراق الخارجية .
- ٤- تعهد بريطانيا بالمحافظة على الاراضي العراقية وان لا تتنازل عنها .
- ٥- الغاء الامتيازات الاجنبية في العراق .
- ٦- تأسيس نظام قضائي يضمن مصالح الاجانب .
- ٧- على بريطانيا ان تمنع أي تمييز بين رعايا اعضاء عصبة الامم .
- ٨- لا شيء مما في هذا الانتداب يمنع الدولة المنتدبة من تأسيس حكومة مستقلة اداريا .

س/ ما هو دور الحركة الوطنية في العراق بعد اعلان الانتداب البريطاني ؟

الجواب

بدأوا بعقد الاجتماعات للتداول في الاوضاع السياسية للبلاد وسبيلهم لنيل الحرية والاستقلال ، وقد عقدوا اجتماعات كثيرة خلال زيارة النصف من شعبان في ٣ ايار ١٩٢٠م في مدينة كربلاء المقدسة والتي كان لها اثر كبير في تاريخ الحركة الوطنية العراقية فيما حققته بعد ذلك ، ولاسيما خطب المرجع الديني الشيخ (محمد تقي الحائري) التي اكدت امكانية الشعب على القيام بثورة مسلحة في حال عدم استجابة بريطانيا لمطالبهم الوطنية العادلة لنيل الحرية والاستقلال ،

واكد في رسالة وجهها الى عموم ابناء البلاد بشأن ضرورة التظاهر السلمي ، والدعوة الى القدوم الى بغداد للمطالبة بحقوقهم بصورة سلمية.

محمد تقي الحائري: وهو احد علماء الدين ومن الشخصيات الوطنية التي كان لها دور كبير في الحركة الوطنية في العراق ضد الاحتلال البريطاني .

علل / كان رجال الحركة الوطنية يحضرون الاحتفالات الدينية التي كانت تقام في بغداد وكربلاء ؟

الجواب وذلك من اجل تحشيد الرأي العام وتعبئة العراقيين وتهيئتهم لمواجهة المحتل والمطالبة بالاستقلال التام .

س/ كان للجمعيات السرية في العراق دور في الحركة الوطنية في العراق ولاسيما في التمهيد لثورة العشرين في العراق ، ناقش ذلك ؟

الجواب / جمعية العهد - حرس الاستقلال :

قامت جمعية حرس الاستقلال في بغداد بالاتصال برجالات الحركة الوطنية العراقية في اغلب انحاء البلاد وعقدت الكثير من الاجتماعات السرية معهم ، لاسيما اجتماع (٢٦ / اذار / ١٩٢٠م) في بغداد ولاسيما خطب الشيخ محمد مهدي البصير الحماسية وقصائده الوطنية ، حتى نودي بشاعر ثورة العشرين ، وقد تقرر في ذلك الاجتماع اختيار خمسة عشر مندوبا منهم للقاء (ارنولد ويلسون) نائب الحاكم الملكي البريطاني في العراق ، لتقديم مطالب العراقيين الى الحكومة البريطانية كان اللقاء في ٢٠ حزيران ١٩٢٠م كما جرت الكثير من الاجتماعات في النجف الاشرف في بيوت رجالات الحركة الوطنية والجوامع والقت الخطب الحماسية وتم الاتفاق على ضرورة المطالبة باستقلال البلاد واقامة حكومة عربية تحكمه ورفض الانتداب البريطاني

س/ ماهي مطالب الحركة الوطنية والشعب العراقي ، بعد اعلان الانتداب البريطاني في العراق ؟

الجواب

- ضرورة المطالبة باستقلال البلاد.
- اقامة حكومة عربية تحكمه .
- رفض الانتداب البريطاني.
- رفض التعسف والاعتقالات ضد ابناء البلاد.

ارنولد ويلسون : وهو نائب الحاكم الملكي البريطاني في العراق الذي تسلم مطالب الشعب العراقي في بغداد من اجل عرضها على الحكومة البريطانية

ثورة العشرين

علل / تعد ثورة العشرين في العراق والتي اندلعت في تاريخ ٣٠ حزيران ١٩٢٠م حدثا مهما في تاريخه الحديث و المعاصر؟

الجواب لأنها تمثل مرحلة تاريخية مهمة من مراحل نضال الشعب العراقي ضد المحتل لنيل الحرية والاستقلال .

٣٠ حزيران ١٩٢٠ : وهو اليوم الذي اندلعت به ثورة العشرين في العراق ضد الاحتلال البريطاني والتي شملت جميع مناطق البلاد وتعد نقطة تحول مهمة في تاريخ العراق السياسية .

اسباب ثورة العشرين / الداخلية :

١- تدهور الاقتصاد العراقي

الذي شمل الزراعة والصناعة والتجارة فقد تركت الحرب العالمية الأولى اثارا سلبية على الحياة الاقتصادية في العراق فضلا عن شحة المواد الضرورية ولاسيما الغذائية منها بسبب امتلاك قوات الاحتلال البريطاني لها ، مما ادى الى ارتفاع اسعار المواد الغذائية والاستهلاكية على نحو كبير وانتشار المجاعة والامراض والأوبئة بين ابناء الشعب

٢- فرض قوات الاحتلال البريطاني الضرائب الباهظة التي أثقلت كاهل الشعب العراقي

ولاسيما الفلاحين منهم والذين يشكلون غالبية سكان البلاد، والتي انعكست سلبا على مستواهم المعيشي المنخفض اصلا ، فاحتكروا المحاصيل الزراعية والمواد الغذائية وتم شراؤها من السكان بأسعار رخيصة جدا ثم باعوها بأسعار مرتفعة ، كما انهم تساهلوا في جمع الضرائب من الشيوخ والموالين لهم مقابل تشددهم مع الآخرين .

٣- سوء الادارة العسكرية البريطانية

اذا اتبعت سياسة الضغط والشدة على سكان الارياف والمدن واعمال السخرة ، واجبار الفلاحين والمزارعين على العمل بالقوة تحت مسمى المجهود الحربي ، واشغال العقارات ببذلات ضئيلة جدا ،

واستعمال وسائل النقل من دون مقابل وتقييد التجوال واذلال موظفيهم للمواطن العراقي عند مراجعته للدوائر الحكومية ، وهذا الامر اثار استياء الشعب وزعماء العشائر

٤- اساليب الادارة الحديثة السيئة التي اتبعتها سلطات الاحتلال البريطاني في العراق

التي نفذها ضباط اداريون وسياسيون وموظفون هنود تجاوز اعدادهم المئات مقابل اعداد قليلة جدا للعراقيين فقد اتبع هؤلاء نظاما عسكريا مركزيا صعبا لا يتلاءم وطبيعة المجتمع العراقي مما ادى الى تذمر اصحاب البلاد واستيائهم .

٥- اتضاح معالم السياسة البريطانية في العراق وشعور العراقيين بخيبة امل

اذ عملت على تحويل العراق الى جزء من الامبراطورية البريطانية ثم جاء قرار عصبة الامم بفرض الانتداب البريطاني عليه ليكشف اكاذيب ووعود بريطانيا للعراق وعهودها .

٦- سياسة اعتقال الشخصيات الوطنية العراقية ونفيها الى الخارج التي اتبعتها سلطة الاحتلال البريطاني

وانعكاسها السلبي ولاسيما بعد ظهور الاستفتاء على مستقبل العراق والتي اجراه نائب الحاكم العام ارنولد ولسون في مدن العراق في اواخر عام ١٩١٨م وبداية عام ١٩١٩م التي اكد نتائجها رغبة العراقيين في انشاء حكومة دستورية ملكية مستقلة

٧- دور رجال الدين في النجف الاشرف وكربلاء المقدسة والكاظمية وسامراء في ايقاظ الشعور الوطني لأبناء البلد وتحشيد الجهود للمطالبة بالحقوق المشروعة للعراقيين .

فضلا عن تنظيم صفوف الحركة الوطنية العراقية لطرد المحتل البريطاني وحتمية نيل الحرية والاستقلال وتحرير البلاد ولاسيما الجمعيات والاحزاب السرية التي اسهمت من خلال نشاطاتها المتعدد الى بلورة المشاعر الوطنية ضد الاستعمار ، لاسيما نكث العهود والوعود بمنح العراقيين حقوقهم في الحرية والاستقلال .

جمعية العهد العراقية

تعريفها : وهي جمعية سرية تأسست في دمشق عام ١٩١٩م ومن ابرز مؤسسيها ياسين الهاشمي وجميل المدفعي وجعفر العسكري ونوري السعيد ومولود مخلص والتي طالبت باستقلال العراق وتأسيس حكومة ملكية بقيادة احد انجال الشريف حسين وكان لها فرعان في بغداد والموصل.

منهاجها : المطالبة باستقلال العراق ضمن حدوده الطبيعية وان يكون نظام الحكم فيها ملكي دستوري يتأسسه احد انجال الشريف حسين بن علي ملك الحجاز وكان للجمعية فرعان في بغداد والموصل

ياسين الهاشمي - وجميل المدفعي - وجعفر العسكري - ونوري السعيد - ومولود مخلص : وهو احد الشخصيات الوطنية العراقية الذي شارك في تأسيس جمعية العهد التي كان لها دور كبير في ثورة العشرين في العراق ضد الاحتلال البريطاني .

جمعية حرس الاستقلال

تعريفها : وهي جمعية سرية تأسست في اواخر شباط عام ١٩١٩م كان من ابرز رجالها علي ال بزرگان وناجي شوكت وعبد المهدي المنتفكي وآخرون والتي طالبت بالاستقلال التام وانشاء حكومة وطنية برئاسة أحد انجال الشريف حسين وكان لها فروع في بغداد والكاظمية والشامية والنجف والحلة وبعقوبة .

منهاجها : استقلال العراق التام - اقامة حكم دستوري يتولاه احد انجال الشريف حسين .

علي ال بزرگان - وناجي شوكت - وعبد المهدي المنتفكي : وهو احد الشخصيات الوطنية العراقية الذي كان له دور في تأسيس جمعية حرس الاستقلال السرية ومقاومة الاحتلال البريطاني للعراق .

ثورة العشرين / الاسباب الخارجية

- ١- تأثيرات الثورة العربية عام ١٩١٦م في الحجاز بقيادة ملكها الشريف حسين بن علي واتضح زيف الوعود البريطانية بمنح العرب الحرية والاستقلال التام .
 - ٢- تأثيرات الثورة المصرية عام ١٩١٩م في تأجيج الشعور الوطني للجماهير العراقية وتأكيدها بان الثورة هي الاسلوب الامثل لنيل الاستقلال وتحرير البلاد.
 - ٣- قيام الدولة الملكية في سوريا في تموز ١٩٢٠م برئاسة الامير فيصل بن الحسين.
 - ٤- الوعود التي اطلقها المستعمرون المنتصرون في الحرب العالمية الأولى، التي اكادوا فيها على منح الحرية والاستقلال للشعوب ، وحققها في تقرير المصير واقامة حكومات مستقلة فيها وهي :
- أ- اعلان الجنرال مود قائد الجيش البريطاني الذي احتل بغداد عام ١٩١٧م بانهم جاءوا محررين لا فاتحين .

- ب- مبادئ الرئيس الامريكي وودرو ولسون التي اعلنت يوم ٨ كانون الثاني ١٩١٨م التي أكدت على حق الشعوب في تقرير المصير ولاسيما الشعوب الخاضعة لدولة العثمانية .

س/ ما الوجود التي اطلقها المستعمرون في حق الشعوب بالتححر والاستقلال واخلفوا بها وكانت سبب

من اسباب قيام ثورة العشرين في العراق ؟ **الجواب السابق (أ - ب) . ١١١**

وقائع الثورة (٣٠ حزيران ١٩٢٠ م)

اولاً : الاحداث التي مهدت للثورة والتي جرت في مدن بغداد وكرلاء والنجف الاشرف وتلعفر والموصل .

ثانياً : تتمثل بالثورة المسلحة التي انطلقت في ٣٠ حزيران ١٩٢٠م بأطلاق عشيرة الطوالم صراح شيخها شعلان ابو الجون الذي اعتقله البريطانيون في السراي (مخفر الرميته ثم عمت منطقة الفرات الاوسط)

ثالثاً : تتمثل في الانتشار في مناطق العراق الاخرى مثل محافظة الانبار وكردستان العراق والتي كان لها دور فاعل في الثورة ، لقد امتدت الثورة من جنوب العراق حتى شماله واستمرت خمسة اشهر ابدى بها العراقيون بطولات فائقة وتضحيات تستحق الفخر والاعجاب رغم التباين الواضح في العدة والعدد ، اذا قاتل ابناء العشائر الفلاحين بالأسلحة البسيطة والقديمة (الفاله والمكوار) اما اسلحة القوات البريطانية من المدافع والقنابل الا ان السلاح الحقيقي لأبناء البلاد المحتلة كان تصميمهم على الاستقلال وما يمتلكوه من اراده والعزيمة التي لا تقهر ابد.

شعلان ابو الجون : وهو احد الشخصيات الوطنية وشيخ عشيرة الطوالم الذي اعتقله البريطانيون في الرميته وكان اعتقاله الشرارة التي اشعلت نيران ثورة العشرين في العراق .

فراغ / امتد لهيب الثورة من شمال العراق الى جنوبه واستمرت **خمسة اشهر .**

اهم المعارك التي شهدتها الثورة

استولى الثوار على ابي صخير والشامية والديوانية وسيطروا على مدن كربلاء والنجف الاشرف ، واهم تلك المعارك التي وقت بين البريطانيين والثوار في منطقة الرستمية والتي تقع بين الحلة والكفل جرت بينهما (**معركة الرانجية**) التي انتصر فيها الثوار على القوات البريطانية وكبدوهم خسائر كبيرة على الرغم من الاسلحة البسيطة التي كان يمتلكها الثوار ، ثم سرعان ما امتدت شرارة الثورة الى مناطق اخرى كالسماوة وكذلك مدينة الدغارة كما امتد لهيب الثورة الى مناطق جديدة في البلاد ولاسيما مناطق المنتفك كقلعة سكر والشرطة وسوق الشيوخ فضلا عن امتدادها الى مدن اخرى كديالي وغرب الانبار .

معركة الرستمية او معركة الرارنجية : وهي المعركة التي حدثت بين الثوار العراقيين وبين القوات البريطانية اثناء ثورة العشرين بين الحلة والكفل والتي انتصر فيها الثوار على القوات البريطانية وكبدوهم خسائر كبيرة بالأرواح والمعدات .

فاير فلاين : وهي الباخرة البريطانية التي جاءت الى الكوفة لمساعدة القوات البريطانية المحاصرة فيها والتي اغرقها الثوار في المدفع الذي غنموه من البريطانيين اثناء معركة الرارنجية .

س/ عدد نتائج معركة الرارنجية ؟

الجواب

- انتصار الثوار على القوات البريطانية
- خسائر كبيرة في صفوف القوات البريطانية من القتلى
- استيلاء الثوار على عدد من الغنائم والاعتدة
- غنموا مدفعا متطورا وقاموا بسحبه الى مدينة الكفل

س/ بماذا تكمن اهمية معركة الرارنجية ؟

الجواب

تكمن اهمية هذه المعركة فضلا عن الخسائر البشرية والغنائم التي حصل عليها الثوار ، الا انها اثارت الحماس بين رجال العشائر في الانضمام للثورة لتعلن انضمامها في القتال الى جانب الثوار .

مناطق المنتفك :- وهي المناطق في جنوب العراق والتي امتد لها لهيب ثورة العشرين وتشمل قلعة سكر والشطرة وسوق الشيوخ .

١ الثورة في ديالى

امتدت الثورة الى مدن ديالى وقصباتها ولاسيما بعقوبة و ديلتاوه (الخالص) ومندلي وشهران (المقدادية) وسيطرت عشائر العبيد على بلدة بعقوبة وشهران بعد ان قتلوا الحاكم البريطاني فيها .

٢ الثورة في غربي العراق

امتدت الثورة في المناطق الغربية من العراق ولاسيما لواء الدليم (محافظة الانبار حاليا) و سطر رجالها صورا من البطولات فقد كان الشيخ ضاري المحمود رئيس قبيلة زوبع على رأس الثائرين والذي رفض اثناء مقابلته مع الكولونيل (لجمن) حاكم لواء الدليم في خان النقطة بتاريخ (١٢ اب ١٩٢٠) بتنفيذ طلبه بحماية الطريق بين بغداد والرمادي مما ادى الى غضب **لجمن** واهانتة الشيخ ضاري المحمود الامر الذي

دفع ولدية خميس سليمان الى قتل **لجمن** ، ثم امتدت الثورة لتشمل مناطق من الفلوجة الى عنه وحتى اخر نقطة على الحدود العراقية - السورية فدارت معارك كبيرة ادت الى قطع الطريق بين بغداد والرمادي مما ادى الى قيام الحكومة البريطانية بإرسال ثلاث بواخر لإنقاذ قواتها المحاصرة وقد هاجمها الثوار في ١٥ اب واستطاعوا من اضرار النار بوحدة وعطلوا الاخرى .

ضاري المحمود : وهو احد الشخصيات الوطنية وشيخ قبيلة زوبع وحاكم لواء الدليم الذي كان على رأس الثائرين في محافظة الانبار ضد الاحتلال البريطاني .

لجمن : وهو الجنرال البريطاني وحاكم لواء الدليم (محافظة الانبار حاليا) الذي قتل على يد ابناء الشيخ ضاري المحمود بعد ان اساء الى الشيخ ضاري المحمود.

س/ ماهو سبب قيام الثورة في غربي العراق في لواء الدليم ؟

الجواب هو رفض الشيخ ضاري تكليف لجمن له بحماية الطريق بين بغداد والرمادي مما ادى الى غضب لجمن واهانتة لشيخ ضاري الامر الذي دفع ولدية خميس و سليمان الى قتله

٣ الثورة في كردستان العراق

كان للکرد دور بارز في احداث الثورة ففي **الكفري** منع فلاحو المدينة وصول الامدادات العسكرية البريطانية الى القوات الموجودة هناك كما قاموا بأنزال العلم البريطاني معلنين انتهاء الحكم البريطاني واقامة حكومة كردية مؤقتة فيها .

اما في اربيل فقد قام الثوار بقطع الاتصال بين مدينتهم ومدينة **كويسنجق** تمهيدا لإقامة حكومة مستقلة محلية فيها

كما امتدت الثورة الى مناطق **خوشناو و راوندوز** دارت فيها معارك عديدة تكبدت فيها القوات البريطانية خسائر كبيرة ومن بين تلك المعارك المعركة التي جرت بالقرب من رافد الزاب الكبير في (١٥ ايلول) .

معركة الزاب الكبير : وهي المعركة التي حدثت بين القوات البريطانية والثوار العراقيين قرب رافد الزاب الكبير في ١٥ ايلول وتكبدت فيها القوات البريطانية خسائر كبيرة .

صحافة الثورة

رأى بعض رجال الثورة من النخبة المثقفة ان تكون للثورة صحافة ناطقه باسمها تنقل اخبارها ووقائع معارك رجالها مع قوات الاحتلال البريطاني فأسس لأجل ذلك جريدتين هما **↓↓**

١- **جريدة الفرات** اسسها الشيخ محمد باقر الشيببي اذ صدر عددها الأول في ٥ / ٩ / ١٩٢٠م

واستمر بالصدور لغاية العدد الخامس ثم توقفت في ١٥ ايلول ١٩٢٠م

٢- **جريدة الاستقلال** اسسها محمد عبد الحسين الكاظمي في ١ تشرين الاول ١٩٢٠م وقد صدرت منها

ثمانية اعداد ثم توقفت

س/ ما هي المهمة التي أوكلت بها الجريدتين، أو ماهي الوظائف التي قامت بها الصحافة في ثورة العشرين ؟

الجواب

نشر وقائع واحداث المعارك في مناطق العراق المختلفة ➤ الرد على المناشير التي كانت تطلقها الطائرات البريطانية على المدن الثائرة ➤ تصدر مناشير تثير الحماس لدى الثوار والمقاتلين وترفع معنوياتهم ➤ اصدرت منشورات توجيهية تحمل تعليمات قادة الثورة الى الثوار ➤ نشر التقارير الحربية من ارض المعركة لبيان الموقف الحربي واخبار الانتصارات والغنائم التي يغنمها **الثوار من قوات الاحتلال** .

مميزات ثورة العشرين

١- وحدت كلمة العراقيين من الجنوب الى الشمال واكدت عملياً قيمة اتحادهم في تحقيق هدف

الحرية والاستقلال

٢- كشفت الثورة عن نضج سياسي وطني من خلال بياناتها ومراسلاتها وحتى ادارتها

٣- لم يغفل الثوار اهمية العمل السياسي قبل بدء الثورة والذي تمثل برفع المذكرات التي تؤكد

اهدافهم والوفود التي شكلوها للتفاوض مع المحتل .

٤- انتهت الحرب عسكريا بالنصر لقوات الاحتلال البريطاني ، الا انها بالمقابل نجحت سياسيا

لصالح الثوار .

س / كشفت الثورة عن نضج سياسي وطني من خلال بياناتها ومراسلاتها وحتى ادارتها ، ناقش ذلك ؟

الجواب

وتجسد ذلك من خلال ادارتها في اعادة تنظيم المدن والمناطق التي حرروها من قوات الاحتلال البريطاني فضلا عن تأسيسهم عدد من المجالس الشعبية لأداره تلك المدن والمناطق .

س/ انتهت الحرب عسكريا بالنصر لقوات الاحتلال البريطاني ، الا انها بالمقابل نجحت سياسيا لصالح

الثوار ، بين ذلك ؟

الجواب وذلك عندما اجبرت بريطانيا على ضرورة تغيير سياستها في العراق ، ولاسيما بعد عقد مؤتمر القاهرة في اذار ١٩٢١م والمناداة بفيصل بن الحسين ملكا على العراق ، واقامة حكومة ملكية دستورية .

نتائج ثورة العشرين

- ١- تعد ثورة العشرين احد اهم الاسباب الرئيسية في تأسيس الدولة العراقية الحديثة .
- ٢- لقد اثبتت عمليا فشل الادارة البريطانية من خلال سيطرتها المباشرة على البلاد على الرغم من اسلحتها الحديثة والمتطورة .
- ٣- اثبتت اهمية التلاحم والوحدة الوطنية في مواجهة المحن والصعاب بين ابناء الشعب العراقي
- ٤- اثبتت وحدة الشعب بكل فئاته وقومياته ومذاهبه .
- ٥- كشفت الثورة عن نضج سياسي ووطني عبرت عنه الصحافة الناطقة باسم الثورة .
- ٦- اضعفت الثورة الى حد كبير مركز بريطانيا بوصفها دولة محتله في منطقة الشرق الادنى .
- ٧- اصبحت هذه الثورة نبراسا لجميع الثورات الوطنية والقومية في البلدان العربية فيما بعد.
- ٨- على الرغم من تمكن قوات الاحتلال من اعادة احتلال المدن والمناطق التي حررها الثوار الا انهم اعترفوا بقوة الثورة .

علل / تمكنت قوات الاحتلال من اعادة احتلال المدن والمناطق التي حررها الثوار ؟

الجواب بفضل قواتهم الحربية وجيوشهم المتطورة من حيث العدد والعدد

مادة اثرائية

س/ ماذا قال هالدين عن ثورة العشرين في العراق ، وماذا قال عن شعلان ابو الجون ؟

الجواب

عن ثورة العشرين (من الواضح ان عقولا بارعة كانت تدبر حركتهم انها عقول تعرف جيدا استعمال البندقية وتعرف نقاط الضعف في جيوشنا الحديثة)

عن شعلان ابو الجون (اهنك وبارك لك يا شعلان انت قائد وانا قائد ، انا اقود الجيش وانا خلفه . وانت تقود الجيش وانت امامه ، وانا قائد مأجور بدراهم معدودة ، وانت قائد تعطي من مالك الخاص للثورة)

هالدين : وهو القائد العسكري البريطاني الذي كتب عن ثورة العشرين بالتفصيل وكان له مقوله مشهورة بحق الثورة وقائدها شعلان ابو الجون .

الاختبار الرابع

اختبار الشهر الاول بعد نصف السنة

س١/ عرف المصطلحات الاتية

(٢٠ درجة)

١- ستانلي مود ٢- محمد سعيد الحبوبى ٣- سمطس ٤- (٣٠ حزيران ١٩٢٠) ٥- لجمن

س٢/ أ / علل ما يأتي

(١٦ درجة)

١- من اسباب قيام ثورة العشرين تدهور الاقتصاد العراقي ؟

٢- هزيمة القوات العثمانية بقيادة سليمان العسكري امام بريطانيا وانسحابهم الى الناصرية

٣- دعت بريطانيا عام ١٨٥٧م الى مد سكة حديد الفرت ؟

٤- بدأ التوسع الاوربي باتجاه الشرق خلال القرن السادس عشر ؟

ب / وضح سبب تراجع القوات البريطانية الى منطقة الكوت بعد سلسلة من المعارك مع قوات الدولة العثمانية بقيادة القائد نور الدين ؟

(٤ درجات)

س٣/ أ / عدد بنقاط اهمية معركة الشعيبة ؟

(١٦ درجة)

ب/ ناقش العبارة الاتية

(كانت طبيعة السياسة التي اتبعتها بريطانيا في حكم العراق السبب المباشر في اندلاع ثورة العشرين)

(٤ درجات)

س٤/ أ / املاء الفراغات الاتية بما يناسبها وبدقة

(١٥ درجة)

١- ان مجموع ما صدر عن جريدتي الفرات والاستقلال خلال ثورة العشرين بلغ

٢- في ٣١ تشرين الاول عام ١٩١٨م اعلنت الهدنة التي اطلق عليها بهدنة بين دول الوفاق ودول الوسط

٣- من الامتيازات التي منحتها الدولة العثمانية للانكليز عام ١٦٠٤م هي تحديد الرسوم على البضائع الانكليزية ب

..... فقط من ثمن البضاعة

ب / كيف قسم مؤتمر سان ريمو الانتدابات بين دول الحلفاء ؟.

(٥ درجات)

س٥ / أ / عدد خمسا من اهم نتائج ثورة العشرين في العراق ؟

(١٥ درجة)

ب/ بين اهم الرحلات الاستطلاعية التي ارسلتها بريطانيا لمعرفة مدى صلاحية نهري دجلة والفرات للملاحة

النهرية . عددها فقط

(٥ درجات)

نشأة الدولة العراقية المعاصرة

١ مؤتمر القاهرة

تعريفه : وهو المؤتمر الذي عقد في مدينة القاهرة في ١٢ اذار ١٩٢١م والذي دعا اليه (ونستون تشرشل) وزير المستعمرات البريطاني، والذي تم فيه التباحث حول مستقبل بريطانيا وتواجدها في الشرق الاوسط وترشيح الأمير فيصل بن الحسن ملكاً على عرش العراق والعلاقات العراقية البريطانية.

س ما اهم ما تضمنه البلاغ البريطاني الفرنسي في (٧ تشرين الثاني ١٩١٨م) ؟

الجواب

على أن هدف الدولتين في فرض سيطرتها هو تحرير الشعوب التي خضعت تحت الحكم العثماني ومساعدتها على تأسيس حكومات وطنية ديمقراطية في كل من سوريا والعراق تستمد شرعيتها من اختيار الشعب لها.

س/ ما الاسباب التي دفعت بريطانيا الى اختيار فيصل بن الحسين ملكاً على العراق ؟

س/ وضح اسباب توجه الأنظار نحو شخصية الامير فيصل بن الحسين لتولي عرش العراق ؟

الجواب

١- ان الامير فيصل بن الحسين من الشخصيات المعروفة والمناسبة لإدارة دولة عربية حديثة بالاعتماد على المساعدة الاجنبية لاستمرار بقائها .

٢- ان شخصية الامير فيصل بن الحسين معروفة ومقبولة في العراق لأنه حارب مع الضباط العراقيين في الثورة العربية الكبرى ١٩١٦م في الحجاز بقيادة الشريف حسين .

٣- تحسين سمعة بريطانيا ولاسيما بعدما نقضت وعودها وعهودها مع العرب لمساعدتهم على نيل الحرية والاستقلال الذي تجسد عمليا في اتفاقية سايكس بيكو ودورها في عقد وعد بلفور ١٩١٧م لتقسيم فلسطين .

٤- اسقطت فرنسا حكومة الامير فيصل بن الحسين في سوريا عام ١٩٢٠م في معركة ميسلون الذي كان العراقيون العمود الفقري لها

٥- كان الأمير فيصل بن الحسين بمستوى مقبول اكثر مقارنة بالمرشحين الآخرين للعرش

فيصل بن الحسين : وهو احد انجال الشريف حسين قائد الثورة العربية الكبرى في الحجاز ١٩١٦م الذي قاتل الى جانب الضباط العراقيين وتم ترشيحه ملكاً على العراق .

معركة ميسلون : وهي المعركة التي حدثت بين القوات العربية في سوريا والقوات الفرنسية عام ١٩٢٠م والتي استطاعت من اسقاط حكومة الملك فيصل في سوريا واحتلالها .

كور نو اليس : وهو الممثل البريطاني الذي ارسلته بريطانيا للتباحث مع الأمير فيصل بن الحسين من اجل عرض عرش العراق عليه في ١٧ كانون الأول ١٩٢٠م

ونستون تشرشل : وهو وزير المستعمرات البريطاني الذي دعا الى عقد مؤتمر في القاهرة من اجل بحث الوجود البريطاني في الشرق الأوسط والعراق وترشيح فيصل بن الحسين ملك للعراق

برسي كوكس : وهو المندوب السامي البريطاني الذي عمل على مساعدة الشخصيات العراقية على تشكل حكومة عراقية برئاسة الامير فيصل بن الحسين واكد ذلك من خلال حضور مؤتمر القاهرة .

علل / عملت بريطانيا على تشكيل قوات مسلحة وطنية في العراق ؟

الجواب وذلك من اجل تقليص نفقات الوجود العسكري البريطاني فيه .

فراغ بعد عقد مؤتمر القاهرة الذي تقرر فيه ترشيح الامير فيصل بن الحسين ملكاً على العراق وصل والامير فيصل الى ميناء البصرة في ٢٣ حزيران ١٩٢١م وتم استقباله استقبالا حاراً في جميع مدن العراق .

علل / ان شخصية الامير فيصل مقبولة ومعروفة في العراق ؟

الجواب لأنه حارب مع الضباط العراقيين في الثورة العربية الكبرى عام ١٩١٦م في الحجاز بقيادة الشريف

حسين

٢ الحكومة العراقية المؤقتة واختيار الامير فيصل بن الحسين ملكاً دستورياً

الخطوات التي سبقت تشكيل الحكومة العراقية المؤقتة واهم العوامل التي ساعدت على تشكيله

❖ من نتائج ثورة العشرين في العراق هي خروج بريطانيا وهي متأكدة ان سياسة القمع والتشدد

وتجاهل مطالب الشعب في تأسيس حكومة وطنية التي اتبعتها مع العراقيين والمتمثلة بالسير ارنولد

ويلسون نائب الحاكم الملكي في العراق فاشلة ولا بد من تغييرها

❖ وصول (برسي كوكس) الى العراق لتولي منصب الحاكم الملكي العام في العراق واكد فور وصوله

ان بريطانيا عازمة على تشكيل حكومة وطنية تحت اشراف بريطانيا .

❖ بعد مداوولات ومشاورات بينه وبين الشخصيات العراقية تم اختيار (عبد الرحمن النقيب) الكيلاني نقيب اشرف بغداد لتولي رئاسة الحكومة العراقية المؤقتة .

❖ في ١١ تموز ١٩٢١م دعا السيد عبد الرحمن النقيب رئيس الوزراء الى اجتماع المجلس اذ اتخذ قرار بالأجماع بمناداة الأمير فيصل بن الحسين ملكا على العراق و ان تكون حكومته (دستورية نيابية ديمقراطية مقيدة بقانون) فضلا عن اجراء استفتاء عام في البلاد لمعرفة رأي الشعب وكانت نتيجة الاستفتاء ٩٦% لصالح الامير فيصل

❖ توج الامير فيصل بن الحسين ملكاً على العراق في ٢٣ آب ١٩٢١م وقد اقيم احتفال كبير حضره كبار المسؤولين البريطانيين واعضاء الحكومة المؤقتة وشيوخ العشائر ووجهاء المدن و اقيم الاحتفال بساحة برج الساعة في القشلة ، القى فيها الملك فيصل كلمته وشكر الشعب الذي انتخبه ومنحه الثقة ووعدهم في السعي لبناء البلاد وتطويرها .

عبد الرحمن النقيب (الكيلاني) : وهو نقيب اشرف بغداد الذي وقع عليه الاختيار في تشكيل أول حكومة عراقية مؤقتة بعد الاحتلال البريطاني للعراق في ٢٥ تشرين الاول ١٩٢٠م .

س/ ماذا تضمنت تشكيلة الحكومة العراقية المؤقتة ؟

الجواب السيد عبد الرحمن النقيب اشرف بغداد تولى رئاسة الحكومة العراقية المؤقتة ومعه ثمانية من الوزراء ومع كل وزير مستشار بريطاني مع اثني عشرة وزيرا بلا وزارة ، اقتصرت اعمال الحكومة من الناحية الادارية على انشاء الدواوين الرسمية واشغال الوظائف الحكومية وقسمت العراق اداريا الى عشرة لوية ، والالوية الى اقصية ، والاقضية الى نواحي ، وعينت لكل لواء متصرفا وجعلت الى جانبه مستشارا بريطانيا ، كما جعلت لكل قضاء قائمقام وعلى كل ناحية مديرا .

س / ماذا اشترطت الحكومة العراقية المؤقتة برئاسة عبد الرحمن النقيب على حكومة الملك فيصل ؟

الجواب ان تكون حكومته (دستورية نيابية ديمقراطية مقيدة بالقانون) فضلا عن اجراء استفتاء عام في البلاد لمعرفة رأي الشعب وكانت نتيجة الاستفتاء ٩٦% لصالح الامير فيصل .

فراغ / توج الامير فيصل ملكا على العراق في ٢٣ اب ١٩٢١م وقد اقيم احتفال كبير لتتويجه .

س/ ما المهام التي واجهت الملك فيصل بعد تتويجه ملكاً على العراق ؟

الجواب

١- انتهاء الانتداب البريطاني على العراق ، وتخليصه من السيطرة الاجنبية البريطانية واقامة حكم وطني من ابنائه وبشكل تدريجي .

٢- الحفاظ على ولاية الموصل جزءاً لا يتجزأ من العراق والوقوف بوجه الخطر التركي المطالب بها آنذاك .

٣- تشكيل حكومة وطنية دستورية ، فضلا عن العمل على تطوير البلاد من النواحي الاقتصادية والاجتماعية وحتى الثقافية ، والعمل على توطيد الوحدة الوطنية بين ابناء البلاد كافة .

وعليه قدمت الحكومة العراقية المؤقتة استقالتها الى الملك لإنهاء مهمتها فوافق عليها واعاد تكليف رئيس الوزراء المستقيل عبد الرحمن النقيب لتشكيل حكومة دائمة . .

٣ المعاهدة العراقية - البريطانية الأولى عام ١٩٢٢م

كان على الملك فيصل بعد تتويجه القيام بمهام عدة أولها استنادا الى المفاوضات التي جرت معه في لندن قبل ترشيحه ، عقد معاهدة ولاء وتحالف بين الحكومتين العراقية والبريطانية .

سس/ ما الاسباب التي ادت الى رغبة العراق في عقد معاهدة مع بريطانيا عام ١٩٢٢م ؟

١. ان المعاهدة التي تعقد سوف تنظم العلاقات بين البلدين وانها ستحل محل الانتداب ، لأنها تعقد بين دولتين مستقلتين ومتكافئتين

٢. ان تحفظ للملك فيصل وحكومته جميع السلطات والمهام ، لأنها تؤمن له الظهور بمظهر الملك المستقل وان بريطانيا هي حليف له

س/ ما وجهة نظر العراق عن المعاهدة العراقية - البريطانية عام ١٩٢٢م ؟

الجواب/ السابق .

س/ ما وجهة نظر بريطانيا عن معاهدة ١٩٢٢ م ؟

الجواب

١. ارادت بريطانيا الحفاظ على جميع الامتيازات التي منحها لها صك الانتداب .

٢. ان تكون واسطه لتمرير الانتداب وتنفيذه بكل بنودة ، وضمان المصالح البريطانية فيه بوصفه دولة محتلة ، لكن باقل كلفة واقل خسائر مادية وبشرية مما لو كان حكمها مباشر عليه

٣. تمثل هذه المعاهدة وسيله للسيطرة والاشراف المباشر على البلاد . مع عدم تغيير في موقفها والتزاماتها امام عصبة الامم

علل ان المعاهدة التي تعقد سوف تنظم العلاقة بين البلدين وانها ستحل محل الانتداب

الجواب لأنها تعقد بين دولتين مستقلتين متكافئتين .

علل ان معاهدة ١٩٢٢ م تحفظ للملك فيصل وحكومته جميع السلطات والمهمات ؟

الجواب لأنها تؤمن له الظهور بمظهر الملك المستقل وان بريطانيا هي حليف له .

س / تميزت المفاوضات التي جرت بين العراق وبريطانيا بكونها صعبة ومعقدة ، ناقش ذلك ؟

الجواب لاختلاف وجهتي نظر الحكومتين حول بنود المعاهدة ، اذ كان موقف الحكومة العراقية و على رأسها الملك فيصل والشعب بكل فئاته ، التمسك برفض الانتداب البريطاني رفضاً قاطعاً ولا بد من اجراء التعديلات بما يضمن السيادة الوطنية الكاملة للعراق ، لذلك توقفت المفاوضات لأكثر من مرة وارسل قادة الحركات الوطنية برقيات الى الملك فيصل لرفض الانتداب والتمسك بالمطالب وعدم التنازل عنها ، وامام تلك الضغوطات قدمت الحكومة استقالتها التي قبلها الملك فيصل في ١٩ اب ١٩٢٢ م ، والذي وعدت الحركة الوطنية ضربة لأي حكومة تتفاوض مع بريطانيا .

س ما اجراءات بريطانيا في تمرير معاهدة ١٩٢٢ م والمصادقة عليها ؟

الجواب ان رغبة المندوب السامي البريطاني في ضرورة تمرير المعاهدة ، وتأسيس مجلس وطني يصادق عليها ، كانت بأعاده تشكيل حكومة ثالثة برئاسة عبد الرحمن النقيب اذا اوعز المندوب السامي البريطاني الى الملك فيصل باختيار النقيب لتشكيل الوزارة الجديدة فاضطر الملك للموافقة ودعا عبد الرحمن النقيب لتشكيل الحكومة في ٢ تشرين الاول ١٩٢٢م ثم مصادقة مجلس الوزراء على المعاهدة في ١٠ تشرين الاول ١٩٢٢م على ان تكون نافذة بعد مصادقة المجلس التأسيسي عليها .

س/ ماذا تضمنت نصوص او بنود المعاهدة العراقية - البريطانية - عام ١٩٢٢م ؟

الجواب / شملت المعاهدة على مقدمة وثمانين عشر مادة اهمها هو :

○ تعهد بريطانيا بتقديم المشورة والمساعدة الى العراق دون ان يمس ذلك بسيادته الوطنية .

- ان يقوم ملك العراق بالعمل على وضع قانون اساسي (دستور) للبلاد يعرض على المجلس التأسيسي العراقي للموافقة عليه .
- تتعهد بريطانيا بإدخال العراق في عضوية عصبة الأمم في اقرب وقت ممكن.
- ان تسري المعاهدة لمدة ٢٠ سنة ، أو تنتهي قبل ذلك بدخول العراق عصبة الأمم ...
- يعاد النظر في بنودها من وقت الى اخر ان رغب الجانبان العراقي والبريطاني بذلك .

٤ المجلس التأسيسي العراقي

س/ الى ماذا تعود فكرة تأسيس المجلس التأسيسي العراقي او المؤتمر العراقي ؟

الجواب تعود فكرته الى مقررات مؤتمر سان ريمو في ٢٥ نيسان ١٩٢٠

س/ ما مهام المؤتمر العراقي الذي طالب الوفد العراقي في بغداد بتأسيسه من ارنولد ولسون ؟

الجواب

١. تحديد مصير الحكم في البلاد وشكله

٢. نوع العلاقات الخارجية مع الدول الأخرى

٣. اطلاق الحريات العامة

٤. الغاء الاحكام العرفية

فراغ / تم البدء بانتخابات المجلس التأسيسي العراقي بتاريخ ١٠ تشرين الاول ١٩٢٢م.

علل / على الرغم من الرفض الشعبي للمعاهدة البريطانية العراقية الا ان الملك فيصل اضطر لتوقيعها والموافقة عليها؟

الجواب وذلك من اجل الحفاظ على وحدة العراق وكيانه السياسي من التهديدات البريطانية .

س/ ما الاجراءات التي قامت بها بريطانيا من اجل انهاء مقاطعة الشعب العراقي لانتخابات المجلس التأسيسي ؟

الجواب

١. اعفاء المندوب السامي البريطاني برسي كوكس وتعيين هنري دويس بدلا منه

٢. اعادة بعض المبعدين والمنفيين السياسيين من رجالات الحركة الوطنية وعلماء الدين الى العراق

قيام وزارة عبد المحسن السعدون في (٣٠ نيسان ١٩٢٣م) بتوقيع بروتوكول ملحق بالمعاهدة العراقية البريطانية ١٩٢٢م يقتضي بتقليص مدة المعاهدة من **عشرين سنة الى اربع سنوات** .

❌ قيام الملك فيصل بجولة في الوية العراق لاطلاع السياسيين وزعماء العشائر والشعب على تلك التطورات

❌ قيام الملك فيصل ببحث العراقيين على المشاركة في الانتخابات

هنري دوبس : وهو المندوب البريطاني السامي الذي تم تعيينه في العراق بدلا من برسي كوكس والذي عمل بكل الوسائل على تأسيس المجلس التأسيسي العراقي .

فراغ / تم اعادة اجراء الانتخابات بعد مقاطعتها بتاريخ ١٢ تموز ١٩٢٣م وتم افتتاح اول مجلس تأسيسي للعراق بتاريخ ٢٧ آذار ١٩٢٤م.

س/ ما المهام التي تم تحديدها للمجلس التأسيسي بعد افتتاحه ؟

الجواب

١. مناقشة المعاهدة العراقية - البريطانية عام ١٩٢٢م وتصديقها .

٢. تشريع القانون الاساسي (الدستور) لضمان حقوق الافراد وتثبيت سياسة الدولة الداخلية .

٣. تشريع قانون انتخابات مجلس النواب الذي يراقب سياسة الحكومة واعمالها .

علل / من الملاحظ عند تحديد مهام المجلس اعطى اولوية النظر في المعاهدة وتصديقها بدلا من مناقشة

تشريع الدستور البلاد اولاً ؟

الجواب لان البريطانيين سعو الى جعل الدستور مقيدا بالمعاهدة وبنودها ، وهذه كانت وسيلة لضغط على اعضاء المجلس التأسيسي .

س/ ماهي الضغوطات التي مارستها بريطانيا (المندوب السامي) على المجلس التأسيسي من اجل

تصديق المعاهدة ١٩٢٢م ؟

الجواب بعد الاعلان عن افتتاح المجلس التأسيسي تشكلت لجنة من (١٥) عضوا لتدقيق بنود المعاهدة

وجرت الاتصالات بين السياسيين والمثقفين والمندوب السامي ، تضمنت الرفض للمعاهدة ، وازاء تلك

المعارضة داخل المجلس وخارجه ، بعث المندوب السامي البريطاني انذارا الى الملك فيصل أوضح فيه ان

موعد الجلسة القادمة لمجلس العصبة يوم ١٢ حزيران ١٩٢٤م وان بريطانيا تعهدت بتقديم المعاهدة الى

المجلس قبل هذا اليوم ، مطالباً العصبة باتخاذ الاجراءات الكفيلة بتطبيق الانتداب البريطاني على العراق اذا

لم يصادق المجلس على المعاهدة قبل التاريخ المذكور ، واذا لم يتمكن الملك من تصديق المعاهدة فلابد من

حل المجلس التأسيسي ، وقبل اتخاذ القرار بحل المجلس استطاع رئيس الوزراء (جعفر العسكري من اقناع

(٦٩ عضوا) بحضور الجلسة التي عقدت يوم ١٠ حزيران بعد الساعة العاشرة مساءً وجرى التصويت على المعاهدة قبل الساعة الثانية عشر ليلاً بموافقة (٣٧ عضواً ومعارضة (٢٤ عضواً) وامتناع (٨) أعضاء عن التصويت، واشترط الذين صوتوا على المعاهدة بضرورة تعديل المعاهدة والبقاء على ولاية الموصل جزء من الأراضي العراقية .

س/ ماذا اشترط النواب العراقيين بعد المصادقة على المعاهدة البريطانية العراقية عام ١٩٢٢م ؟

الجواب اشترط الذين صوتوا على المعاهدة بضرورة تعديل المعاهدة والبقاء على ولاية الموصل جز من الأراضي العراقية

علل / يمثل افتتاح المجلس التأسيسي العراقي في ٢٧ اذار ١٩٢٤م حدثاً مهماً في تاريخ العراق السياسي ؟

الجواب وذلك لأنه اول مجلس منتخب في العراق ، واول توجه نحو الحياة النيابية في العراق .
جعفر العسكري: وهو احد الشخصيات الوطنية العراقية العسكرية ورئيس الوزراء العراقي الذي بذل جهود كبيرة من اجل المصادقة على المعاهدة العراقية البريطانية عام ١٩٢٢م.

٥ القانون الاساسي (الدستور)

تعريفه : وهو القانون الذي تم الاتفاق على وضعه من قبل الشعب العراقي قبل تأسيس الحكومة العراقية واشترط العراقيون وجميع حكوماتهم على وجوب وضع قانون ينظم الحياة السياسية والمدنية في العراق ويضمن وحدته واستقلاله وحق الشعب .

س/ ما التطورات التي مهدت واكدت على وضع (دستور) للعراق ؟

- تعهد بريطانيا في المادة الأولى من لائحة الانتداب البريطاني بان تضع في اقرب وقت لا يتجاوز ثلاث سنوات من تاريخ بدء الانتداب قانوناً أساسياً للعراق يعرض على مجلس العصبة للمصادقة عليه وبمشورة بريطانيا على ان يضمن الحقوق لجميع العراقيين الساكنين فيه .
- عند تتويج الملك فيصل بن الحسين ملكاً على العراق اشترط ان تكون حكومته (دستورية نيابية ديمقراطية مقيدة بقانون)
- المادة الثالثة من المعاهدة العراقية - البريطانية عام ١٩٢٢م موافقة ملك العراق على تنظيم قانون اساسي يعرض على المجلس التأسيسي شرط ان لا يخالف نصوص المعاهدة .

س / كيف تم وضع الدستور العراقي ومن قبل من وضع الدستور ،

الجواب شكلت لجنتان عراقية وبريطانية لوضع صيغة القانون الأساسي وبعدها احيلت اللائحة الى المجلس التأسيسي لمناقشتها بنحو شهر من (١٤ / حزيران - ١٠ تموز ١٩٢٤م) وقد تضمنت اللائحة مقدمة و ١٢٣ مادة موزعة على ١٠ ابواب اشتملت على حقوق الشعب - الملك وحقوقه - السلطة التشريعية - الوزارة وكيفية تأليفها وواجباتها - السلطة القضائية - الامور المالية - ادارة الالوية (المحافظات) قام المجلس بالمصادقة على الدستور في ٢٠ تموز ١٩٢٤م وجرت احتفالات وتم نشره في اذار ١٩٢٥م وضل نافذا حتى قيام ثورة ١٤ تموز ١٩٥٨م

س/ ما اهم ما جاء في مقدمة الدستور العراقي ؟

الجواب ان العراق دولة ذات سيادة مستقلة حرة ملكها لا يتجزأ ولا يتنازل عن أي شيء منه ، حكومته ملكية وراثية شكلها نيابي ، بغداد عاصمة العراق ، ويجوز اتخاذ عاصمة غيرها بقانون .

فراغ / تم المصادقة على قانون انتخابات المجلس التأسيسي بتاريخ ١٤ تموز ١٩٢٤م وبذلك انهى المجلس مهامه التي أوكلت اليه .

٦ المعاهدة العراقية - البريطانية لعام ١٩٣٠م

يمكن تلخيص ذلك بالنقاط التالية

- اخبرت بريطانيا الملك فيصل بانها عازمة على ادخال العراق في عضوية عصبة الأمم ، وعازمة فعلا على فتح باب المفاوضات مع العراق لعقد معاهدة جديدة .
- قامت الحكومة العراقية وعلى رأسها عبد المحسن السعدون بتشكيل وزارته الرابعة في اب ١٩٢٩م وتشكيل لجنة وزارية لمفاوضة الجانب البريطاني على المعاهدة الجديدة الا ان المفاوضات ومنذ بدايتها تلكأت لموقف الجانب البريطاني
- بعد مجيئ نوري السعيد رئيسا للوزراء في اذار ١٩٣٠م اعلن عن استئناف المفاوضات من جديد في نيسان ١٩٣٠م التي انتهت بتوقيع المعاهدة بين الحكومتين في ٣٠ حزيران ١٩٣٠م
- عبد المحسن السعدون :** وهو احد الشخصيات السياسية الذي اسس وزارته في اب ١٩٢٩م والذي فتح باب المفاوضات مع بريطانيا لعقد معاهدة جديدة تحل محل معاهدة ١٩٢٢م.

علل فشل المفاوضات التي افتتحها عبد المحسن السعدون مع بريطانيا لعقد معاهدة جديدة ؟

الجواب بسبب موقف الجانب البريطاني الذي كان لا يريد تغييرا اساسيا على الامتيازات السابقة التي تضمنتها معاهدة ١٩٢٢م.

علل اكدت بريطانيا على ان العراق يقبل باي ضغوطات من الجانب البريطاني من اجل الدخول في عصبة الامم؟

الجواب لان ترشيح العراق لعضوية عصبة الامم مرتبط بتوقيع المعاهدة الجديدة **نوري السعيد** : وهو احد الشخصيات العراقية الذي اصبح رئيسا للوزراء في ٢٣ اذار ١٩٣٠ وفتح باب المفاوضات مع بريطانيا لعقد معاهدة جديدة تحل محل معاهدة ١٩٣٠م في العراق .

فراغ / انتهت المفاوضات العراقية البريطانية بتوقيع المعاهدة بين الطرفين في ٣٠ حزيران ١٩٣٠م.

س/ ما الامتيازات التي حصلت عليها بريطانيا من معاهدة ١٩٣٠م بين العراق وبريطانيا ؟

الجواب

١. يقدم العراق المساعدات العسكرية الى بريطانيا في حال دخولها الحرب ، والتي تشمل السماح للقوات البريطانية بالمرور في اراضيها ، واستعمال سكك الحديد والانهار والموانئ والمطارات ووسائل المواصلات العراقية ، كما يقوم العراق بتأجير قواعد جوية الى القوات البريطانية بشروط سهلة
٢. منح بريطانيا امتيازات قضائية ومالية ودبلوماسية تشمل اعفاء القوات البريطانية في العراق من الضرائب فضلا عن تمتع الدبلوماسيين البريطانيين بالأفدية والافضلية في العراق .
٣. نصت المعاهدة على انها ستوضع موضع التنفيذ عند دخول العراق عضواً في عصبة الامم .
٤. ان تستمر لمدة خمسة وعشرون سنة بدءاً من دخولها حيز التنفيذ .

عرضت المعاهدة على مجلس النواب ، وقد صادق عليها بأغلبية (٦٩ نائباً) من مجموع (٨٨ نائباً) وبعد تصديقها ابلغت الحكومة البريطانية عصبة الامم عن رغبتها في ادخال العراق الى عضوية العصبة بوصفه دولة مستقلة .

س/ قوبلت معاهدة ٣٠ حزيران ١٩٣٠ بين العراق وبريطانيا بمعارضة شعبية واسعة ، ناقش ذلك ؟

الجواب قوبلت المعاهدة بمعارضة شعبية واسعة ووصفت بانها ابدلت الانتداب الوقتي بالاحتلال الدائم ، وانها لا تتفق مع الاستقلال التام الذي يريده الشعب العراقي ، وكتبت الصحف العراقية عنها بان هذه المعاهدة لا يوجد فيها ما يميزها عن المعاهدة السابقة

٧ دخول العراق عضوية عصبة الأمم

ما الخطوات التي سبقت دخول العراق عصبة الامم

✚ بعد معاهدة ١٩٣٠ اصبح على بريطانيا الايفاء بالتزاماتها بترشيح العراق عضوية عصبة الامم .

✚ ابلغت بريطانيا مجلس العصبة بذلك

✚ احيل الطلب الى لجنة الانتدابات الدائمة

✚ طلبت لجنة الانتداب تقرير خاص عن تقدم العراق خلال مدة الانتداب (١٩٢٠ - ١٩٣٢) م

✚ ثم رفعت اللجنة تقريرها بعد الشرط والضمانات قررت ابلاغ مجلس العصبة برغبتها بدخول العراق

عصبة الأمم .

وبعد فحص التقرير في لجنة الانتدابات التي اكدت على ان العراق مستوف الشروط والضمانات الى حد بعيد

في ٢٨ كانون الثاني ١٩٣٢م قرأ رئيس لجنة الانتدابات في مجلس العصبة تقرير اللجنة وفي (٣ تشرين

الأول ١٩٣٢م) تم قبول العراق في عصبة الأمم والاعتراف به دولة مستقلة ،

اصبح العراق البلد العربي الوحيد الذي يدخل العصبة ، واصبح العراق يحمل الرقم (٥٧) فيها ، وتم

الاحتفال برفع العلم العراقي في مقر عصبة الامم في جنيف (سويسرا) وقد عين نوري السعيد ممثلا للعراق

فيها وعد أول مندوب عربي يدخل العصبة .

٣ تشرين الاول ١٩٣٢م : وهو اليوم الذي تم فيه قبول العراق في عضوية عصبة الأمم والاعتراف به دولة

مستقلة واصبح عيدا وطنيا لجميع العراقيين يحتفل فيه في كل عام .

س/ ما الشرط الواجب توفرها في اي دولة تريد انتهاء الانتداب ؟

الجواب

١. وجود حكومة مستقلة قادرة على تسير أمور الدولة بصورة منتظمة .

٢. ان تكون قادرة على حفظ وحدتها واستقلالها .

٣. ان تكون الدولة قادرة على حفظ الأمن في كل انحاءها .

٤. ان تكون لدى الدولة مصادر مالية كافية لسد النفقات الحكومية .

٥. ان تكون للدولة قوانين وتنظيم قضائي يضمن العدل للجميع على السواء

س/ ما الضمانات التي وضعتها عصبة الأمم على اية دولة ومنها العراق التي تريد ان تتحرر من الانتداب ؟

الجواب

١. حماية الاقليات القومية والدينية ومعاملتهم بشكل عادل
٢. حفظ المصالح والامتيازات الاجنبية . الا اذا وضع مجلس العصبة نظاما اخر بموافقة الدول .
٣. حفظ المصالح الاجنبية القضائية والمدنية والجنائية التي لا يشملها نظام الامتيازات الاجنبية .
٤. حفظ حرية الفكر والعبادة وممارسة الاعمال الدينية والتربوية والطبية من قبل الارسلات التبشيرية ، على أن لا تخل بالأمن العام والآداب والادارة.
٥. المحافظة على الالتزامات المالية التي اخذتها الدول المنتدبة السابقة
٦. الحفاظ على الحقوق المكتسبة في عهد الانتداب
٧. المحافظة على العهود الدولية العامة ، التي قطعتها الدولة المنتدبة بالنيابة عن الدولة المشمولة بالانتداب .

وفاة الملك فيصل الأول وتولى الملك غازي عرش العراق

نبذه مختصرة :

توفي الملك فيصل الاول مساء يوم (٧ ايلول ١٩٣٣م) في سويسرا بمرض انسداد الشرايين ، وبعد اعلان وفاته يوم (٨ ايلول) قدمت الحكومة ورئيس الوزراء والوزراء ومجلس الاعيان والنواب تعازيهم الى الملك غازي وعرضوا عليه عرش العراق وفقا للأصول الدستورية وباعتباره ولي للعهد وطلبوا منه اداء اليمين الدستوري وتم الاحتفال بتنصيب الملك غازي ملك على العراق باحتفال رسمي بذلك عندما اطلقت المدفعية مئة اطلاقه.

س/ تكلم بشكل مختصر عن حياة الملك غازي نبذه عن حياته ؟

الجواب

ولد في مكة المكرمة في ٢١ اذار ١٩١٢م وعاش في الحجاز في كنف جده الشريف حسين وصل الى بغداد في (٥ تشرين الثاني ١٩٢٤م) وبعد صدور القانون الاساسي للعراق اصبح وليا للعهد ، كان والده حريصا على تربيته تربية عربية وإعداده لولاية العهد ، درس في مدرسة (هارو) في بريطانيا ثم دخل مدرسة (الكلية العسكرية العراقية في بغداد) وكان يلقب بالشريف غازي بن فيصل كان مولعاً بالألعاب الرياضية

والفروسية وكان يتميز بشعوره الوطني ومعاداته للإنكليز، الذي اكسبه شعبية بين العراقيين ووجدوا فيه الشخص المناسب الذي يستطيع ان يتحدى الانكليز ويتصدى لهم .

فراغ / كان الملك غازي يلقب بـ **الشريف غازي بن فيصل** وكان يتميز بـ شعوره الوطني ومعاداته للإنكليز .

٧ ايلول ١٩٣٣م: وهو اليوم ا الذي توفي فيه المك فيصل الأول وهو اول ملك حكم العراق في العهد الملكي توفي بسبب انسداد في الشرايين في سويسرا .

مدرسة هارو : وهي احدى المدارس البريطانية الذي درس فيها الملك غازي قبل ان يصبح ملكاً على العراق وتلقى تعليمه الأول فيها .

وفاة الملك غازي

نبذه مختصرة :

اذيع البيان الرسمي الحكومي لوفاة الملك غازي في (٧ نيسان ١٩٣٩ م) وأشار الى أن سبب الوفاة هو اصطدام سيارته بعمود الكهرباء ، وعليه عقد مجلس الوزراء اجتماعا استثنائيا وتسلم وصية الملك الشخصية التي تركها مع زوجته بان يكون ابنه فيصل ولياً للعرش تحت وصاية ابن عمه عبد الاله بن علي اذا حدث له حادث وابنه صغير في العمر (٤ سنوات) وتقرر في الاجتماع وفقا للقانون الأساسي ان يكون فيصل الثاني ملكاً على عرش العراق تحت وصاية خالة عبد الاله

فراغ / اذيع البيان الرسمي الحكومي لوفاة الملك غازي في **٧ نيسان ١٩٣٩ م** وأشار الى أن سبب الوفاة هي اصطدام سيارته بعمود الكهرباء.

عبد الاله بن علي : وهو احد افراد العائلة الهاشمية المالكة وابن عم الملك غازي الذي تسلم الوصاية على الملك فيصل الثاني وهو صغير في السن

علل / اتهم الرأي العام في العراق بريطانيا بتدبير حادث مقتل الملك غازي ؟

الجواب بسبب موقفه المعادي من البداية لبريطانيا ، وما جسده مواقف الوطنية المعلنة منها ، مما اثار غضب بريطانيا وعدته خصما يجب ازاحته والقضاء عليه .

بيترس وهو السفير البريطاني في العراق الذي اكد على ان الملك غازي اصبح يشكل خطرا على المصالح البريطانية في العراق ويجب ازاحته والتخلص منه .

العراق والحرب العالمية الثانية

فراغ / اتسم الوضع السياسي في العراق قبيل الحرب العالمية الثانية **بعدم الاستقرار**.

س ما منهاج وزارة نوري السعيد التي اسسها قبيل الحرب العالمية الثانية في نيسان ١٩٣٩م؟

الجواب اجراء التعديلات على الدستور وتطوير الجيش واتباع سياسة خارجية تتفق مع امانى الشعب العراقي وتطلعاته ولاسيما التحالف مع بريطانيا العظمى .

فراغ / بدأت الحرب العالمية الثانية عندما اعلنت **بريطانيا الحرب على المانيا**.

س/ ما اثار الحرب العالمية الثانية على الوضع الداخلي في العراق ؟

الجواب ساءت الأوضاع التجارية والمالية واصبحت غير مستقرة ، ولاسيما مع احتكار المواد الغذائية - وارتفاع الاسعار - وايفاف الودائع في البنوك - وقرار وزارة الداخلية العراقية بفرض الرقابة على المطبوعات والصحف والاعلام .

س/ وضح اثار الحرب العالمية الثانية على علاقات العراق الخارجية ؟

الجواب اعلن العراق قطع علاقاته الدبلوماسية مع المانيا في ايلول ١٩٣٩م ، وتسفير جميع الرعايا الألمان خارج البلاد ، وارسل الوصي عبد الله رسالة الى ملك بريطانيا يبلغه فيها التزام العراق بمعاهدة التحالف العراقية البريطانية لعام ١٩٣٠م وبما جاء فيها .

س/ كيف كانت سياسة نوري السعيد اتجاه بريطانيا اثناء الحرب العالمية الثانية ؟

الجواب قرر السماح للقوات البريطانية المرور والتحشد في العراق ، فضلا عن ارسال قوة عسكرية للقتال مع القوات البريطانية ، وقطع العلاقات السياسية مع الدول المعادية لبريطانيا .

العقداء الاربعة : وهم ابرز قادة الجيش العراقي الوطنيين الذين عارضوا سياسة نوري السعيد اثناء الحرب العالمية الثانية وعدم زج الجيش العراقي في الحرب الى جانب بريطانيا .

صلاح الدين الصباغ - محمود سلمان - فهمي سعيد - كامل شبيب : وهو احد ضباط الجيش العراقي والعقداء الاربعة الذين رفضوا زج الجيش العراقي في الحرب الى جانب بريطانيا في الحرب العالمية الثانية.

رشيد عالي الكيلاني: وهو احد الشخصيات الوطنية العراقية الذي تم اختياره لتشكيل الحكومة بعد استقالة وزارة نوري السعيد في العراق اثناء الحرب العالمية الثانية آذار ١٩٤٠م.

س / عدد بنقاط المناج الذي اتبعته وزارة رشيد عالي الكيلاني اثناء الحرب العالمية الثانية ؟

الجواب

- ١- الالتزام بما جاء بالمعاهدة العراقية البريطانية عام ١٩٣٠م وعدم الاستجابة لمطالب بريطانيا التي تخرج عن نصوص المعاهدة باستثناء التي تكون في مصلحة الطرفين المشتركة
- ٢- امكانية حصول الجيش العراقي على السلاح من اي مصدر كان .
- ٣- اجراء انتخابات جديدة للمجلس النيابي .

س/ شهدت اوربا تطورات كبيرة خلال الحرب العالمية الثانية ، بينها بإيجاز ؟

الجواب

- ✚ انهيار فرنسا امام المانيا .
- ✚ دخول ايطاليا الحرب الى جانب المانيا .
- ✚ ابلاغ السفير البريطاني الحكومة العراقية بوجوب قطع العلاقات مع ايطاليا .
- ✚ قطع علاقات العراق مع المانيا.

س/ كيف كان موقف الحكومة العراقية ازاء طلب بريطانيا بقطع علاقتها مع ايطاليا ؟

الجواب عقد مجلس الوزراء اجتماع لدراسة الطلب ترأسه الوصي عبد الاله ، وجاء فيه تمسك الحكومة العراقية ببنود معاهدة ١٩٣٠ الا انها تتريث في قطع علاقتها الدبلوماسية مع ايطاليا مما ادى الى انقسام الحكومة العراقية بين مؤيد ومعارض ، اذ ساءت العلاقة بين الوصي ورئيس حكومته ، فأشارت بريطانيا بضرورة اقالة وزارة رشيد عالي الكيلاني وتكليف طه الهاشمي بتشكيل الحكومة الجديدة في نيسان ١٩٤١م.

طه الهاشمي : وهو احد الشخصيات السياسية العراقية الذي تم اختياره لتشكيل الحكومة العراقية بعد استقالة حكومة رشيد عالي الكيلاني بسبب هروب الوصي الى الديوانية

فراغ / سبب هرب الوصي عبد الاله الى الديوانية فراغ دستوري في البلاد.

قررت بريطانيا تشتيت شمل العقداء الرابعة بنقلهم الى اماكن بعيدة مما ادى الى استقالة الحكومة وهروب الوصي هذه المرة الى البصرة مما تسبب بفراغ دستوري للبلاد

١ حكومة الدفاع الوطني

تعريفها : وهي الحكومة الوطنية التي تم تأسيسها في العراق برئاسة رشيد عالي الكيلاني ومعه القادة العسكريين بعد هرب الوصي عبد الله الى البصرة واكدت في برنامجها على ابعاد العراق عن ويلات الحرب واطارها والعمل على استقلال البلاد واداء رسالته القومية .

س/ ما المنهاج الذي اعلنته حكومة الدفاع الوطني بعد تشكيلها ؟

الجواب : ابعاد العراق عن ويلات الحرب واطارها والعمل على استقلال البلاد واداء رسالته القومية والحفاظ على التعهدات الدولية وتقوية الروابط مع البلدان العربية المجاورة .

س/ بين موقف الحركة الوطنية والشعب العراقي من حكومة الدفاع الوطني ؟

الجواب : قوبل اعلان تشكيل حكومة الدفاع الوطني في العراق بالتأييد والمساندة الشعبية ، اذا خرجت الجماهير تهتف ضد الانكليز واعوانهم في البلاد ورفعت شعارات مؤيدة ومساندة لهذه الحكومة .

س/ ما الآراء التي ظهرت لمعالجة الازمة الدستورية التي خلفها هرب الوصي في العراق ؟

الجواب : ظهرت مجموعة من آراء منها

الاول : اقترح بعضهم الغاء النظام الملكي واعلان النظام الجمهوري .

الثاني : البعض الآخر اقترح البقاء على الحكم ملكي واختيار وصي جديد على عرش العراق .

الشريف شرف : وهو من العائلة الهاشمية المالكة الذي تم اختياره وصي جديد على العراق بعد هرب الوصي عبد الله .

فراغ / عقد مجلس الامة النواب والاعيان جلسته في ١٠ نيسان ١٩٤١ م وقرروا بالأجماع عزل الوصي

عبد الله وتعيين الشريف شرف بدلا منه ، واول عمل قام به الشريف شرف هو قبول استقالة الهاشمي

وتكليف رشيد عالي الكيلاني بتأليف الوزارة، وانتهمت مهمة حكومة الدفاع الوطني

٢ العدوان البريطاني على العراق

يمكن تلخيص ذلك بالتالي :

▪ شكل الكيلاني الوزارة الجديدة في ١٢ نيسان ١٩٤١م واعلن التزام حكومته بتعهداتها الدولية لكن

بريطانيا عدتها حكومة غير شرعية ولم تعترف بها رسميا .

▪ بدأت بريطانيا بالضغط على العراق لإنزال قواتها في البصرة ، فوافقت الحكومة العراقية شرط تسريع نقلها الى الرطبة وعدم اقامة معسكرات دائمة في الاراضي العراقية ، فعدتها بريطانيا خروجاً عن نصوص معاهدة ١٩٣٠م وهددت باستعمال القوة .

▪ انزلت بريطانيا في (٢٩ نيسان) لواءً مدرعا احتل منطقة الميناء في البصرة ومشروع الكهرباء وقيامها بتفسير الرعايا البريطانيين الى الحبانية ومنها الى خارج العراق ، وجمع الباقين داخل السفارة البريطانية .

▪ احتجت الحكومة العراقية على اجراءات بريطانيا العدائية واتخذت بعض التدابير الاحتياطية لسلامة البلاد واقامة قوة عسكرية في الحبانية

س/ ماذا اشتترطت الحكومة العراقية (رشيد عالي الكيلاني) على القوات البريطانية اثناء الحرب العالمية الثانية؟

الجواب تسريع نقلها الى الرطبة وعدم اقامة معسكرات دائمة في الأراضي العراقية.

س/ ما القرارات التي اتخذها مجلس الوزراء العراقي عقب دخول القوات البريطانية العراق في ٢ ايار ١٩٤١م؟

الجواب

١- ارسال احتجاج الى السفارة البريطانية على اعتداء القوات الجوية البريطانية في الحبانية على القوات العراقية ، وتحميل بريطانيا ما يحدث من نتائج .

٢- طلب قدم ممثل سياسي الماني الى بغداد بأسرع ما يمكن

٣- تأسيس علاقات سياسية مع روسيا السوفيتية .

٤- نشر رئيس الوزراء بياناً يتضمن الاعتداء البريطاني في الحبانية على القوات العراقية .

س/ كيف كانت ردود افعال الحركة الوطنية والشعب العراقي ضد العدوان البريطاني على العراق اثناء الحرب العالمية الثانية عام ١٩٤١م ؟

الجواب

قبل العدوان البريطاني على العراق بمعارضة شعبية واسعة واصدر العلماء الفتاوي لمحاربة الانكليز كما شكلت وحدات من كتائب الشباب من طلائع المدارس والكلليات والموظفين وارباب المصالح ودرّبوا جميعهم على السلاح واستعد الجميع للمقاتلة .

٣ الاحتلال البريطاني الثاني للعراق

يمكن ايجاز ذلك بالتالي :

- بدأت العمليات الحربية صباح يوم ٢ ايار ١٩٤١م عندما قامت القوات الجوية البريطانية بقصف القوات العراقية قرب الحبانية ، كما قامت القوات العراقية بالرد عليها واستمر القتال حول الحبانية اربعة ايام انسحب بعدها الجيش العراقي وتمركز في **سن الذبان** مع حرص البريطانيين على حماية الحبانية والحفاظ على انابيب النفط الممتدة الى البحر المتوسط
- وصلت الامدادات العسكرية الى القوات البريطانية من البصرة والأخرى من الاردن ، واستطاعت هذه القوات بفضل تفوقها في العدة والعدد من حسم جميع المعارك لصالحها والتقدم نحو بغداد .
- بعد ذلك عاد الوصي عبد الاله الى العراق بعد نجاح الحرب لصالح بريطانيا واخذ يعمل لخدمة المصالح البريطانية فيها ، اما القادة العسكريين فقد احيلوا الى المجلس العرفي العسكري الذي حكم حضوريا وغيايبا عليهم وهم (**العقلاء الاربعة**) ومن المدنيين (**رشيد عالي الكيلاني - يونس السباعي**) وقد نفذ الحكم عليهم جميعا عدا رشيد عالي الكيلاني **الذي كان لاجئاً خارج العراق .**
- سن الذبان :** وهي احدى المناطق العراقية التي توجد في المنطقة الغربية من العراق والتي انسحب الجيش العراقي اليها اثناء قتالة القوات البريطانية في الحرب العالمية الثانية والاحتلال البريطاني الثاني للعراق .
- فراغ /** بدأت العمليات الحربية البريطانية على العراق (الاحتلال البريطاني الثاني) في ٢ ايار ١٩٤١م
- لجنة الامن الداخلي في العاصمة :** وهي اللجنة التي تشكلت في بغداد اثناء الاحتلال البريطاني الثاني للعراق من اجل اتخاذ التدابير اللازمة بتأمين الأوضاع الداخلية في بغداد فضلا عن اجراء اتصالات لإيقاف القتال ووضع شروط الهدنة

س/ ما المهام التي قامت بها لجنة الامن الداخلي في العاصمة ؟

الجواب

اتخاذ التدابير اللازمة بتأمين الأوضاع الداخلية في بغداد فضلا عن اجراء اتصالات لإيقاف القتال ووضع شروط الهدنة .

س/ ما الاجراءات التي اتخذها الوصي عبد الاله بعد عوده الى العراق بمساعدة بريطانيا ؟

الجواب

جاء الوصي الى العراق وهو يشعر ما لبريطانيا من فضل عليه ، فعمل منذ البداية على تنفيذ رغبات بريطانيا في العراق اذ قام

- تشكيل وزارة مواليه لهم
- الموافقة على طلب سلطات الاحتلال بأن يكون لها مطلق الحرية خلال الحرب بان تكون قواتها البرية والجوية في اي مكان في البلاد
- وضع الرقابة التامة على الاتصالات والسيطرة العسكرية التامة على ميناء البصرة والقاعدة العسكرية فيه

- اخلاء اجهزة الدولة من العناصر المعارضة للاحتلال .
- قطع العلاقات الدبلوماسية مع ايطاليا .

علل / تم تنفيذ الحكم بحق العقداة الاربعة ويونس السبعاوي ماعدا رشيد عالي الكيلاني ؟
الجواب لأنه كان لاجئاً خارج العراق .

العراق عضوا ومؤسسا في هيئة الامم المتحدة عام ١٩٤٥م

هيئة الامم المتحدة : وهي احدى المنظمات الدولية التي تم تأسيسها في الولايات المتحدة الامريكية بعد الحرب العالمية الثانية عام ١٩٤٥م مهمتها صناعة السلم والسلام الدوليين وفض النزاعات بالطرق السلمية

علل / قيام الحكومة الامريكية بدعوة الحكومة العراقية الى حضور مؤتمر تأسيس الامم المتحدة ؟

الجواب لأنه وقف الى جانب الحلفاء في الحرب العالمية الثانية ١٩٤٣م.

ارشد العمري : وهو وزير الخارجية العراقي الذي تلقى الدعوة الامريكية في المشاركة في تأسيس الامم المتحدة عام ١٩٤٥م والذي ترأس الوفد العراقي المشارك فيها .

هاري ترومان : وهو رئيس الولايات المتحدة الامريكية الذي افتتح مؤتمر تأسيس هيئة الامم المتحدة عام ١٩٤٥م في الولايات المتحدة الامريكية .

س/ كيف تم انشاء هيئة الامم المتحدة ، وما الهدف من انشاءها ؟

الجواب

حضر المؤتمر ممثلي ٤٩ دولة اضافة الى الولايات المتحدة الأمريكية ، كان العراق الدور الرئيس في وضع بنود الميثاق الذي ضم ١١١ مادة قسمت على ١٩ فصلا ، أكدت على مقاصد الامم المتحدة في

ضرورة حفظ السلام والامن الدوليين ، وتأکید اقامة العلاقات الودية بين الامم فضلا عن تحقيق التعاون الدولي ، وحل جميع النزاعات والخلافات الدولية بالطرق السلمية وعدم اللجوء الى القوة.

اختبار الشهر الثاني الفصل الثاني

الاختبار الخامس

س ١ / عرف المصطلحات الاتية ولخمس فقط

١- العقداء الاربعة:

٢- القانون الاساسي :

٣- عبد الرحمن النقيب :

٤- برسي كوكس :

٥- هاري ترومان :

٦- عبد الاله بن علي :

س ٢ / املاء خمسا من الفراغات الاتية

١- بدأ الاحتلال البريطاني الثاني للعراق بتاريخ

٢- توفي الملك فيصل الاول يوم ٧ ايلول ١٩٣٣م في سويسرا بمرض

٣- مدرسة هارو هي :

٤- بعد ان صادق المجلس التأسيسي على الدستور العراقي قامت الحكومة بشره بتاريخ.....

٥- توج الامير فيصل بن الحسين ملكا على العراق بتاريخ

٦- وهي المعركة التي حدثت بين القوات العربية السورية والقوات الفرنسية ١٩٢٠م واستطاعت اسقاط حكومة

الملك فيصل في سوريا واحتلالها ؟

س ٣ / علل خمسا مما يأتي

١- حكم المجلس العرفي العسكري حضوريا وغيابيا على العقداء الاربعة ويونس السبعوي ماعدا رشيد عالي الكيلاني ؟

ج /

٢- اتهم الراي العام في العراق بريطانيا بتدبير حادثة مقتل الملك غازي ؟

ج /

٣- وصفت المفاوضات التي عقدت بين الجانب العراقي والبريطاني قبيل معاهدة ١٩٣٠م بتلكأها منذ البداية ؟

ج /

٤- الملاحظ عند تحديد مهمات المجلس التأسيسي العراقي اعطى اولوية النظر في معاهدة ١٩٢٢م وتصديقها بدلا من تشريع دستور البلاد ؟

ج /

٥- علي الرغم من الرفض الشعبي للمعاهدة العراقية البريطانية ١٩٢٢م الى ان الملك فيصل اضطر الى توقيعها والمصادقة عليها ؟

ج /

٦- عملت بريطانيا على تشكيل قوات مسلحة عراقية في العراق بدلال من القوات البريطانية ؟

ج /

س ٤ / اجب عن احد الفرعين

أ / ماهي الاسباب التي دفعت بريطانيا لاختيار فيصل بن الحسين ملكا على العراق . عددها ؟

١-

٢-

٣-

٤-

٥-

ب / عدد الشروط الواجب توفيرها في اي دولة تريد انتهاء الانتداب ؟

١-

٢-

٣-

حل اسئلة الفصل الثاني

العراق اثناء الحرب العالمية الاولى وما بعدها

المصالح البريطانية في العراق

س ١ / عرف ما يأتي ؟

الجواب

جميع التعاريف موجوه ومعرفة بالكامل ولا داعي للإعادة

س ٢ عدد فقط :

١ ثورة العشرين في العراق ، ثورة الشعب العراقي من جنوبه الى شماله ، اذكر اسباب الداخلية والخارجية لاندلاعها .

الجواب

الاسباب الداخلية

- ١- تدهور الاقتصاد العراقي .
- ٢- فرض قوات الاحتلال البريطاني الضرائب الباهظة التي أثقلت كاهل الشعب العراقي
- ٣- سوء الادارة العسكرية البريطانية
- ٤- اساليب الادارة الحديثة السيئة التي اتبعتها سلطات الاحتلال البريطاني في العراق
- ٥- اتضاح معالم السياسة البريطانية في العراق وشعور العراقيين بخيبة امل .
- ٦- دور رجال الدين في النجف الاشرف وكربلاء المقدسة والكاظمية وسامراء في ايقاظ الشعور الوطني لأبناء البلد وتحشيد الجهود للمطالبة بالحقوق المشروعة للعراقيين .
- ٧- سياسة اعتقال الشخصيات الوطنية العراقية ونفيها الى الخارج والتي تبعتها سلطات الاحتلال البريطاني .

الاسباب الخارجية

- تأثيرات الثورة العربية عام ١٩١٦م في الحجاز بقيادة ملكها الشريف حسين بن علي واتضاح زيف الوعود البريطانية بمنح العرب الحرية والاستقلال التام .

- تأثيرات الثورة المصرية عام ١٩١٩م في تأجيج الشعور الوطني للجماهير العراقية وتأكيدها بان الثورة هي الاسلوب الامثل لنيل الاستقلال وتحرير البلاد
- قيام الدولة الملكية في سوريا في تموز ١٩٢٠م برئاسة الأمير فيصل بن الحسين .
- الوعود التي اطلقها المستعمرون المنتصرون في الحرب العالمين الأولى التي اكادوا فيها على منح الحرية والاستقلال للشعوب ، وحققها في تقرير المصير واقامة حكومات مستقلة فيها.

٢ اسباب احتلال مدن الناصرية والعمارة :

الجواب

١. السيطرة التامة على رأس الخليج العربي، فضلا عن ابعاد القوات العثمانية من شط العرب.
٢. عدم اعطاء الفرص الى القادة العسكريين العثمانيين لأعاده تنظيم قواتهم العسكرية وتعزيزها .
٣. استعادة هيبة بريطانيا ، بوصفها دولة عظمى وذات سيادة على مناطق شاسعة من العالم .
٤. المحافظة على مصالحها الاقتصادية وحمايتها لمصافي وانابيب النفط التابعة لشركة النفط الانجلو فارسية .

٣ مميزات ثورة العشرين في العراق ونتائجها .

الجواب

مميزاتها :

١. وحدت كلمة العراقيين من الجنوب الى الشمال واكدت عمليا قيمة اتحادهم في تحقيق هدف الحرية والاستقلال
٢. كشفت الثورة عن نضج سياسي وطني من خلال بياناتها ومراسلاتها وحتى ادارتها .
٣. لم يغفل الثوار اهمية العمل السياسي قبل بدء الثورة والذي تمثل برفع المذكرات التي تؤكد اهدافهم والوفود التي شكلوها للتفاوض مع المحتل
٤. انتهت الحرب عسكريا بالنصر لقوات الاحتلال البريطاني ، الا انها بالمقابل نجحت سياسيا لصالح الثوار

نتائجها :

١- تعد ثورة العشرين احد اهم الاسباب الرئيسية في تأسيس الدولة العراقية الحديثة

- ٢- لقد اثبتت عمليا فشل الادارة البريطانية من خلال سيطرتها المباشرة على البلاد على الرغم من اسلحتها الحديثة والمتطورة .
- ٣- اثبتت اهمية التلاحم والوحدة الوطنية في مواجهة المحن والصعاب بين ابناء الشعب العراقي .
- ٤- اثبتت وحدة الشعب بكل فئاته وقومياته ومذاهبه
- ٥- كشفت الثورة عن نضج سياسي ووطني عبرت عنه الصحافة الناطقة بأسم الثورة .
- ٦- اضعفت الثورة الى حد كبير مركز بريطانيا بوصفها دولة محتله في منطقة الشرق الادنى .
- ٧- اصبحت هذه الثورة نبراسا لجميع الثورات الوطنية والقومية في البلدان العربية فيما بعد
- ٨- على الرغم من تمكن قوات الاحتلال من اعادة احتلال المدن والمناطق التي حررها الثوار الا انهم اعترفوا بقوة الثورة.

٤ : الاسباب التي ادت الى تشكيل حكومة الدفاع الوطني .

- هرب الوصي عبد الاله الى البصرة
- سياسة الحكومة البريطانية اثناء الحرب العالمية الثانية اتجاه العراق
- محاولة زج الجيش العراقي في أتون الحرب الى جانب بريطانيا

٥ ما مظاهر الاحتلال البريطاني الثاني للعراق عام ١٩٤١م.

الجواب

- بدأت العمليات الحربية صباح يوم ٢ ايار ١٩٤١م عندما قامت القوات الجوية البريطانية بقصف القوات العراقية قرب الحبانية ، كما قامت القوات العراقية بالرد عليها واستمر القتال حول الحبانية اربعة ايام انسحب بعدها الجيش العراقي وتمركز في سن الذبان مع حرص البريطانيين على حماية الحبانية والحفاظ على انابيب النفط الممتدة الى البحر المتوسط .
- وصلت الامدادات العسكرية الى القوات البريطانية من البصرة والآخرى من الاردن ، واستطاعت هذه القوات بفضل تفوقها في العدة والعدد من حسم جميع المعارك لصالحها والتقدم نحو بغداد .
- بعد ذلك عاد الوصي عبد الاله الى العراق بعد نجاح الحرب لصالح بريطانيا واخذ يعمل لخدمة المصالح البريطانية فيها ، أما القادة العسكريين فقد تم تنفيذ الحكم بحقهم (العقداء الأربعة) ومن

المدينين (رشيد عالي الكيلاني - يونس السبعائي) وتم تنفيذ الحكم عليهم جميعا ماعدا رشيد عالي الكيلاني الذي كان لاجنا خارج العراق .

س ٣ ناقش العبارات التالية :

١ كان لبريطاني مصالح مهمة في العراق ؟

الجواب كان لبريطانيا مصالح متعدد وكبيرة بدت في العراق من عام ١٥٨٠ في عهد مكة اليزابيث وفي الحصول على الامتيازات من الدولة العثمانية وصولاً الى الرحلات الاستطلاعية في نهري دجلة والفرات والتنافس

الألماني البريطاني في العراق الى ان تم احتلال العراق فعليا اثناء الحرب العالمية الأولى وفرضت عليه الانتداب البريطاني .

٢ تشكيل الحكومة العراقية المؤقتة من النتائج المهمة لثورة العراقية عام ١٩٢٠م.

الجواب

لأنها اثبتت لبريطانيا ان الشعب العراقي لا ينصاع لمطالبها وضغوطها ولا يمكن ان يتراجع عن رفضه لبريطانيا الى ان يحقق مطالبه ، فكانت من نتائج ثورة العشرين تأسيس حكومة وطنية دستورية من خلال عقد مؤتمر القاهرة عام ١٩٢١م وتنصيب الملك فيصل ملكاً على العراق .

٣ بعد اعلان الانتداب البريطاني على العراق ايقن رجال الحركة الوطنية ضرورة تحشيد الجهود والمواقف لمواجهة هذا النوع الجديد من الاستعمار ونيل الحرية والاستقلال بالقوة .

الجواب

بدأت بعقد الاجتماعات للتداول في الاوضاع السياسية للبلاد وسبيلهم لنيل الحرية والاستقلال ، وقد عقدوا اجتماعات كثيرة خلال زيارة النصف من شعبان في ٣ ايار ١٩٢٠م في مدينة كربلاء المقدسة والتي كان لها اثر كبير في تاريخ الحركة الوطنية العراقية فيما حققته بعد ذلك ، ولاسيما خطب المرجع الديني الشيخ (محمد تقي الحائري) التي اكدت امكانية الشعب على القيام بالثورة مسلحة في حال عدم استجابة بريطانيا لمطالبهم الوطنية العادلة لنيل الحرية والاستقلال ، واكد في رسالة وجهها الى عموم ابناء البلاد بشأن ضرورة التظاهر السلمي ، والدعوة الى القدوم الى بغداد للمطالبة بحقوقهم بصورة سلمية .

٤ دعت بريطانيا الى ترشيح الأمير فيصل بن الحسين لتولي عرش العراق ؟

الجواب

- ان الأمير فيصل بن الحسين من الشخصيات المعروفة والمناسبة لإدارة دولة عربية حديثة بالاعتماد على المساعدة الاجنبية لاستمرار بقائها ،
- أن شخصية الامير فيصل بن الحسين معروفة ومقبولة في العراق لأنه حارب مع الضباط العراقيين في الثورة العربية الكبرى ١٩١٦م في الحجاز بقيادة الشريف حسين
- تحسين سمعة بريطانيا ولاسيما بعد ما نقضت وعودها وعهودها مع العرب لمساعدتهم على نيل الحرية والاستقلال الذي تجسد عمليا في اتفاقية سايكس بيكو ودورها في عقد وعد بلفور ١٩١٧م
- اسقطت فرنسا حكومة الامير فيصل بن الحسين في سوريا عام ١٩٢٠م في معركة ميسلون الذي كان العمود الفقري لها العراقيون ،
- كان الامير فيصل بن الحسين بمستوى مقبول اكثر مقارنة بالمرشحين الآخرين للعرش .

٥ كان امام الملك فيصل بعد تولي العراق مهام عدة ؟

الجواب

- ١- انتهاء الانتداب البريطاني على العراق ، وتخليصه من السيطرة الاجنبية البريطانية واقامة حكم وطني من ابنائه وبشكل تدريجي.
- ٢- الحفاظ على ولاية الموصل جزءا لا يتجزأ من العراق والوقوف بوجه الخطر التركي المطالب بها آنذاك .
- ٣- تشكيل حكومة وطنية دستورية ، فضلا عن العمل على تطوير البلاد من النواحي الاقتصادية والاجتماعية وحتى الثقافية ، والعمل على تطوير الوحدة الوطنية بين ابناء البلاد كافة.

٦ كانت طبيعة العلاقات بين الحكومة البريطانية والعراقية صعبة ومعقدة ، عند عقد المعاهدة البريطانية العراقية الأولى لعام ١٩٢٢

الجواب

لاختلاف وجهتي نظر الحكومتين حول بنود المعاهدة ، اذ كان موقف الحكومة العراقية و على رأسها الملك فيصل والشعب بكل فئاته ، التمسك برفض الانتداب البريطاني رفضا قاطعا ولا بد من اجراء التعديلات عليها

بما يضمن السيادة الوطنية الكاملة للعراق ، لذلك توقف المفاوضات لأكثر من مرة وارسل قادة الحركات الوطنية برقيات الى الملك فصل لرفض الانتداب والتمسك بالمطالب وعدم التنازل عنها ، وامام تلك الضغوطات قدمت الحكومة استقالته التي قبلها الملك فيصل في ١٩ اب ١٩٢٢م ، وعدت ضربة لأي حكومة تتفاوض مع بريطانيا .

٧ كان لبريطانيا دور في تدبير حادث الملك غازي .

الجواب

بسبب موقفه المعادي من البداية لبريطانيا وما جسده مواقف الوطنية المعلنة منها مما اثار غضب بريطانيا وعدته خصما يجب ازاحته والقضاء عليه.

٨ العراق عضو ومؤسس في هيئة الامم المتحدة عام ١٩٤٥م

الجواب

بعد الحرب العالمية الثانية ارسلت الولايات المتحدة الامريكية دعوته الى العراق لحضور المؤتمر لأنه وقف الى جانب الحلفاء في الحرب ورحبت الحكومة العراقية بذلك والفت وفدا برئاسة وزير الخارجية ارشد العمري لحضور المؤتمر وكان للعراق الدور الرئيسي في وضع بنود الميثاق وصادق المجلس على بنوده بلا اكثرية في ٢٣ تشرين الاول ١٩٤٥م

الفصل الاول

القيم الوطنية والاجتماعية

الوحدة الثالثة

مفهوم القيم

وهي مجموعة من المعايير والمبادئ والتعاليم والضوابط الاخلاقية التي توجه سلوك الفرد وترسم له الطريق السليم الذي يجنبه الوقوع في الخطأ او القيام بفعل يتنافى مع مبادئه وقيمه واخلاقه .

س/ ما الاهداف التي تحققها القيم الوطنية والاخلاقية للفرد ؟

الجواب

تقوية الروابط الاجتماعية - ترسيخ مبدأ العدالة الاجتماعية - تحقيق الاستقرار - تعزيز المساواة - اشاعة السلم بين ابناء المجتمع بغض النظر عن اللون والدين والجنس واللغة .

انواع القيم

اولاً : القيم الوطنية ثانياً : القيم الاجتماعية .

اولاً

القيم الوطنية

هي مجموعة من المبادئ والضوابط التي تحدد سلوك المواطن في المجتمع الذي ينتمي اليه

س/ بماذا تتمثل القيم الوطنية ؟

الجواب

تتمثل بالمواطنة الصالحة وحب الوطن والاخلاص والانتماء والولاء له والتضحية في سبيله والالتزام بالقواعد والقوانين

انواع القيم الوطنية

١ المواطنة

كلمة مشتقة من كلمة الوطن وتعبر عن المكان الذي يعيش فيه الانسان ، وتتحدد بموجبها الحقوق والواجبات التي تتضمن انتماء المواطن الى وطنه.

س/ من هم الافراد الذين يتمتعون بصفة المواطنة ؟

الجواب

هم الافراد الذين يعيشون على أرض دولة ما ، وبموجبها يحصلون على العديد من الامتيازات التي تضمن لهم العيش في حياة كريمة .

س/ بين الامتيازات التي يحصل عليها الافراد الذين يتمتعون بصفة المواطنة ؟

الجواب

الحق في التعليم - الحق في العمل - الحق في المشاركة في الحياة السياسية مثل الترشيح للمناصب السياسية الحصول على حق الانتخاب والتصويت - تضمن للمواطنين التمتع بالحريات الفردية التي يكفلها دستور الدولة كحرية الرأي وحرية المعتقد

٢ الانتماء

هي تلك الحالة التي يشعر بها الشخص بانضمامه الى مجموعة معينة بحيث تربطه بهذه المجموعة علاقة تنعكس ايجابا على سلوكه

س/ ما المقصود ب (الانتماء الى الوطن) ؟

الجواب

يعني انضمام الفرد الى وطنه وما يعكس هذا الانضمام من علاقة ايجابية بوطنه ويترجم هذا الانتماء من خلال السلوكيات التي يطبقها الانسان في مجتمعه .

س / الانتماء الى الوطن امر في غاية الاهمية ، ناقش ذلك ؟

الجواب

لأنه يقوي علاقة الافراد والمجتمع والوطن مع بعضهم البعض وهذه العلاقة تجعل العدو يتخوف من الاقتراب او المساس بأمن هذا الوطن وهناك الكثير من الوسائل التي تجسد الانتماء الى الوطن منها :

أ- الامتثال الى الاحكام و القواعد العامة وقواعد العمل والقواعد السلوكية والحفاظ على الممتلكات العامة وعلى نظافة الاماكن العامة والشوارع الموجودة على ارض الوطن، من خلال المشاركة في الاعمال التطوعية والخيرية التي تهدف الى خدمة المجتمع .

ب- اعتماد اسلوب الحوار الواعي عند وقوع الخلافات والنزاعات سواء كان ذلك بين الافراد او الجماعات المختلفة والابتعاد عن السلوكيات السلبية التي تتمثل باستعمال العنف وسيلة لحل

المشكلات والنزاعات والتعاون مع الاعداء للأضرار بمصلحة الوطن والمجتمع وعدم الالتزام

بالقوانين فضلا عن سرقة الاموال والاملاك العامة الاعتداء على حرمتها

ج- ان الانتماء للوطن يزيد من قوة الترابط بين الاشخاص وذلك لحبهم لوطنهم، وهذا يعود على

الوطن بالنجاح والنهضة والتقدم لبناء المجتمع

س/ ما الذي يحقق للإنسان او الفرد الشعور بالراحة والاستقرار ؟

الجواب

شعور الانسان بالمسؤولية اتجاه الوطن .

س/ ما الوسائل التي تجسد انتماء الفرد الى وطنه ؟

الجواب

الجواب السابق (أ - ب - ج)

علل / ان الانتماء للوطن يزيد من قوة الترابط بين الاشخاص ؟

الجواب وذلك لحبهم لوطنهم، وهذا يعود على الوطن بالنجاح والنهضة والتقدم لبناء المجتمع

٣ المشاركة السياسية

وهي مفهوم مرتبط بالحياة السياسية والاجتماعية وتتمثل بإعطاء الحق الديمقراطي والدستوري لأفراد المجتمع البالغين كافة في المشاركة في صنع القرار السياسي .

فراغ مشاركة الافراد في صنع القرار السياسي بطريقة مباشرة من خلال **الترشيح للانتخابات او الانضمام**

لمؤسسة من مؤسسات المجتمع المدني ، وتكون المشاركة بطريقة غير مباشرة من خلال **الادلاء بأصواتهم**

لاحد المرشحين

٤ العمل التطوعي

هو ان يخصص الانسان جزءاً من وقته الخاص للقيام بعمل عام برغبة ذاتية ومن دون مقابل من اجل اهداف انسانية او اجتماعية منها اشاعة التعاون بين الآخرين وتقوية اواصر المحبة والألفة بين افراد المجتمع

س/ عدد اهم المجالات التي تتناول العمل التطوعي ؟

الجواب

المجال الاجتماعي : والذي يخصص للقيام بأعمال الانسانية والخيرية .

المجال التربوي : عند لقاء الدروس الخاصة بحملات محو الامية والدروس التطويرية او التوعوية .

المجال البيئي : عبر القيام بحملات لتنظيف الاحياء والشوارع والحدائق العامة والتعرف الى السبل السلمية للتخلص من النفايات

ثانياً

القيم الاجتماعية

هي مجموعة من المبادئ الفطرية (المكتسبة) التي تحدد تعامل الفرد مع غيره والقائمة على مبادئ الاخلاق الحميدة والاحترام والتسامح والانسانية والصدق والتكافل الاجتماعي بغض النظر عن الدين والمذهب والعرق والجنس واللون .

العلاقات الاجتماعية

هي احدى صور القيم الاجتماعية ويقصد بها الروابط الاجتماعية القائمة بين الافراد او عامة المجتمع .
س/ تقسم العلاقات الاجتماعية الى نوعين ، ما هما بينهما ؟
الجواب

❖ العلاقات الاجتماعية الرسمية

مثل علاقة التلميذ بإدارة المدرسة او علاقة الموظف بدائرته التي يعمل بها

❖ العلاقات الاجتماعية غير الرسمية

علاقة الانسان بأفراد عائلته او جيرانه او اقاربه ومن الممكن ان تكون العلاقات الاجتماعية **(ايجابية)** يسودها الود والمحبة مما يؤدي الى التكاتف والتعاون ، أو تكون العلاقات الاجتماعية **(سلبية)** يسودها الكره والحسد مما يؤدي الى الخصومات والعداوة بين الناس .

انواع العلاقات الاجتماعية

١ العلاقات الاسرية

وهي نوع من الروابط الاجتماعية القائمة بين مجموعة من الافراد الذين تربطهم صلات عائلية ، وغالبا ما تتمثل هذه الروابط بالوالدين وابنائهما ضمن نطاق الاسرة .

س/ بماذا تتصف العلاقات الاسرية ؟

الجواب

تتصف العلاقات الاجتماعية الاسرية بالود والمحبة والتعاطف والتماسك والتأزر والتعاون والتضحية

علل / العلاقات الاسرية مثل اي علاقة اجتماعية اخرى لا تخلو من الخلافات وهذه الخلافات يمكن حلها عن طريق التفاهم والتعاون ؟

الجواب لان استمرار الخلافات يؤدي الى تفكك الأسرة ، وهذا التفكك سوف يضر بأمن الفرد والمجتمع

س / كيف يمكن حماية الاسرة من الخلافات المستمرة ؟

الجواب

وذلك عن طريق احترام الابناء لأبائهم وزيادة عطف الالباء على ابنائهم .

علل / يجب الالتزام بتعليمات الابويين من اجل حماية الاسرة ؟

الجواب من اجل المحافظة على انفسنا وعلى اسرتنا وعلى المجتمع الذي نعيش فيه من اجل بناء علاقة اسرية سليمة وناجحة .

٢ العلاقة مع الجيران

س / كيف يمكن ان نديم العلاقة بين الجيران ؟

الجواب

يمكن ادامة العلاقة عن طريق التسامح والابتعاد عن الخلافات والتغاضي عن العيوب والعمل على كسب احترام الجميع فضلا عن كسب ثقتهم ومحبتهم .

علل / اننا نرى ان علاقات الجيرة في مجتمعنا العراقي صادقة ؟

الجواب لأنها قائمة على اساس المحبة والتأزر والتعاون ، وبعيدة من التعصب للدين او المذهب او العشيرة او القومية .

س / كيف يمكن ان نتصف علاقتنا مع الجيران ؟

الجواب

يجب ان نتصف علاقتنا مع الجيران بالابتعاد من الانانية والجشع والتباهي بالمظاهر التي تضر بمصالحنا المشتركة للعيش في بيئة امنه ومستقرة .

س/ لماذا لا يمكن الاستغناء عن العلاقة مع الجيران ؟

الجواب

ذا يمكن عن طريق العلاقات الحسنة مع الجيران التعاون في مواجهة صعوبات الحياة ومساعدة الآخرين.

٣ العلاقة بين الاصدقاء

وهي روابط اجتماعية تربط الفرد بغيره من الافراد الاخرين الذين يتقاربون معه في السن والمستوى الدراسي والاهتمامات الحياتية المختلفة

س/ ما الاسس التي تستند عليها العلاقة بين الاصدقاء ؟

الجواب

تستند العلاقة الى مجموعة من الاسس منه : الهوايات المشتركة - تشابه السلوك الاجتماعي - الالفة والتعاطف - وكيفية قضاء وقت الفراغ .

س/ تعد العلاقة بين الاقران والاصدقاء من أكثر العلاقات الاجتماعية تأثيرا في حياة الفرد، ناقش ذلك ؟

الجواب

لان هذه العلاقات تؤثر في تربية الافراد ونشأتهم ، ولهذا يحرص الأهل دائما على متابعة اصدقاء ابنائهم وتوجيه الابناء لاختيار الاصدقاء الجيدين ، ومن اجل حماية ابنائهم من الاخطاء والمشكلات التي قد يسببها بعض الاصدقاء السيئين

س/ لماذا يحرص الاهل دائما على متابعة اصدقاء ابنائهم ؟

الجواب

من اجل حماية ابنائهم من الاخطاء والمشكلات التي قد يسببها بعض الاصدقاء السيئين

٤ العلاقة بين افراد المجتمع

هي الصلات والروابط القائمة بين مجموعة من الأفراد الذين يعيشون في مجتمع واحد .

فراغ / من اهم الجوانب التي تنظم الروابط في المجتمع هي القوانين والعادات

علل / لماذا الفرد دائما يحتاج الى مجتمعه والى الافراد الذين يعيشون معه ؟

الجواب

لان الانسان او الفرد هو كائن اجتماعي ولا يوجد مجتمع يخلو من الروابط والعلاقات الاجتماعية بين الافراد والجماعات .

س/ ما الاسس التي يجب أن تقوم على اساسها علاقة المجتمع ؟

الجواب

منها احترام عادات المجتمع - احترام آدابه العامة وقوانينه - الالتزام بالأنظمة والقوانين السائدة فيه

اسس العلاقات الاجتماعية

هناك مجموعة من الاسس التي يجب ان تركز عليها العلاقات الاجتماعية منها

١. الاحترام المتبادل

الاحترام : هو احد الاركان الاساسية لبناء العلاقات الاجتماعية السليمة وديمومتها بين أفراد المجتمع .

الاحترام لمتبادل : يعني تعامل الناس مع بعضهم البعض بطريقة حسنة بحيث يتقبل كل فرد أو جماعة افكار الآخرين وارههم بصرف النظر عن لونهم أو جنسهم او نسبهم .

علل / احترام اختلاف الرأي مع الآخرين من اهم اشكال الاحترام المتبادل؟

الجواب لأنه مفتاح نجاح العلاقات .

س/ اعط بعض الامثلة عن الاحترام المتبادل بين الناس او بين الطلاب ؟

الجواب

الاحترام المتبادل للمعتقدات الدينية .

الاحترام المتبادل للمناسبات القومية والمحلية .

الاحترام المتبادل لحقوق الآخرين.

٢. الثقة المتبادلة

تعريفها : هي شعور متبادل يعبر عن الايمان بصدق الآخرين وامانتهم واخلاصهم .

س/ ما العامل الاساسي في الثقة بين الناس ؟

الجواب

هو الاحترام وحب الخير والابتعاد عن سوء الضن بالآخرين .

علل / تسعى الكثير من المجتمعات البشرية الى زرع الثقة المتبادلة بين افراد المجتمع ؟

الجواب

لأنها تؤدي الى استقرار المجتمع الى ان يعيش افراده بسلام وامان ، وانعدام الثقة المتبادلة بين الناس تؤدي الى تفكك العلاقات الانسانية سواء على صعيد الاسرة والمجتمع ومن ثم غياب الاستقرار عن المجتمع .

س/ اذكر امثلة من حياتنا اليومية تدل على الثقة المتبادلة بين الناس ؟

الجواب نثق بالمعلم وهو يثق بقدراتنا - نثق بالطبيب وهو يثق بتعاون المرضى معه - نثق بآبائنا وهم يثقون بأننا نسمع توجيهاتهم .

٣. التفاهم واعتماد مبدأ الحوار

لا يوجد مجتمع يخلو من الخلافات والمشكلات بين افراده

س/ ما المجالات التي تكثر فيها الخلافات بين افراد المجتمع ، وهل يمكن حل هذه الخلافات ؟

الجواب المشاكل والخلافات في الاسرة والمدرسة وفي مكان العمل وفي المحلة وغيرها ، نعم من الممكن حلها من خلال الحوار والتفاهم ووضع الحلول اللازمة من اجل المحافظة على سلامة الحياة وديمومتها

علل / ان الحل الامثل موجود عن طريق الحوار والتفاهم حتى وان كانت الخلافات كبيرة ومعقدة ؟

الجواب لان العقل هو الذي يميز الانسان عن الكائنات الحية الاخرى وعن طريق العقل نستطيع تبادل الآراء والتصرف السليم والحوار والتفاهم .

س/ ما فوائد التصرف السليم والحوار والتفاهم ؟

الجواب الصبر - الاحترام - حسن الاصغاء - حل الخلافات والمشكلات - الابتعاد عن الغضب - عدم التجاوز على الآخرين

٤. التواصل الاجتماعي

س/ لماذا لا يستطيع الانسان الاستغناء عن اخية الانسان (التواصل الاجتماعي) ؟

الجواب الانسان دوما بحاجة الى اخية الانسان في جميع مجالات الحياة المختلفة ، ولاسيما اوقات الاحزان والافراح ولا يمكن الاستغناء عن مساعدة الآخرين ، ولهذا يمثل التواصل مع الناس احد اهم اسس العلاقات الاجتماعية .

س/ اذكر بعض الامثلة من حياتنا اليومية عن التواصل مع الآخرين ؟

الجواب زيارة المرضى - مساعدة المحتاجين - اعانة الفقراء - زيارة الاقارب - التودد إلى الناس - توفير التسهيلات لذوي الاحتياجات الخاصة التي تعيق دمجهم في المجتمع.

س/ ما ابرز فوائد التواصل الاجتماعي ؟

الجواب

تقوية العلاقات الاجتماعية بين الناس - شعور الافراد بالأمن في المجتمع - الذي يعيشون فيه - زيادة التعاون بين الافراد - استمرار اللفة والمحبة بين افراد المجتمع

الفصل الثاني

قضايا اجتماعية عامة

أولاً

طلب العلم والمعرفة

س / للعلم فوائد عدة ، بين اهم تلك الفوائد ؟

الجواب

- يستطيع الانسان عن طريقه التغلب على الكثير من المصاعب التي قد تعترض حياته .
- اخترع الانسان الكهرباء والسيارات والقطارات والطائرات والحاسوب .
- وصول الانسان الى الفضاء.
- اكتشاف الانسان الكثير من الخيرات في الطبيعة .
- استطاع الانسان القضاء على الكثير من الأمراض .
- عن طريق العلم ترتقي الأمم والشعوب سلم النجاح.

علل / سعت جميع الامم والمجتمعات الى الاهتمام بالعلم ؟

الجواب لأنه أساس بناء كل مجتمع ، كما انه وسيلة مهمة لرفاهية كل مجتمع .

علل / لان العلم هو سبب تطور جميع جوانب الحياة لذا يجب علينا الاهتمام بطلب العلم ؟

الجواب لأنه طريقنا الى النجاح في الحياة، وعن طريقة نستطيع معرفة حقوقنا وواجباتنا ونعرف ايضا حقوق الآخرين وواجباتهم، وعن طريق العلم والمعرفة يمكننا التغلب على أكثر المشكلات التي تواجهنا في حياتنا اليومية .

ثانياً

المواطن بين الحقوق والواجبات

س/ بما ان الفرد هو اللبنة الاساسية في المجتمع ، لذا يجب ان تكون العلاقة بينة وبين المجتمع الذي يعيش فيه علاقة متبادلة ومتفاعلة في الوقت نفسه ؟

الجواب

معنى ذلك ان يتمتع الفرد بالحقوق التي له، ويؤدي الواجبات التي عليه ، فبقدر التزامه بواجباته يضمن حصوله على حقوقه لان الحقوق ترفع من قدر الفرد وحرية ، في حين تعبر الواجبات عن احترام الفرد لحرية وحرية الآخرين

علل / بمجرد احترام الفرد لواجباته يضمن حصوله على حقوقه ؟

الجواب

لان الحقوق ترفع من قدر الفرد وحرية ، في حين تعبر الواجبات عن احترام الفرد لحرية وحرية الآخرين

اولاً حقوق الانسان

هي مجموعة من المبادئ الاخلاقية والمعايير الاجتماعية التي تصف السلوك البشري و الذي يترجم بمجموعة من الحقوق الاساسية التي لا يجوز للمس بها وهي مستحقة واصيلة لكل شخص لمجرد كونه انسان .

انواع حقوق الانسان

فراغ / تتميز حقوق الانسان بكونها متطورة وفي حالة حركة ، وليست ساكنة ، فضلا عن كونها متنوعة .

س ما اهم معايير حقوق الانسان ، عددها فقط ؟

الجواب

- ١- حقوق الانسان من حيث الاهمية .
- ٢- حقوق الانسان من حيث موضوعها .
- ٣- حقوق الانسان من حيث المستفيدين .

١ حقوق الانسان من حيث الاهمية وتشمل :

أ - **حقوق أساسية** : وهي حقوق ضرورية لاستمرار حياة الانسان يحصل عليها بصفته انسانا تتميز بانها من الحقوق التي لا يمكن مسها وتجاوزها او مخالفتها ، ويشكل تأمينها شرطا مسبقا وأساسيا لتحقيق بقية حقوق الانسان الأخرى والتمتع بها .

س/ بماذا تمتاز حقوق الانسان الاساسية ؟

الجواب

بانها من الحقوق التي لا يمكن مسها وتجاوزها او مخالفتها ، ويشكل تأمينها شرطا مسبقا وأساسيا لتحقيق بقية حقوق الانسان الأخرى والتمتع بها .

س/ اعط امثلة من حياتنا اليومية على حقوق الانسان الاساسية ؟

الجواب

⚡ حق الحرية ⚡ الحياة ⚡ المساواة ⚡ حرية التعبير عن الرأي .

ب - **حقوق غير أساسية** : وهي الحقوق المرتبطة برفاهية الانسان وسعادته التي تؤمن للإنسان عيشه افضل

وتضمن له قدر كافي من الكرامة .

س/ اعط مثال يبين حقوق الانسان الغير اساسية ؟

الجواب

⚡ حرية التملك ⚡ حرية انشاء الجمعيات ⚡ الانتماء السياسي

٢ حقوق الانسان من حيث المستفيدين منها

حقوق فردية **حقوق جماعية**

أ - **حقوق فردية** : هي الحقوق التي يتمتع بها الفرد وتسعى الدولة جاهدة لتوفيرها وعدم التعدي عليها وتتميز بانها تخص الفرد بذاته .

س/ اعط امثلة على الحقوق الفردية التي يتمتع بها الشخص ؟

الجواب

⚡ حق الحياة وعدم التعرض للتعذيب ⚡ حق الفكر ⚡ حق التعليم ⚡ حق العمل ⚡ حق الانتماء

ب _ حقوق جماعية : هي الحقوق التي تخص المجتمع أو مجموعة من الأفراد وتضمن لهم الحق في التصرف و العمل بها ، أي انها لا تخص فردا بذاته ومن امثلة تلك الحقوق **الخدمات العامة**

٣ حقوق الانسان من حيث موضوعها :

حقوق مدنية وسياسية حقوق اقتصادية واجتماعية حقوق بيئية تنموية

أ الحقوق المدنية والسياسية

هي حقوق مرتبطة بالحريات وتشمل

حق الدين والعقيدة - الحق في الحياة - الحق في الامان وحرية التفكير - عدم التعرض للتعنيف والمشاركة السياسية - حرية الرأي والتعبير والتفكير - حرية الاشتراك في منظمات المجتمع المدني - الحق في العيش بكرامة - حق التنقل والسفر والعدل والمساواة - وحق التعليم وحق الدفاع عن النفس .

ب الحقوق الاقتصادية والاجتماعية :

وهي حقوق مرتبطة بالأمن وتشمل :

الحق في العمل واختيار نوع العمل - الحق في العيش في حياة كريمة - الحق في المسكن واختيار مكان السكن - الحق في الحصول على الرعاية الصحية والاجتماعية - الحق في الملكية والزواج وتكوين الاسرة .

ج الحقوق البيئية التنموية :

وهي حقوق مرتبطة بالبيئة المحيطة بالفرد وتشمل :

الحق في العيش في بيئة نظيفة - الحق في التنمية الثقافية والسياسية والاقتصادية - الحق في العيش في بيئة خالية من الفساد

ثانياً الواجبات

هي كل ما يتعين على الانسان فعله سواء في شؤونه الخاصة او اتجاه وطنه .

س/ يمكن تقسيم واجبات الانسان على حسب طبيعة العلاقة ، ماهي بينها ؟

الجواب

١. علاقة الانسان مع الآخر .

٢. علاقة الانسان في محيط عمله

٣. علاقته بوصفه مواطناً وجزءاً من افراد المجتمع تجاه وطنه

١. علاقة الانسان مع الآخر .

س/ ما القيم والمبادئ التي تقوم عليها علاقة الانسان مع الآخر ؟

الجواب

واجب احترام الجار - احترام الرأي الآخر واحترام كرامة الانسان - اداء الحقوق لأصحابها كالدين والميراث والوصية .

٢. علاقة الانسان في محيط عمله :

س/ ما الواجبات التي تتحتم على الانسان القيام بها في محيط عمله ؟

الجواب

علاقة الطالب بالمدرسة والمعلم في مدرسته - علاقة العامل في عملة واجبات تتعلق في اتقان عمله - علاقة الجندي في معسكره - علاقة الطبيب في مشفاه

٣. علاقة الانسان بوصفه مواطنا جزءا من افراد المجتمع اتجاه وطنه :

س/ ماهي واجبات الانسان اتجاه وطنه ؟

الجواب

علاقة الانسان بارضه ووطنه واجب الحفاظ عليه والدفاع عنه - والالتزام بالأنظمة والقوانين واحترامها - المحافظة على الممتلكات العامة وغيرها من الواجبات .

ثالثاً

البيئة والتلوث البيئي

فراغ / من ابرز التحديات التي تواجه المجتمعات اليوم هي ظاهرة التلوث البيئي .

علل / يعد التلوث البيئي من ابرز التحديات التي تواجه المجتمعات اليوم ؟

الجواب

نتيجة للتطور الصناعي الهائل وما يرافقه من اطلاق ملوثات متنوعة كالغازات السائلة او الصلبة الامر الذي اثر سلبا في البيئة التي نعيش بها .

البيئة : هو المكان الذي تعيش فيه الكائنات الحية، فضلا عن العناصر والمكونات غير الحية كالماء والهواء والتربة وغيرها من المعادن وما يرافقه من تأثير بين تلك المكونات لضمان استمرار الحياة .

سبل المحافظة على البيئة

س/ عدد اهم السبل التي من خلالها يمكننا الحفاظ على البيئة ؟

الجواب

- ١- استعمال مصادر الطاقة النظيفة والمتجددة كالطاقة الكهربائية وطاقة الرياح والطاقة الشمسية بديلاً للطاقة الملوثة التي تستعمل **الفحم والنفط** .
- ٢- سن القوانين والانظمة التي تحد من ظاهر التلوث.
- ٣- تشجيع الافراد على الرياضة ، لاسيما المشي وركوب الدرجات الهوائية والتقليل من استعمال السيارة.
- ٤- نشر الوعي بين المواطنين عن طرق استعمال وسائل الاعلام لتوعية عن اخطار التلوث البني .
- ٥- ابعاد المؤسسات لتعليمية او المستشفيات من مصادر التلوث الضوضائي .
- ٦- معالجة مياه الصرف الصناعية ومياه الصرف الصحي قبل طرحها الى المصادر المائية.
- ٧- المحافظة على الغطاء النباتي والحد من انجراف التربة عن طريق زراعة الاشجار والمساحات الخضراء ومنع قطع الاشجار .
- ٨- الزام المصانع بوضع مرشحات للغازات والملوثات التي تطرحها إلى البيئة .

مادة أثرائية

التلوث الضوضائي (السمعى) او التلوث الضجيجي :

هو التعرض بصورة مستمرة الى مجموعة من الاصوات العالية غير المرغوب بها . عادة ما يرتبط هذا النوع من التلوث في المناطق الصناعية ، ويتسبب بأضرار صحية عديدة .

رابعاً

التنمية المستدامة

وهي كيفية الحفاظ على الموارد الطبيعية والثروات الاقتصادية من اجل الاستفادة منها لجميع ابناء الوطن وهي حق مشروع للجميع من اجل ضمان حقوق الاجيال القادمة .

كيفية المحافظة على الموارد الطبيعية

- ١- ترشيد استعمال الموارد الطبيعية والبشرية (الماء- التربة - الثروات الاقتصادية) والعمل على صيانتها مثل صيانة موارد المياه السطحية (الانهار) من خلال منع تلوثها .

- ٢- المحافظة على ديمومة هذه الموارد من خلال ترشيد استهلاكها وعدم الاضرار بها .
- ٣- استعمال تقنية التدوير ، ولاسيما الموارد القابلة للتدوير واعادة استعمالها على نحو سليم وامن .

خامساً

المحافظة على النظافة الشخصية والعامة

علل / لا يمكن للإنسان ان يعيش حياة سليمة من دون النظافة ؟

الجواب لأنها مصدر صحته وسلامته ، كما انها دليل تقدم المجتمعات وتطورها ولهذا اكدت . جميع الاديان والحضارات البشرية على اهمية النظافة ودورها المهم في الحياة

١ النظافة الشخصية

وتعني الاهتمام بنظافة الجسم والطعام والشراب والملابس والكتب فضلا عن الاهتمام بالمظهر العام وما يتعلق بالاحتياجات الشخصية للإنسان .

س/ ما القواعد التي ينبغي الالتزام بها للمحافظة على النظافة الشخصية لتجنب العدوى والامراض ؟

الجواب

١- غسل اليدين بالماء والصابون بصورة متكررة مدة (٢٠ ثانية) على الاقل والمحافظة على النظافة الشخصية .

٢- المحافظة على نظافة المرافق الصحية .

٣- تجنب لمس الفم او العينين او اي جزء من الوجه اذا كانت اليد غير نظيفة .

٤- استعمال المناديل الورقة عند العطاس .

٥- استعمال المطهر عند الخروج من الحمامات ، والغرف الصفية والممرات وقرب المخارج وبعد اللعب

٦- تنظيف مباني المدرسة ، والغرف الصفية وتطهيرها ولاسيما مرافق المياه والصرف الصحي مره احدة

يومياً على الاقل. خصوصا الاسطح التي يلمسها عدد كبير من الاشخاص مثل طاولات الطعام

والمعدات الرياضية ومقابض الأبواب والشبابيك والالعاب والوسائل التعليمية

٧- ضمان التخلص من النفايات يوميا وطرحها في مكان امن .

٢ النظافة العامة

وهي المحافظة على نظافة البيئة التي يعيش بها الانسان ، وتشمل نظافة المدرسة والمنزل الاماكن العامة.

س/ اعط مثال على نظافة الأماكن العامة ؟

الجواب

المحافظة على نظافة بناية المدرسة وجدرانها وممراتها او المحافظة على نظافة الممتلكات المدرسة كالكراسي ولوحات الكتابة او اجهزة المختبر والمحافظة على نظافة المدرسة.

س/ النظافة العامة في المرافق العامة والمدرسة لها فوائد عدة ، عددها ؟

الجواب

١ تزيد التعاون والمحبة بين الطلبة ٢ تحافظ على الصحة العامة للطلبة ٣ توفر بيئة سليمة للنجاح والتفوق

الدراسي

سادساً

التوعية المرورية

ويقصد بها ان يكون جميع مستعملي الطرق من

- سائقين

- مشاة

- راكبي درجات على علم تام بقواعد المرور من اجل سلامة الراكب والمشاة .

السلامة المرورية

وهي اتباع الاجراءات الوقائية كافة للحد من وقوع الحوادث المرورية .

س/ ما الاجراءات الوقائية للحد من الحوادث المرورية ؟

الجواب

أ- الفحص الدوري الشامل للمركبات عمليات الصيانة

ب- اتباع الارشادات والعلامات الخاصة بقواعد السير الصادرة من قبل رجال المرور .

ت- الحصول على رخص منح القيادة الخاصة بالمركبات او الدراجات

تأثير التكنولوجيا والانترنت في المجتمع

علل / يشهد العصر الحالي تطوراً سريعاً في الثورة المعلوماتية ؟

الجواب لأن الجميع أصبح يعيشون عصر الانفتاح على العالم دون قيود جعلت من العالم قرية صغيرة .

س / للتكنولوجيا والانترنت ايجابيات و سلبيات ، وضحاها بالتفصيل ؟

الجواب

الاجابيات :

للانترنت اهمية بما يعرضه من برامج ودروس تسهم في رفع مستوى ثقافة الفرد .

السلبيات :

١ ضياع الوقت

يعد استخدام الانترنت من اكثر اسباب ضياع الوقت وخصوصاً عند الشباب ، اذ يمضون العديد من الساعات المتواصلة على شبكات الانترنت من دون القيام بأي شيء مفيد فيقضون أوقاتهم بالدرشة وتصفح مواقع الانترنت

٢ الاختراق والتجسس

سهل استخدام الانترنت التسلل واختراق خصوصيات الآخرين والتجسس عليهم لمعرفة اسرارهم وتحركاتهم ، ومن الممكن ان يتعرض اي شخص لهذا الأمر لهذا يجب اتخاذ الحيطة والحذر وابلاغ الجهات الرسمية في هكذا مواقف .

٣ مشاكل صحية

ان الجلوس لساعات طويلة وتصفح شبكة المعلومات الدولية يؤدي الى الاصابة بمشكلات صحية لاسيما الامراض الخاصة بالعيون والعمود الفقري، ووجاع المفاصل والاعصاب ، كما يؤدي ايضا الى زيادة الوزن ، الاصابة بالسمنة بسبب قلة الحركة

س/ ما المشكلات الصحية التي يصاب بها الشخص الذي يستخدم الانترنت لساعات طويلة ؟

الجواب السابق

علل / يؤدي استخدام الانترنت الى ساعات طويلة الى زيادة الوزن والإصابة بالسمنة ؟

الجواب / بسبب قلة الحركة

٤ الترويج للأفكار السيئة

تستعمل الكثير من الجماعات من خلال ما تعرضه من برامج وافكار للتأثير على ثقافة الافراد طريقة لترويج لتلك الافكار التي يكون الهدف منها التضليل الشباب وتشريع القيام بالأعمال الارهابية .

٥ تزوير الحقائق

بما ان الانترنت غير خاضع لرقابة الدولة يستعمل البعض من الاشخاص اسماء مستعارة ووهمية بهدف تشوية سمعة بعض الناس والتشهير بهم او ابتزازهم من خلال سرقة المعلومات الخاصة بغية التشوية او الابتزاز ، ناهيك عن نقل الاخبار و الحقائق الاجتماعية او السياسة الغير صادقة والموثوقة ، لذلك سعت الاجهزة الامنية الى وضع الاجراءات لحماية المواطن

ثامناً

المحافظة على الممتلكات العامة

الممتلكات العامة : هي جميع الممتلكات العائدة الى الدولة والمجتمع ، وهي ليست ملكاً لأحد وانما ملكاً لجميع المواطنين الذين يعيشون على ارض الوطن

علل / تعد المحافظة على الممتلكات العامة واجباً وطنياً على كل فرد؟

الجواب لأنها ليست ملكاً لأحد وانما ملكاً لجميع المواطنين الذين يعيشون على ارض الوطن.

علل / اكدت جميع الاديان حرمة الاعتداء على الممتلكات العامة او تخريبها أو العبث فيها أو سرقتها ؟

الجواب لان هذه الممتلكات وجدت لخدمة جميع الناس .

س/ اعط مثال ونماذج على الممتلكات العامة ؟

الجواب

جميع ابنية الدولة ومؤسساتها - الدوائر الحكومية واثاثها واجهزتها من الممتلكات العامة مثل (المستشفيات العامة - المدارس العامة - والمعاهد والجامعات - الشوارع والطرق والجسور - الحدائق والمنتزهات العامة)

فراغ / ان المحافظة على الممتلكات العامة صفة من صفات **المجتمعات المتقدمة** وهي دليل على وعي

المواطن ودليل على **امانته وحرصه وإخلاصه للوطن .**

حل اسئلة الوحدة الثالثة التربية الوطنية

س ١ / عرف ما يأتي ؟

١ / **البيئة** : هو المكان الذي تعيش فيه الكائنات الحية ، فضلا عن العناصر والمكونات غير الحية كالماء والهواء والتربة وغيرها من المعادن وما يرافقه من تأثير بين تلك المكونات لضمان استمرار الحياة .

٢ **حقوق الانسان** : هي مجموعة من المبادئ الاخلاقية والمعايير الاجتماعية التي تصف السلوك البشري و الذي يترجم بمجموعة من الحقوق الاساسية التي لا يجوز اللبس بها وهي مستحقة واصيلة لكل شخص لمجرد كونه انسان

٣ **القيم الوطنية** : هي مجموعة من المبادئ والضوابط التي تحدد سلوك المواطن في المجتمع الذي ينتمي اليه .

٤ **المواطنة** : هي كلمة مشتقة من كلمة الوطن وتعبر عن المكان الذي يعيش فيه الانسان ، وتتحد بموجبه الحقوق والواجبات التي تتضمن انتماء المواطن الى وطنه

٥ **الانتماء** : هي تلك الحالة التي يشعر بها الشخص بانضمامه الى مجموعة معينة بحيث تربطه بهذه المجموعة علاقة تنعكس ايجابا على سلوكه .

٦ **المشاركة السياسية** : وهي مفهوم مرتبط بالحياة السياسية والاجتماعية وتتمثل بإعطاء الحق الديمقراطي والدستوري لأفراد المجتمع البالغين كافة في المشاركة في صنع القرار السياسي .

٧ **التوعية المرورية** : ويقصد بها ان يكون جميع مستعملي الطرق من (سائقين - مشاة - راكبي درجات) على علم تام بقواعد المرور من اجل سلامة المراكب والمشاة .

س ٢ املأ الفراغات الاتية بما يناسبها :

١ - للنظافة العامة فوائد متعددة منها تزيد التعاون والمحبة بين الطلبة وتحافظ على الصحة العامة للطلبة .

٢ - تقسم حقوق الانسان من حيث المستفيد منها الى نوعين من الحقوق وهي حقوق فردية و حقوق جماعية .

٣ - ان المواطنة صفة يتميز بها الافراد الذين يعيشون على ارض دولة ما ، وبموجبها يحصلون على العديد من امتيازات التي تضم لهم العيش بحياة كريمة منها حق التعلم و حق العمل وحق المشاركة

في الحياة السياسية

٤- تقسم العلاقات الاجتماعية الى قسمين هما علاقات اجتماعية رسمية وعلاقات اجتماعية غير رسمية.

٥- للحوار والتفاهم فوائد عدة اهمها الصبر والاحترام.

س ٣ / علل ما يأتي:

١ اكدت جميع الأديان على حرمة الاعتداء على الممتلكات العامة أو تخريبها أو العبث فيها

الجواب لان هذه الممتلكات وجدت لخدمة جميع الناس.

٢ لا يمكن للإنسان أن يعيش حياة سليمة من دون المحافظة على النظافة

الجواب

الانها مصدر صحته وسلامته ، كما انها دليل تقدم المجتمعات وتطورها ولهذا اكدت جميع الأديان والحضارات البشرية على اهمية النظافة ودورها المهم في الحياة .

٣ تسعى الكثير من المجتمعات البشرية الى زرع الثقة المتبادلة بين افراد المجتمع .

الجواب

لأنها تؤدي الى استقرار المجتمع الى ان يعيش افراده بسلام وامان ، وانعدام الثقة المتبادلة بين الناس تؤدي الى تفكك العلاقات الانسانية سواء على الصعيد الاسرة والمجتمع ومن ثم غياب الاستقرار عن المجتمع .

س ٤ / عدد انواع حقوق الانسان من حيث موضوعها .

الجواب أ / حقوق مدنية وسياسية . ب حقوق اقتصادية واجتماعية. ج حقوق بيئية تنموية

س ٥ / تقسم واجبات الانسان بحسب طبيعة العلاقات على ثلاث اقسام عددها

الجواب

١ / علاقة الانسان مع الاخر ٢ علاقة الانسان في محيط عمله ٣ علاقته بوصفه مواطنا وجزء من افراد المجتمع تجاه وطنه .

س / عدد اهم السبل الكفيلة للمحافظة على البيئة .

الجواب

١ استعمال مصادر الطاقة النظيفة والمتجددة كالطاقة الكهربائية وطاقة الرياح والطاقة الشمسية بدلا عن الطاقة الملوثة الفحم والنفط .

٢ سن القوانين والانظمة التي تحد من ظاهر التلوث

- ٣ تشجيع الافراد على الرياضة ، لاسيما المشي وركوب الدرجات الهوائية والتقليل من استعمال السيارة
- ٤ نشر الوعي بين المواطنين عن طرق استعمال وسائل الاعلام لتوعية عن اخطار التلوث البيئي .
- ٥ ابعاد المؤسسات التعليمية او المستشفيات من مصادر التلوث الضوضائي .
- ٦ معالجة مياه الصرف الصناعية ومياه الصرف الصحي قبل طرحها الى المصادر المائية
- ٧ المحافظة على الغطاء النباتي والحد من انجراف التربة عن طريق زراعة الاشجار والمساحات الخضراء ومنع قطع الاشجار .
- ٨ الزام المصانع بوضع مرشحات للغازات والملوثات التي تطرحها الى البيئة .
- س٧ عدد اهم الوسائل الواجب اتباعها للمحافظة على الموارد الطبيعية .

الجواب

- ١- ترشيد استعمال الموارد الطبيعية والبشرية الماء - التربة - الثروات الاقتصادية والعمل على صيانتها مثل صيانة موارد المياه السطحية (الانهار) من خلال منع تلوثها .
- ٢- المحافظة على ديمومة هذه الموارد من خلال ترشيد استهلاكها وعدم الاضرار بها .
- ٣- استعمال تقنية التدوير ، ولاسيما الموارد القابلة للتدوير واعادة استعمالها على نحو سليم وامن .
- س ٨ عدد اهم القواعد الواجب اتباعها للمحافظة على النظافة الشخصية لتجنب العدوى من الأمراض .

الجواب

- ١- غسل اليدين بالماء والصابون بصورة متكررة مدة (٢٠) ثانية في الاقل والمحافظة على النظافة الشخصية .
- ٢- المحافظة على نظافة المرافق الصحية .
- ٣- تجنب لمس الفم او العينين او اي جزء من الوجه اذا كانت اليد غير نظيفة .
- ٤- استعمال المناديل الورقية عند العطاس
- ٥- استعمال المطهر عند الخروج من الحمامات ، والغرف الصفية والممرات و بالمخارج وبعد اللعب .
- ٦- تنظيف مباني المدرسة ، والغرف الصفية وتطهيرها ولاسيما مرافق المياه والصرف الصحي ولو لمره واحدة خصوصا الاسطح التي يلمسها عدد كبير من الاشخاص مثل طاولات الطعام والمعدات الرياضية ومقابض الأبواب مره باليوم على الاقل. والشبابيك والاعاب والوسائل التعليمية .
- ٧- ضمان التخلص من النفايات يوميا وطرحها في مكان امن .

س ٩ / هناك العديد من الطرق التي تجسد الانتماء الى الوطن ، عددها معززا اجابتك بأمثلة .

الجواب

أ / الامتثال الى احكام القواعد العامة وقواعد العمل والقواعد السلوكية والحفاظ على الممتلكات العامة وعلى نظافة الامكان العامة والشوارع الموجودة على ارض الوطن، من خلال المشاركة في الاعمال التطوعية والخيرية التي تهدف الى خدمة المجتمع .

ب / اعتماد اسلوب الحوار الواعي عند وقوع الخلافات والنزاعات سواء كان ذلك بين الأفراد او الجماعات المختلفة والابتعاد عن السلوكيات السلبية التي تتمثل باستعمال العنف وسيلة لحل المشكلات والنزاعات والتعاون مع الاعداء للأضرار بمصلحة الوطن والمجتمع وعدم الالتزام بالقوانين فضلا عن سرقة الاموال والاملاك العامة الاعتداء على حرمتها .

ج / ان الانتماء للوطن يزيد من قوة الترابط بين الاشخاص وذلك لحبهم لوطنهم، وهذا يعود على الوطن بالنجاح والنهضة والتقدم لبناء المجتمع

س ١٠ / ما المقصود بالعلاقات الاجتماعية وما انواعها ، وضح اجابتك بأمثلة .

الجواب

تعريفها هي احدى صور القيم الاجتماعية ويقصد بها الروابط الاجتماعية القائمة بين الافراد او عامة المجتمع .

١ العلاقات الاسرية : العلاقة بين افراد الاسرة الاب والابناء

٢ العلاقة مع الجيران : التسامح والابتعاد عن الخلافات والتعاضى عن العيوب

٣ العلاقة مع الاصدقاء : يحرص الاهل دائما على متابعة اصدقاء ابنائهم وتوجيه الابناء لأختيار الاصدقاء الجيدين

٤ العلاقة مع افراد المجتمع : احترام عادات المجتمع - احترام ادابه العامة وقوانينه - الالتزام بالأنظمة والقوانين السائدة له.

س ١١ / ما المقصود بالثقة المتبادلة ، وضح اجابتك بأمثلة .

الجواب

هي شعور متبادل يعبر عن الايمان بصدق الاخرين وامانتهم واخلاصهم . نثق بالمعلم وهو يثق بقدراتنا - نثق بالطبيب وهو يثق بتعاون المرضى معه - نثق بأبائنا وهم يثقون باننا نسمع توجيهاتهم .

س ١٢ / للتواصل الاجتماعي فوائد عدة ، عددها

الجواب

تقوية العلاقات الاجتماعية بين الناس - شعور الافراد بالأمن في المجتمع - الذي يعيشون فيه - زيادة التعاون بين الافراد - استمرار اللفة والمحبة بين افراد المجتمع .

س ١٣ / يعد الانترنت سلاح ذو حدين ، على الرغم من اهميته ، اذ لا تخلو برامجه من سلبيات عدة ، ولا سيما انه عالم مفتوح وواسع لا تحكمه اي قيود ولا شروط عدد اهم سلبياته

الجواب

السلبيات

❌ ضياع الوقت

❌ الاختراق والتجسس ❌ الترويج للأفكار السيئة

❌ مشاكل صحية ❌ تزوير الحقائق

نبيل عبد الكريم

تمت بحمد الله وتوفيقه

مدرس الحادة

الأستاذ : نبيل عبد الكريم

جمهورية العراق – وزارة التربية
التمهيدي ٢٠٢٢ – ٢٠٢٣
الوقت : ثلاث ساعات



الرقم الامتحاني :

اللجنة الدائمة لامتحانات العامة
الدراسة : المتوسطة
المادة : الاجتماعيات
اسم الطالب :

ملاحظة : الإجابة عن خمسة أسئلة فقط ، ولكل سؤال (٢٠) درجة .

س ١ : عرف خمسا مما يأتي :
النبات الطبيعي ، المياه الجوفية ، التركيب النوعي للسكان ، جالديران ، العقداء الأربعة ، حقوق الإنسان

- س ٢ : (أ) أملأ الفراغات بما يناسبها لخمس من العبارات الآتية :
(١) يُعد إقليم أوسع الأقاليم المناخية في العراق من حيث المساحة .
(٢) تشغل المنطقة المتموجة نحو % من مساحة العراق .
(٣) من المحاصيل الصيفية تُعد غذاء للسكان ومادة أولية في صناعة الزيوت النباتية .
(٤) تتركز صناعة الزجاج في محافظة
(٥) وقعت معركة بين الثوار والقوات البريطانية في منطقة الرستمية بين الحلة والكفل .
(٦) هي شعور متبادل يعبر عن الإيمان بصدق الآخرين وأمانتهم وإخلاصهم .
(ب) اكتب عن نهر دجلة من المنبع حتى دخوله الأراضي العراقية ، وما اسم أول روافده داخل العراق ؟

- س ٣ : علل خمسا مما يأتي :
(١) تعاني منطقة السهل الرسوبي من صعوبة كبيرة في تصريف المياه .
(٢) انعدام سقوط الأمطار في فصل الصيف .
(٣) ارتفاع معدلات النمو السكاني في العراق .
(٤) تُعد ثورة العشرين في العراق حدثاً مهماً في تاريخه المعاصر .
(٥) دعت بريطانيا عام ١٨٥٧م إلى مد سكة حديد الفرات .
(٦) سعت جميع الأمم والمجتمعات إلى الاهتمام بالعلم والمعرفة .
س ٤ : (أ) ارسم خريطة العراق موضحاً عليها نهري دجلة والفرات ، ثم عيّن عليها ثلاثة من المواقع الآتية :
إقليم مناخ السهوب ، السهل الرسوبي ، مصفى الدورة ، هور الحمّار .
(ب) عدّد خمسا من الإصلاحات التي قام بها الوالي (مدحت باشا) في العراق .
س ٥ : (أ) اكتب كلمة (صح) أمام العبارة الصحيحة وكلمة (خطأ) أمام العبارة غير الصحيحة لكل مما يأتي :
(١) مد سكة حديد (برلين – بغداد) يُعد هدفاً توسعياً لبريطانيا في ممتلكات الدولة العثمانية .
(٢) تتميز طرق النقل البرية بأنها الأوسع انتشاراً والأكثر طولاً .
(٣) ترتبط السياحة البيئية بالأمكن الدينية .
(٤) القيم الاجتماعية هي مجموعة من المبادئ الفطرية المكتسبة التي تحدد تعامل الفرد مع غيره .
(٥) فرض الانتداب البريطاني على العراق وسوريا ولبنان بعد مؤتمر سان ريمو .
(ب) لماذا يوصف الاقتصاد العراقي بأنه (اقتصاد أحادي الجانب) ؟ وما الخصائص الأساسية لتجارة العراق الخارجية ؟

- س ٦ : (أ) (من نتائج الحكم العثماني في العراق تزايد المعارضة العراقية ضد العثمانيين) .
وضّح هذه العبارة معززاً إجابتك بأبرز الانتفاضات .
(ب) أجب عن أولاً أو ثانياً :
أولاً : عدّد أهم مشاريع السيطرة والخرن المقامة على نهر الفرات .
ثانياً : عدّد خمسة من المطارات الدولية في العراق .

باركود الاجوبة
والملاحظات
وتقسيم الدرجة



جمهورية العراق - وزارة التربية
الامتحان التمهيدي ٢٠٢٣ - ٢٠٢٤
الوقت : ثلاث ساعات



اللجنة الدائمة للامتحانات العامة
الدراسة : المتوسطة
المادة : الاجتماعيات
اسم الطالب :

الرقم الامتحاني :

ملاحظة : الإجابة عن خمسة أسئلة فقط ، ولكل سؤال (٢٠) درجة .

س١ : عرف خمسا مما يأتي :

وادي حوران ، الطقس ، الأهوار الوسطى ، مدحت باشا ، معركة الشعبية ، المواطنة .

س٢ : أ) اكتب كلمة (صح) أمام العبارة الصحيحة وكلمة (خطأ) أمام العبارة غير الصحيحة :

(١) يتمثل إقليم مناخ البحر المتوسط ضمن منطقة السهل الرسوبي .

(٢) للمياه الجوفية أهمية كبيرة في المناطق ذات المناخ الصحراوي .

(٣) ترتبط السياحة البيئية بالأماكن الدينية .

(٤) أنهم الرأي العام في العراق بريطانيا بتدبير حادث مقتل الملك (غازي) .

(٥) النظافة العامة تعني المحافظة على نظافة البيئة التي يعيش فيها الإنسان .

ب) ارسم خريطة العراق موضحاً عليها نهري دجلة والفرات ، ثم عيّن عليها ثلاثة من المواقع الآتية :

حقل جمبور ، هور الحويزة ، السهل الرسوبي ، بحيرة الثرثار .

س٣ : علل خمسا مما يأتي :

(١) تُعد المنطقة الجبلية في العراق أحد أهم المصادر المائية .

(٢) ارتفاع معدلات النمو السكاني في العراق .

(٣) تطوّر طرق النقل الجوية في العراق .

(٤) تتدخل القوى الأوروبية لا سيما البريطانية والفرنسية والألمانية في أوضاع العراق خلال الحكم العثماني .

(٥) تسمية الهند بـ (درة التاج البريطاني) .

(٦) سعت جميع المجتمعات إلى الاهتمام بالعلم .

س٤ : أجب عن فرعين مما يأتي :

أ) يوصف الاقتصاد العراقي بأنه (اقتصاد أحادي الجانب) ، وضح ذلك ، ثم عدّد الخصائص الأساسية لتجارة العراق الخارجية .

ب) عدّد الشروط الواجب توافرها في أية دولة تريد إنهاء الانتداب .

ج) أين يتركز الكبريت في العراق ؟ وما أهم استعمالاته ؟

س٥ : أ) املأ الفراغات الآتية بما يناسبها : (١٠ درجات)

(١) المنخفضات الجوية القادمة من هي السبب الرئيس لتساقط الأمطار في العراق .

(٢) من أهم أنواع الرز الذي تكثر زراعته في منطقة الفرات الأوسط هو

(٣) يُعدّ نهر ثاني أطول نهر عربي بعد نهر النيل .

(٤) للثروات المعدنية دوراً مهماً في الاقتصاد العراقي وفي مقدمتها

(٥) أول مدرسة أسسها الوالي (مدحت باشا) في العراق هي

ب) انسب المشاريع الآتية إلى أنهارها لخمس مما يأتي :

بحيرة الحبانية ، سدّ الكوت ، سد دوكان ، سدّ الهندية ، سدّ العمارة ، سدّ ديالى .

ج) ماذا نعني بالعلاقة الأسرية ؟ وما أهم صفاتها ؟ (٥ درجات)

س٦ : أجب عن فرعين مما يأتي :

أ) عدّد (خمسا) من مشاكل القطاع الزراعي في العراق .

ب) عدّد (خمسا) من نتائج ثورة العشرين في العراق .

ج) وضح دور العوامل الإدارية والدينية في توزيع سكان العراق .

جمهورية العراق – وزارة التربية

الدور الأول ٢٠٢٢ – ٢٠٢٣

الوقت : ثلاث ساعات

الرقم الامتحاني :



اللجنة الدائمة للامتحانات العامة

الدراسة : المتوسطة

المادة : الاجتماعيات

اسم الطالب :

ملاحظة : الإجابة عن خمسة أسئلة فقط ، ولكل سؤال (٢٠) درجة .

س ١ : عرف خمسا مما يأتي :

المناخ ، شط العرب ، نمو السكان ، مدحت باشا ، جمعية العهد العراقية ، المواطنة .

س ٢ : أ) اكتب كلمة (صح) أمام العبارة الصحيحة وكلمة (خطأ) أمام العبارة غير الصحيحة لكل مما يأتي :

- (١) يُعد تلوث البيئة من أبرز التحديات التي تواجهها المجتمعات اليوم .
- (٢) توفي الملك (غازي) في سويسرا بمرض انسداد الشرايين .
- (٣) مد سكة حديد (برلين – بغداد) يُعد هدفاً توسعياً لألمانيا في ممتلكات الدولة العثمانية .
- (٤) كان اهتمام السلاطين العثمانيين بالعراق على أساس أنه مصدر من مصادر تمويل الخزنة العثمانية .
- (٥) فرض الانتداب البريطاني على سوريا ، والفرنسي على العراق وشرق الأردن بعد مؤتمر سان ريمو .

ب) ارسم خريطة العراق موضحاً عليها نهري دجلة والفرات ، ثم عيّن عليها ثلاثة من المواقع الآتية :

الهضبة الغربية ، جبل هلكرد ، حقل عين زالة ، هور الحمار .

س ٣ : علل خمسا مما يأتي :

- (١) يُعد الموقع الفلكي من أكثر العوامل المؤثرة في مناخ العراق .
- (٢) كثرة تعرّجات مجرى نهر دجلة في المنطقة الواقعة شمال مدينة بغداد والكوت .
- (٣) تُعد الحبوب من أهم المحاصيل الزراعية .
- (٤) لم تكن الدولة العثمانية قادرة على التصدي للقوات البريطانية عندما أرادت احتلال العراق من ناحية العدد والعدة .
- (٥) وجهت الحكومة الأمريكية الدعوة إلى الحكومة العراقية لحضور مؤتمر هيئة الأمم المتحدة عام ١٩٤٥م .
- (٦) يُعد استعمال الإنترنت من أكثر مسببات ضياع الوقت وخاصة بين الشباب .

س ٤ : أجب عن فرعين مما يأتي :

- أ) ما هي الأهوار والمستنقعات ؟ ثم بيّن بنقاط أهمية الأهوار في جنوب العراق .
- ب) اذكر خمسة من الأسباب الداخلية لثورة العشرين .
- ج) ماذا نعني بالصناعات التحويلية ؟ اذكر أربعاً منها .

س ٥ : أ) اختر الإجابة الصحيحة من بين الأقواس لخمس مما يأتي :

- (١) تتركز صناعة الزجاج في محافظة (ديالى ، بابل ، الأنبار) .
- (٢) التبغ والتبناك من المحاصيل (الشتوية ، الربيعية ، الصيفية) .
- (٣) دراسة توزيع السكان بين الحضر والريف يقصد به التركيب (البيئي ، النوعي ، العمري) للسكان .
- (٤) من الحقول النفطية في محافظة ميسان حقل (الأحدب ، بزركان ، مجنون) .
- (٥) الخبّاز والحلبة والبابونك من النباتات (المعمرة ، النفضية ، الحولية) .
- (٦) يتركز الكبريت الحر في محافظتي (نينوى وصلاح الدين ، بغداد وواسط ، النجف وكربلاء) .

ب) ما الأسباب التي جعلت الأنظار تتجه نحو شخصية الأمير (فيصل بن الحسين) لتولي عرش العراق ؟ (٥ درجات)

ج) يُعد العلم ضرورة لا يمكن الاستغناء عنه في أي مجتمع ، وله فوائد عدّة وضّحها بإيجاز . (٥ درجات)

س ٦ : أ) انسب خمسا من المشاريع التالية إلى أنهارها :

بحيرة الحنّانية ، سدة الكوت ، سد وبحيرة دوكان ، سد وبحيرة دربندخان ، سد وبحيرة العظيم ، سدة العمارة .

ب) عدّد خمسا من بنود لائحة الانتداب على العراق التي قدّمتها بريطانيا إلى عصبة الأمم المتحدة .



جمهورية العراق - وزارة التربية
الدور الثاني ٢٠٢٢ - ٢٠٢٣
الوقت : ثلاث ساعات



الرقم الامتحاني :

اللجنة الدائمة للامتحانات العامة
الدراسة : المتوسطة
المادة : الاجتماعيات
اسم الطالب :

ملاحظة : الإجابة عن خمسة أسئلة فقط ، ولكل سؤال (٢٠) درجة .

س١ : عرف خمسا مما يأتي :

شهرزور ، الأهوار الوسطى ، العنبر ، الانتداب ، سليم الأول ، الانتماء .

س٢ : أ) أملأ الفراغات بما يناسبها لخمس من العبارات الآتية :

- ١) يقع العراق في الجزء من قارة آسيا .
- ٢) توجد الفوسفات في منطقة الصحراء الغربية ضمن محافظة الأنبار في منطقة
- ٣) تتركز صناعة تجميع السيارات في محافظة
- ٤) أول مدرسة أسسها الوالي (مدحت باشا) في العراق هي المدرسة
- ٥) أعلن عن تشكيل (حكومة الدفاع الوطني) في العراق برئاسة
- ٦) إن التعرض بصورة مستمرة إلى الأصوات العالية غير المرغوب بها يسمى التلوث

ب) ميز بين إقليم مناخ السهوب وإقليم المناخ الصحراوي في العراق .

س٣ : أ) ارسم خريطة العراق موضحاً عليها نهري دجلة والفرات ، ثم عين عليها ثلاثة من المواقع الآتية :
(سد وخران الثرثار ، سلسلة جبال حصاروست ، حقل نفط خانة ، المنطقة شبه الجبلية) .

ب) بين بنقاط أسباب احتلال بريطانيا مدينتي العمارة والناصرية عام ١٩١٥ ، مبيّناً حجم الخسائر للقوات البريطانية والقوات العثمانية .

س٤ : أ) اكتب كلمة (صح) أمام العبارة الصحيحة وكلمة (خطأ) أمام العبارة غير الصحيحة لكل مما يأتي :

- ١) يُعدّ البحر الأحمر من أكثر البحار تأثيراً في مناخ العراق .
 - ٢) تقع سدة سامراء على نهر الفرات .
 - ٣) يتميز الغاز الطبيعي بأنه الوقود الأنظف والأقل إصداراً للانبعاثات الملوثة في الجو .
 - ٤) أسست جمعية العهد العراقية السرية في دمشق عام ١٩١٩ .
 - ٥) الثقة المتبادلة هي شعور متبادل يعبر عن الإيمان بصدق الآخرين وأمانتهم وإخلاصهم .
- ب) يعاني القطاع الزراعي والحيواني في العراق مجموعة من المشكلات ، عدّد خمسا منها فقط .

س٥ : علل أربعاً مما يأتي :

- ١) يحتل موقع العراق الجغرافي مكانة مهمة بالنسبة لدول العالم .
- ٢) لمحصول القطن استعمالات متعددة .
- ٣) يُعدّ النقل المائي من أسهل وأرخص وسائل النقل .
- ٤) التوسع الأوربي باتجاه الشرق خلال القرن السادس عشر .
- ٥) قرار (مدحت باشا) الاعتماد على المواطنين العراقيين في تركيبة الجيش بدلاً من العنصر الأجنبي .

س٦ : أجب عن فرعين فقط مما يأتي :

- أ) كيف تكوّن السهل الرسوبي ؟ وبم يتميز ؟
- ب) وضّح أهمية معركة الرارنجية للثوار ضد القوات البريطانية .
- ج) عدّد (خمسا) من أهم القواعد الواجب اتباعها للمحافظة على النظافة الشخصية لتجنّب العدوى والأمراض .



جمهورية العراق - وزارة التربية
الدور الثالث ٢٠٢٢ - ٢٠٢٣
الوقت : ثلاث ساعات



الرقم الامتحاني :

اللجنة الدائمة للامتحانات العامة
الدراسة : المتوسطة
المادة : الاجتماعيات
اسم الطالب :

ملاحظة : الإجابة عن خمسة أسئلة فقط ، ولكل سؤال (٢٠) درجة .

س ١ : عرف خمسة "مما يأتي" :

الطقس ، العثمانيون ، التركيب السكاني ، البيئة ، الصناعات التحويلية ، المحاصيل الزيتية .

س ٢ : أ) اكتب كلمة (صح) أمام العبارة الصحيحة وكلمة (خطأ) أمام العبارة غير الصحيحة لكل مما يأتي :

- (١) يُعدّ هور الحويزة من الأهوار الكبيرة في العراق .
- (٢) يوصف الاقتصاد العراقي بأنه اقتصاد متعدد الجوانب لا يعتمد على سلعة واحدة .
- (٣) تستعمل الفوسفات في الكثير من الصناعات أهمها تحضير حامض الكبريتيك .
- (٤) النظافة العامة تعني المحافظة على نظافة البيئة التي يعيش فيها الإنسان .
- (٥) اتّسم الوضع السياسي في العراق قبيل الحرب العالمية الثانية بالاستقرار .

(ب) وضّح دور العوامل الطبيعية في توزيع سكان العراق .

س ٣ : أ) ارسـم خريطة العراق موضّحاً عليها نهري دجلة والفرات ، ثمّ عيّن عليها ثلاثة من المواقع الآتية :
(السهل الرسوبي ، حقل عين زالة النفطي ، بحيرة الحبانية ، جبل بيخير) .

(ب) وضّح بنقاط نتائج الحكم العثماني في العراق .

س ٤ : أ) املا الفراغات بما يناسبها لخمس من العبارات الآتية :

- (١) احتلّت محافظة المرتبة الأولى في زراعة الرز .
- (٢) يحتلّ نطاق السهوب نحو من مساحة العراق .
- (٣) الخبز والحلبة والبابونج من النباتات
- (٤) أول جريدة رسمية في تاريخ العراق سُمّيت صدر العدد الأوّل منها في (١٥ حزيران عام ١٨٦٩) .
- (٥) هي كلمة مشتقة من مصطلح الوطن وتعبّر عن المكان الذي يعيش فيه الإنسان .
- (٦) من أسهل وأرخص وسائل النقل هو النقل

(ب) ميّز بين إقليم مناخ البحر المتوسط وإقليم المناخ الصحراوي في العراق .

س ٥ : علل خمسا مما يأتي :

- (١) للسياسة أهمية اقتصادية .
- (٢) تُعدّ المنطقة الجبلية أحد أهم المصادر المائية .
- (٣) للمياه الجوفية أهمية كبيرة في المناطق ذات المناخ الصحراوي .
- (٤) اتهم الرأي العام في العراق بريطانيا بتدبير حادث مقتل الملك (غازي) .
- (٥) تراجع القوات البريطانية إلى منطقة الكوت بعد سلسلة من المعارك مع قوات الدولة العثمانية بقيادة القائد (نور الدين) .
- (٦) أكدت جميع الأديان حرمة الاعتداء على الممتلكات العامة .

س ٦ : أجب عن فرعين فقط مما يأتي :

- (أ) انسب (خمسة) من المشاريع التالية إلى أنهارها :
سد وبحيرة حميرين ، سدة الرمادي ، سد وخزان الثرثار ، سدة الهندية ، سدة دبس ، سدة الكوفة .
- (ب) عدد (خمسا) من نتائج ثورة العشرين .
- (ج) عدد (خمسة) من السبل الكفيلة للمحافظة على البيئة .



جمهورية العراق - وزارة التربية
الدور الأول ٢٠٢٣ - ٢٠٢٤
الوقت : ثلاث ساعات



اللجنة الدائمة للامتحانات العامة
الدراسة : المتوسطة
المادة : الاجتماعيات
اسم الطالب :

الرقم الامتحاني :

ملاحظة : الإجابة عن خمسة أسئلة فقط ، ولكل سؤال (٢٠) درجة .

س ١ : عرف خمسا مما يأتي :

التوعية المرورية ، الهلال الخصيب ، سليمان القانوني ، النباتات المعمرة ، بحيرة الموصل ، جالديران .

س ٢ : أ) اكتب كلمة (صح) أمام العبارة الصحيحة وكلمة (خطأ) أمام العبارة غير الصحيحة لـ (أربع) مما يأتي : (١٢ درجة)
(١) عند مدينة الكوت وتحديدًا عند سدة الكوت يتفرع نهر دجلة من ضفته اليمنى إلى جداري الغراف والبتيرة .
(٢) الصناعات التحويلية هي الصناعات التي يقتصر نشاطها على تحويل المواد الأولية إلى منتجات بسيطة أو منتجات نهائية .

(٣) يقصد بنمو السكان توزيع السكان بين الريف والحضر .

(٤) جمعية العهد العراقية هي جمعية سرية تأسست في دمشق عام ١٩١٩ .

(٥) العمل التطوعي هو أن يخصص الإنسان جزءاً من وقته الخاص للقيام بعمل عام برغبة ذاتية .

(ب) أجب عن واحد مما يأتي :

(٨ درجات)

(١) كلّفت بريطانيا الضابط البريطاني (فرنسيس رودن) بعملية مسح وتحريّ لنهر الفرات ، وضّح أسباب أهمية نهر الفرات عند البريطانيين .
(٢) وضّح بنقاط أهمية السياحة والاصطياف .

س ٣ : أ) املا الفراغات الآتية بما يناسبها :

(١) يُعد المنخفض الجوي القادم من السبب الرئيسي لتساقط الأمطار في العراق .

(٢) التبغ من المحاصيل الصيفية ويزرع في محافظة

(٣) قامت الملكة (إليزابيث) الأولى بحماية التجارة البريطانية مع

(٤) تقسم نباتات السهوب إلى و

(ب) ما أهمية الثروة الحيوانية ؟

س ٤ : أ) ارسم خريطة العراق موضحاً عليها ما يأتي :

محافظة المثنى ، حقل جمبور ، صناعة الأثاث المنزلي ، محافظة البصرة .

(ب) عدد (خمسة) من بنود لائحة الانتداب البريطاني على العراق التي قدمتها بريطانيا إلى عصبة الأمم .

س ٥ : أ) قارن بين إقليم البحر المتوسط وإقليم المناخ الصحراوي . (١٢ درجة)

(ب) أجب عن (اثنين) مما يأتي :

(١) ما اسم أكبر المستعمرات البريطانية في الهند ؟ ولماذا سميت بهذا الاسم ؟

(٢) انسب المحاصيل الآتية إلى موسم زراعتها : (الذرة الصفراء ، الشعير) .

(٣) عدّد فقط أنواع العلاقات الاجتماعية .

س ٦ : أجب عن فرعين مما يأتي :

(أ) أهم الحقوق التي تضمنتها حقوق الإنسان من حيث المستفيدين .

(ب) أكتب في موضوع (وفاة الملك غازي) بصورة مفصلة .

(ج) عدّد أهم مشاريع السيطرة والخزن المقامة على نهر الفرات .

جمهورية العراق - وزارة التربية
الدور الثاني ١٤٤٦هـ - ٢٠٢٤م
الوقت : ثلاث ساعات



اللجنة الدائمة للامتحانات العامة
الدراسة : المتوسطة
المادة : الاجتماعيات
اسم الطالب :

الرقم الامتحاني :

ملاحظة : الإجابة عن خمسة أسئلة فقط ، ولكل سؤال (٢٠) درجة .

س١ : عرف خمسا مما يأتي :

التضاريس ، نمو السكان ، القطن ، جمعية العهد العراقية ، درة التاج البريطاني ، السلامة المرورية .

س٢ : علل (خمسا) مما يأتي :

- (١) تتركز زراعة زهرة الشمس والسمسم في المنطقتين الشمالية والوسطى .
- (٢) للمياه الجوفية أهمية كبيرة لا سيما في المناطق ذات المناخ الصحراوي .
- (٣) يُعدّ العراق مهد الحضارات .
- (٤) قررت العثمانية بقيادة القائد (سليمان العسكري) الانسحاب باتجاه منطقة الشعيبة .
- (٥) بدء التوسع الأوربي باتجاه الشرق خلال القرن السادس عشر .
- (٦) يحرص الأهل دائما على متابعة أصدقاء أبنائهم ، وتوجيه الأبناء إلى اختيار أصدقاء جيدين وصالحين .

س٣ : املأ الفراغات الآتية بما يناسبها :

- (١) بالقرب من مدينة سوق الشيوخ يتفرع نهر الفرات إلى عدة جداول تُسمى
- (٢) يضم وطننا العديد من الموانئ البحرية في شط العرب منها ميناء الذي يقع في منطقة أبو خصيب في محافظة البصرة .
- (٣) تُعد درجة الحرارة من أهم عناصر
- (٤) أسقطت فرنسا حكومة الأمير (فيصل بن الحسين) في سوريا في معركة
- (٥) تقسم حقوق الإنسان من حيث المستفيدين منها إلى نوعين هما و

س٤ : أ) ارسم خريطة العراق موضحا عليها ما يأتي :

هور الحويزة ، السهل الرسوبي ، جبل سنجار ، محافظة السليمانية .

ب) ضع كلمة (صح) أمام العبارة الصحيحة وكلمة (خطأ) أمام العبارة غير الصحيحة لـ (خمس) مما يأتي :

- (١) تتميز طرق النقل النهرية بأنها الأكثر طولاً والأوسع انتشاراً .
- (٢) تقع سدة سامراء على نهر الفرات .
- (٣) اتهم الرأي العام في العراق بريطانيا بتدبير حاد مقتل الملك غازي .
- (٤) منطقة التلال تشكل الحدود الجنوبية للمنطقة شبه الجبلية .
- (٥) يُعد استعمال الانترنت من أكثر مسببات ضياع الوقت .
- (٦) الترويج للأفكار السيئة يكون الهدف منه التشجيع على العلاقات غير الصحيحة والغريبة .

س٥ : أجب عن (اثنين) مما يأتي :

- (١) وضح بنقاط أهمية الزراعة في العراق .
- (٢) تحدث عن ثورة العشرين في كردستان العراق .
- (٣) عدّد أهم الشروط التي وضعها مجلس عصبة الأمم الواجب توفرها في أية دولة تريد إنهاء الانتداب .

س٦ : أ) انسب السود الآتية إلى الأنهار والروافد : سدة دبس ، سد وبحيرة دربندخان ، سدة وبحيرة العظيم ، سدة الهندية ، سدة وبحيرة حديثة .

ب) أجب عن (واحد) فقط :

- (١) قارن بين القيم والقيم الوطنية من ناحية التعريف فقط .
- (٢) يُعد طلب العلم والمعرفة من أهم القضايا الاجتماعية العامة ، وضح بالتفصيل .

جمهورية العراق - وزارة التربية
الدور الثالث ٢٠٢٣ - ٢٠٢٤ م
الوقت : ثلاث ساعات



اللجنة الدائمة للامتحانات العامة
الدراسة : المتوسطة
المادة : الاجتماعيات

الرقم الامتحاني :

اسم الطالب :

ملاحظة : الإجابة عن خمسة أسئلة فقط ، ولكل سؤال (٢٠) درجة .

س ١ : عرف خمسا مما يأتي :

المناخ ، نطاق السهوب (الاستبس) ، العثمانيون ، الواجبات ، البيئة ، جمعية العهد العراقيه .

س ٢ : علل (خمسا) مما يأتي :

(١) يُعدّ الطريق الذي يمرّ بالعراق ليصل البحر المتوسط ثم بالخليج العربي من أفضل الطرق التي توصل بريطانيا بالهند .

(٢) الانتماء للوطن يزيد من قوة الترابط بين الأشخاص .

(٣) كثرة تعرجات نهر دجلة ما بين شمال بغداد والكوت .

(٤) لا يمكن لكل إنسان أن يعيش حياة سليمة من دون نظافة .

(٥) تتميز المنطقة الجبلية بكونها أحد مصادر المياه في وطننا العراق .

(٦) يُعدّ نظام الطابو أحد أبرز إصلاحات (مدحت باشا) .

س ٣ : أ) املأ الفراغات الآتية بما يناسبها :

(١) يُسمّ الوضع السياسي في العراق قبيل الحرب العالمية الثانية بـ

(٢) من أنواع العلاقات الاجتماعية و

(٣) النباتات الحولية هي نباتات فصلية تنمو خلال الموسم الملائم لها مثل

(٤) في عام ١٨٤٠ أسس في بغداد شركة للملاحة في نهر دجلة وكانت لها باخرتان أحدهما تدعى

ب) ارسم خريطة العراق موضّحا عليها : محافظة دهوك ، هور الحمّار ، هضبة الجزيرة ، محافظة الأنبار .

س ٤ : أ) ماذا نقصد بـ (التجارة الداخلية) ؟ وما العوامل التي ساعدت على نشاطها ؟ عدّها فقط .

ب) أجب عن (واحد) مما يأتي :

(١) اكتب عن أهمية طلب العلم والمعرفة في المجتمع .

(٢) منحت الدولة العثمانية امتيازات للتجار الإنكليز ، وضّح هذه الامتيازات .

س ٥ : أجب عن (واحد) مما يأتي :

(١) تُعدّ معركة الشعبية من المعارك الحاسمة في تاريخ العراق وذلك لأسباب عديدة ، اذكر هذه الأسباب .

(٢) ما أهمية السياحة والاصطياف ؟ عدد مع الشرح .

س ٦ : أ) وضّح بالتفصيل حقوق الإنسان من حيث موضوعها .

ب) أين تتركز زراعة الرز في العراق ؟ وما أهم أنواعه ؟

جمهورية العراق - وزارة التربية
الدور الأول / ٢٠٢٤ - ٢٠٢٥
الوقت : ثلاث ساعات



اللجنة الدائمة للامتحانات العامة
الدراسة : المتوسطة
المادة : الاجتماعيات
اسم الطالب :

الرقم الامتحاني :

ملاحظة : الإجابة عن خمسة أسئلة فقط ، ولكل سؤال (٢٠) درجة .

س١ : عرف (خمسا) ممّا يأتي :

المنطقة الجبلية ، الطقس ، المحاصيل الغذائية ، التوعية المرورية ، مدحت باشا ، العقدا الأربعة ، المواطنة .

س٢ : أ) ضع كلمة (صح) أمام العبارة الصحيحة وكلمة (خطأ) أمام العبارة غير الصحيحة لكل من العبارات الآتية :

- ١) الأسباب الاقتصادية هي من أهم أسباب الهجرة نظراً لارتفاع نسبة البطالة وقلة فرص العمل .
- ٢) تُطلق تسمية الذهب الأسود على النفط الخام لأنه يُعدّ من أهم الثروات الطبيعية في العالم .
- ٣) يُقصد بالتركيب البيئي للسكان هو تقسيم السكان إلى ذكور وإناث وإيجاد النسبة بينهما .
- ٤) تنتشر زراعة النخيل في العراق في المنطقة الجبلية .
- ٥) احتل السلطان (سليمان القانوني) بغداد عام ١٥٣٤ بعد انتصاره على الصفويين .

ب) ارسم خريطة العراق موضحاً عليها نهري دجلة والفرات ، وثلاث من المواقع الآتية : سهل السندي ، شط العرب ، مصفى الدورة ، سد وبحيرة الموصل ، زراعة فسق الحقل .

س٣ : علل (خمسا) ممّا يأتي :

- ١) تتعرض الهضبة الصحراوية الغربية لعوامل التعرية الشديدة .
- ٢) يفضل السكان عادة السكن في المناطق السهلية .
- ٣) بالرغم من وجود العديد من المسطحات المائية التي تحيط بوطننا العراق إلا أنّ تأثيرها يكاد يكون محدوداً .
- ٤) تُعد ثورة العشرين في العراق حدثاً مهماً في تاريخه المعاصر .
- ٥) دعت بريطانيا عام ١٨٥٧ إلى مدّ سكة حديد الفرات في العراق .
- ٦) فكرت بريطانيا من خلال شركة الهند الشرقية الإستفادة من نهري دجلة والفرات في النقل المائي في القرن التاسع عشر .

س٤ : أجب عن فرعين ممّا يأتي :

- أ) ما أهم صفات درجات الحرارة في العراق ؟
- ب) ماذا تضمّنت معاهدة السلم في مضيق الدردنيل عام ١٨٠٩ بين بريطانيا والدولة العثمانية ؟
- ج) عرّف (السياحة) ، وتكلم بإيجاز عن السياحة الأثرية في العراق .

س٥ : أكمل (خمسا) من العبارات الآتية بما يناسبها :

- ١) العلاقات الاجتماعية تقسم إلى و
- ٢) اقترح الجنرال (سمطس) من اتحاد جنوب أفريقيا نظام
- ٣) تقرر في الاجتماع ووفقاً للقانون الأساسي العراقي إعلان فيصل ملكاً على العراق باسم الملك
- ٤) وضعه تحت وصاية خاله الأمير
- ٥) هي الأشكال السطحية التي تتكون منها القشرة الأرضية من جبال وتلال وهضاب وسهول ووديان .
- ٥) الأقاليم المناخية في العراق هي إقليم مناخ البحر المتوسط وإقليم و
- ٦) الأهوار الكبيرة في جنوب العراق هي الأهوار الوسطى وهور و

س٦ : أجب عن فرعين ممّا يأتي :

- أ) معركة الرارنجية من أهم المعارك التي شهدتها ثورة العشرين ، تكلم عنها بإيجاز .
- ب) عدّد فقط أهم مشاريع السيطرة والخزن المقامة على نهر الفرات .
- ج) إنّ شبكة الإنترنت عالم مفتوح وواسع لا تحكمه أي قيود ولا شروط ، ما هي سلبيات الإنترنت ؟ عدّها فقط .